

第三单元素养通关

一年级数学上册（RJ）

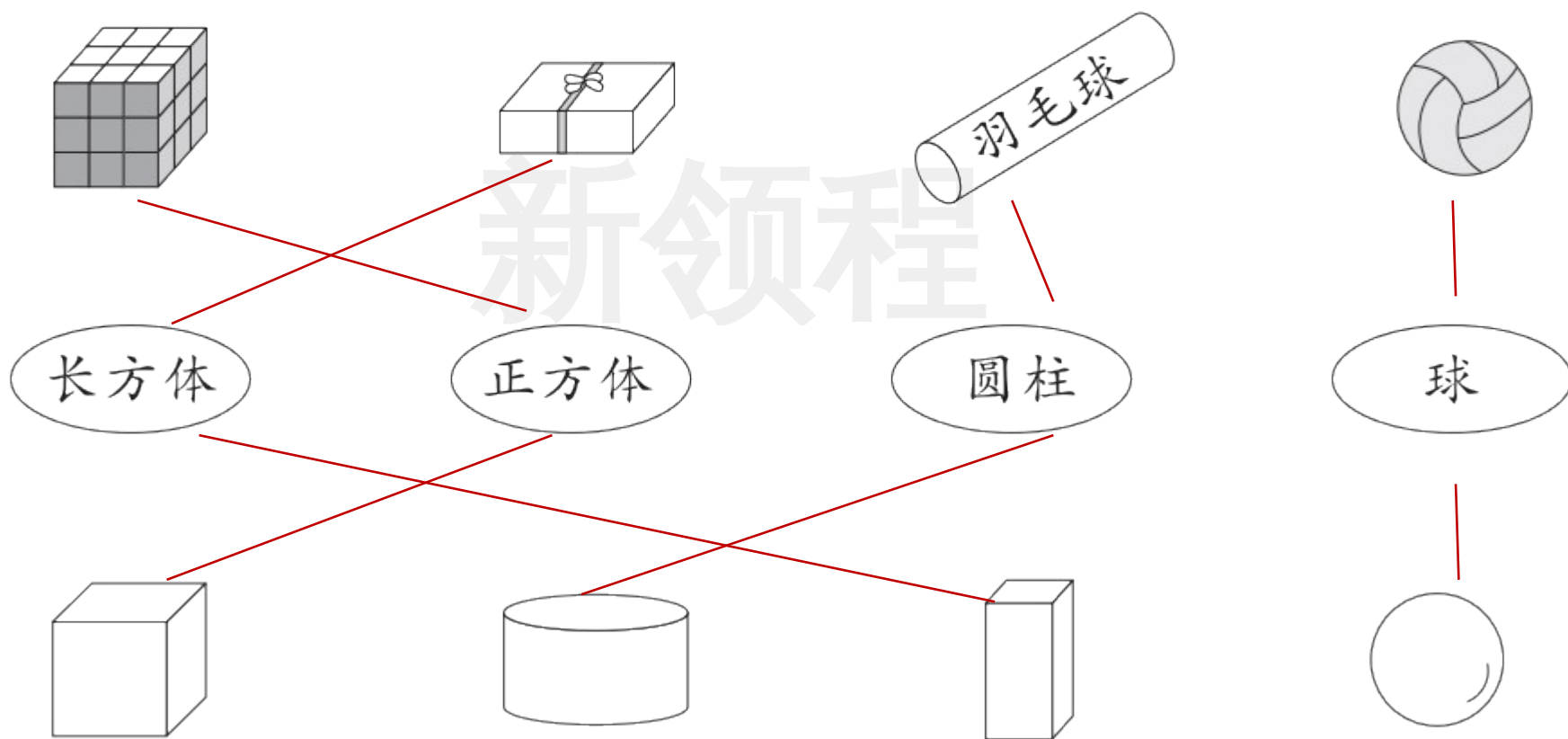


新领程同步作业课件

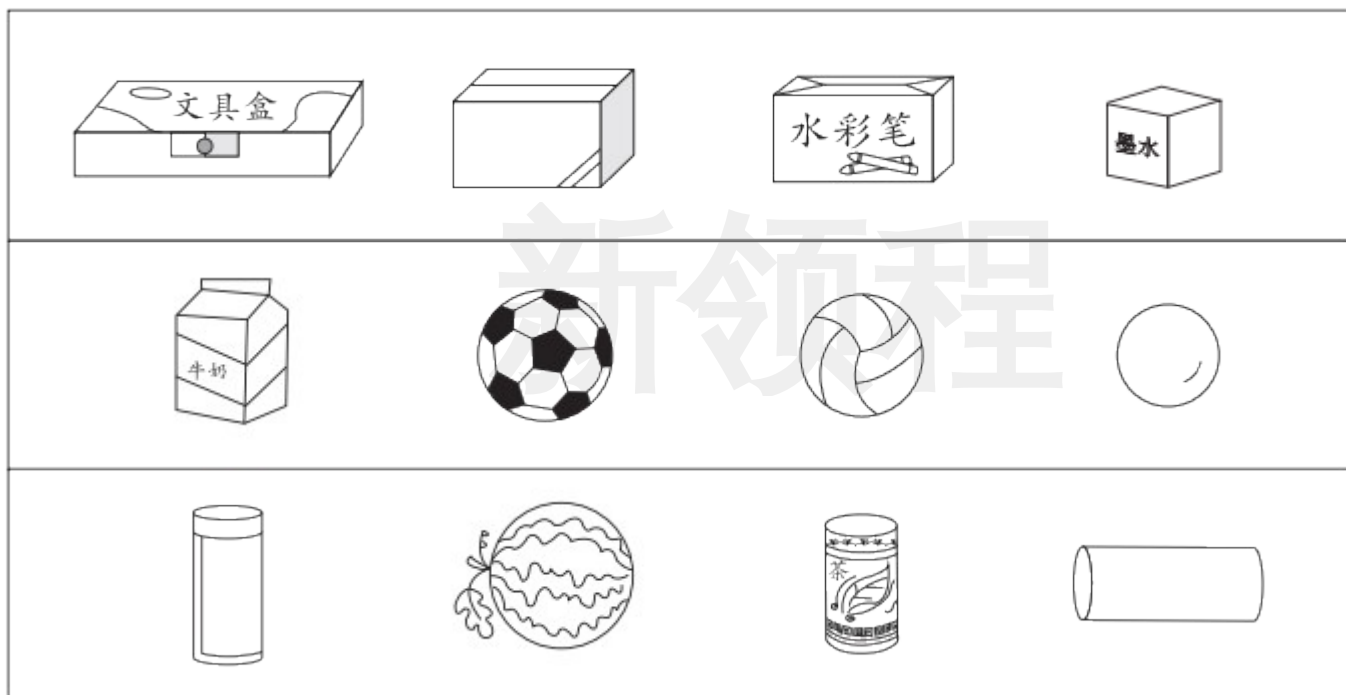
dòng shǒu mì shì

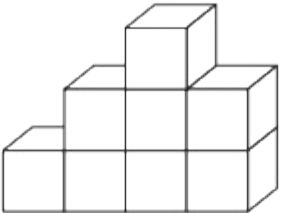
第一关：动手密室。(25☆)


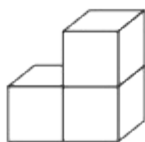
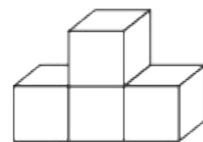
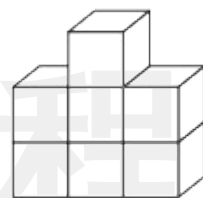
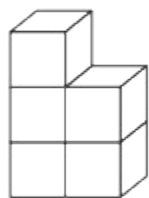
1. 认一认，连一连。(8☆)



2. 请把下面每组中形状不同的物品圈起来。(9☆)




3. 哪两堆可以拼成  ? 连一连。(8☆)

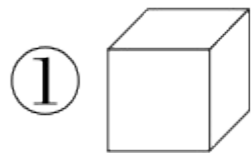


xuǎn zé mí gōng

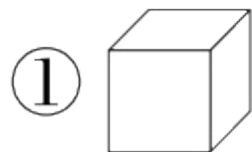
tián xù hào

第二关：选择迷宫。（填序号）（10☆）

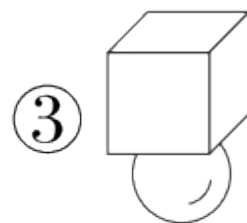
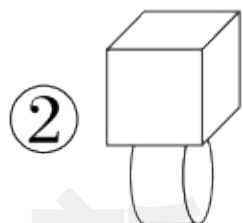
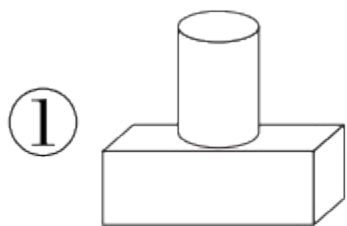
1. 用物体（ ）可以画出 。



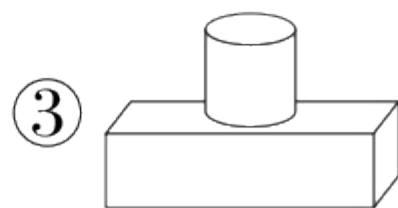
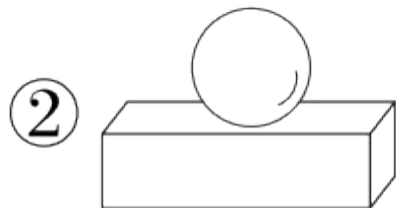
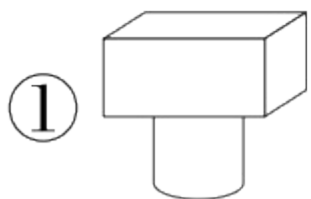
2. 下面的立体图形中，最容易滚动的是（ ）。



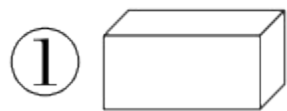
3. 下面图()搭得最稳。



4. 在长方体的上面放一个圆柱,下面搭对了的是图()。



5. 如图,一个物体被挡住了一部分,这个被挡住的物体不可能是
()。



新领程

jì suàn wáng guó

第三关：计 算 王 国。（22☆）

1. 直接写出得数。（16☆）

$3 + 2 =$

$9 - 7 =$

$5 + 4 =$

$10 - 4 - 4 =$

$0 + 5 =$

$10 - 2 =$

$3 + 3 =$

$9 - 6 + 4 =$

$2 + 1 =$

$8 - 6 =$

$6 - 4 =$

$3 + 7 - 5 =$

$7 - 5 =$

$5 + 3 =$

$8 - 2 =$

$4 + 2 + 3 =$

2. 在 ○ 里填上“>”“<”或“=”。(6☆)

$$3 + 6 \bigcirc 9$$

$$8 - 2 \bigcirc 10$$

$$7 - 3 \bigcirc 3 + 2$$

$$8 - 2 \bigcirc 5$$

$$9 \bigcirc 3 + 5$$

$$9 - 3 \bigcirc 9 - 4$$

新领程

pàn duàn lè yuán

duì de huà

cuò de huà

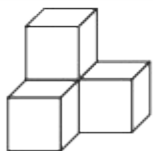
第四关：判断乐园。（对的画“√”，错的画“×”）

(6☆)



这三个物品都是圆柱。

()



搭这个形状要用4个同样的小正方体。

()

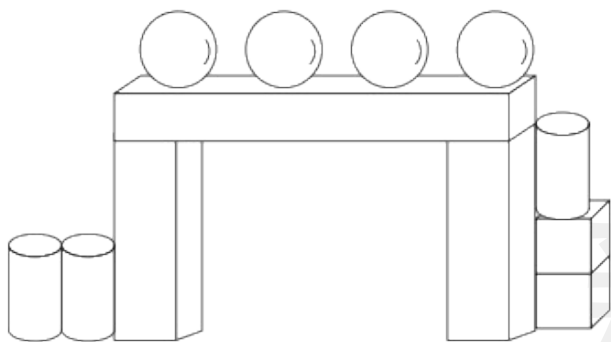


像这样能滚动的也是球。




()

第五关：数 学 园 地。（37☆）





1. 数一数，填一填。（8☆）



新领程


 (1)  有()个,  有()个,  有()个,

 有()个。

 (2)  比  多()个,  比  少()个。

2. (11 ☆)

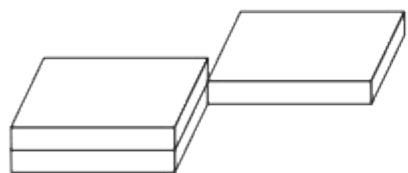



(1) 从左边数,  是第()个, 它左边有()个立体图形, 右边有()个立体图形。

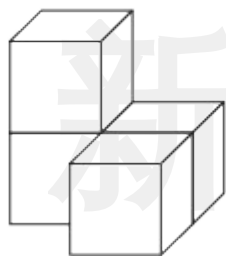
(2) 从右边数, 第()个和第()个都是长方体。

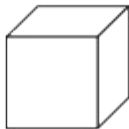
(3) 把从左边数第4个物体涂上颜色; 把右边的3个物体圈起来。

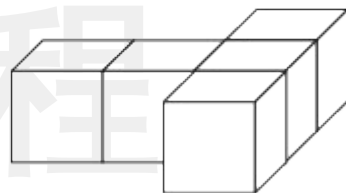
3. 数一数。(12☆)

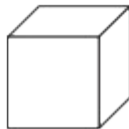


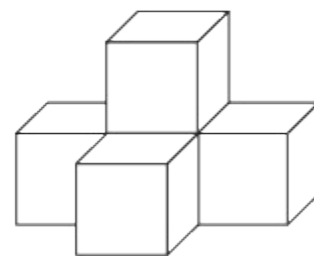
() 个 




() 个 



() 个 

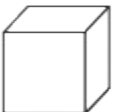


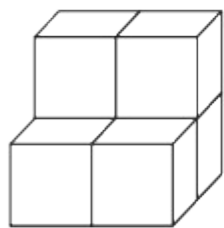
() 个 

4. 接下来应该摆什么？圈出正确的答案。(6☆)



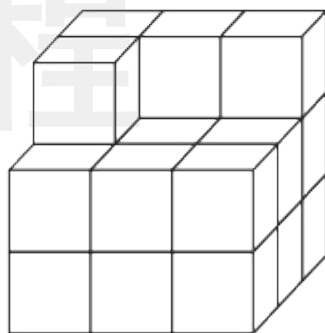
sù yǎng tí shēng zuò duì le jiǎng lì 。
 素养提升。（做对了，奖励10☆哦！）

要拼成一个大正方体，下面的形状至少还需要几个  ?



至少还需要()个

新领程



至少还需要()个



关注“优翼丛书”小程序

更多优质好课等你来



更多教学资源，敬请关注 www.youyi100.com