

《优干线》人教版数学一下作业 PPT



更多教学资源内容，敬请关注 www.youyi100.com


第二单元学业质量评价



wǒ huì tián

一、我会填。

1. 圈一圈，算一算。



$$12 - 7 = \square$$

想： $10 - 7 = \square$ ， $\square + \square = \square$ 。

2. 两个数的和是 18，其中一个加数是 9，另一个加数是()。

3. 8 比 13 少()；16 比 7 多()。

4. 在 ○ 里填上“>”“<”或“=”。



$17 - 8 \bigcirc 8$

$5 \bigcirc 11 - 7$

$3 + 8 \bigcirc 14 - 3$

$12 - 4 \bigcirc 9$

$6 \bigcirc 15 - 8$

$5 + 9 \bigcirc 6 + 4$

5. 小可写了 12 个汉字,小西写了 6 个汉字,小西至少还要写()个汉字才能超过小可。

6. 在 8、4、13、9 中选 3 个数,写出两道加法算式和两道减法算式。

$\square + \square = \square$

$\square + \square = \square$

$\square - \square = \square$

$\square - \square = \square$

wǒ huì xuǎn

bǎ zhèng què dá àn de xù hào tián zài kuò hào lǐ

二、我会选。(把正确答案的序号填在括号里)

1. 下面算式中,和 $13 - 4$ 的结果不相等的是()。

① $13 - 3 - 1$

② $10 - 3 + 4$

③ $10 - 4 + 3$

2. 下面算式中,()的得数最大。

① $15 - 6$

② $16 - 9$

③ $12 - 7$

3. 算式 $1 \square - 6$ 是一道退位减法, \square 里最大可以填()。

① 9

② 5

③ 4

4. 12 个小朋友排成一队买票,小优的前面有 5 人,她的后面有()人。

① 8

② 7

③ 6

5. 这道题求的是()。

① ○ 比 ● 多多少个

② ○ 和 ● 一共有多少个

③ ● 比 ○ 多多少个

wǒ huì suàn

三、我会算。

1. 看谁算得又对又快。

$11 - 4 =$

$16 - 7 =$

$15 - 8 =$

$8 + 8 - 7 =$

$18 - 9 =$

$14 - 6 =$

$12 - 3 =$

$13 - 6 + 5 =$

$13 - 8 =$

$17 - 9 =$

$12 - 4 =$

$4 + 8 - 5 =$

$14 - 9 =$

$13 - 6 =$

$16 - 5 =$

$13 - 4 - 6 =$

2. 将下列算式按得数从小到大的顺序排列。(填算式)

$14 - 5$

$13 - 7$

$9 + 8$

$15 - 8$

$11 - 6$

$(\quad) < (\quad) < (\quad) < (\quad) < (\quad)$

3. 在 里填上合适的数。

$13 - \square = 8$

$9 + \square = 12$

$9 + 3 = 18 - \square$


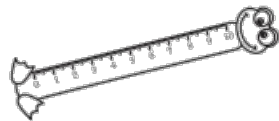

$14 - \square > 7$

$\square + 6 < 13$

$12 - 5 > \square - 8$

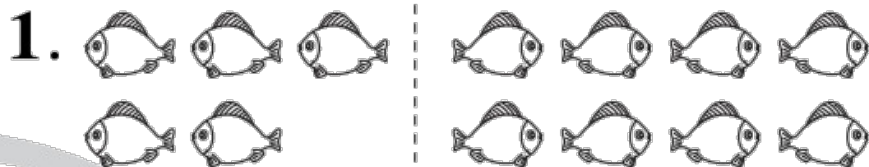
wǒ huì tián biǎo

四、我会填表。

物品				
原有	18 支	12 块	17 把	13 个
卖出	9 支	6 块	8 把	() 个
还剩	() 支	() 块	() 把	7 个

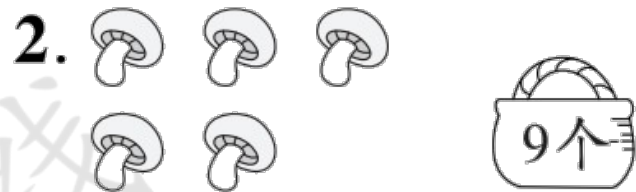
wǒ huì kàn tú liè shì jì suàn

五、我会看图列式计算。



$$13 - \square = \square$$

$$13 - \square = \square$$



$$9 + \square = \square (\text{个})$$

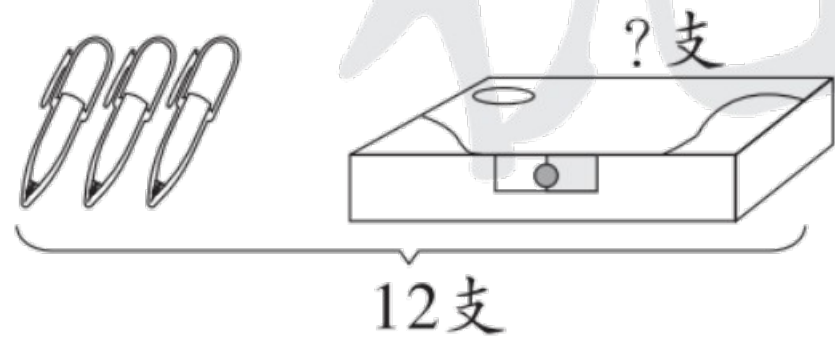
$$14 - \square = \square (\text{个})$$

3.



$$\square \bigcirc \square = \square \text{ (根)}$$

4.



$$\square \bigcirc \square = \square \text{ (支)}$$

wǒ huì jiě jué wèn tí

六、我会解决问题。

1. 一共有 12 只鸡。



(1) 左边有 7 只鸡, 右边有多少只? (2) 公鸡有 4 只, 母鸡有多少只?

$$\square \bigcirc \square = \square (\quad)$$

$$\square \bigcirc \square = \square (\quad)$$

2. 冰箱里有 14 个苹果和 6 个梨。吃了 5 个苹果, 还剩多少个苹果?

$$\square \bigcirc \square = \square (\quad)$$

3. 水果摊原来有 8 筐橘子。

我上午又运来了 4 筐，今天卖出了 9 筐。现在一共有多少筐？



4. 在第二单元作业评比中,一(2)班三位同学得到小红花的数量如下。

(1) 小优比乐乐多得几朵小红花?

$$\square \bigcirc \square = \square (\quad)$$

小优	16 朵
欢欢	7 朵
乐乐	9 朵

(2) 算式“16 - 7”解决的问题是_____。

(3) 你还能提出其他数学问题并解答吗?

提问: _____

解答: $\square \bigcirc \square = \square (\quad)$

挑战题。

xiào yuán lǐ yǒu yì háng liǔ shù gòng kē xué xiào zhǔn bèi zài měi xiāng lín
校园里有一行柳树，共10棵，学校准备在每相邻

de liǎng kē liǔ shù zhī jiān zài zhòng liǎng kē sōng shù yí gòng yào zhòng duō shao kē
的两棵柳树之间再种两棵松树。一共要种多少棵

sōng shù
松树？



关注“优翼丛书”小程序

更多优质好课等你来



更多教学资源，敬请关注 www.youyi100.com