

邱县明德小学一年级数学期末考试模拟试卷

一、填空：(25分)

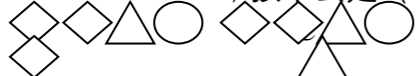









- 1、小星前面是小东，小东在小方的后面。从前面数小方排第()，小星排第()，小东排第()。
- 2、54里面有()个十和()个一，和它相邻的两个数是()和()。
- 3、一个两位数，从右起第一位上是5，第二位上是9，这个数是()，读作()，它前面第五个数是()，它后面第五个数是()。
- 4、时针指向7，分针指向12，这时是()时。
- 5、4元5角-3元=()元()角 7元8角+1元2角=()元
- 6、比48多15的数是()，比37少14的数是()。
- 7、先找规律，再填数。
 (1) 1,6,11,16, (), (), ()。
 (2) 81,71,61, (), (), ()。
- 8、在4、7、9三个数字中，任选两个组成两位数，其中最大的是()，最小的是()。

二、判断：(10分)

- 1、百位是右边起的第三位。()
- 2、妈妈去买芹菜花了3元钱，买肉花了8元5角，一共花了12元钱。()
- 3、33中的两个“3”都表示3个“十”。()
- 4、在减法算式里，减数是15，差是10，被减数是20。()
- 5、比35大且比40小的整数有36、37、38、39，共4个数。()

三、选一选(15分)

- 1、爷爷今年65岁，奶奶今年62岁，爷爷的年龄比奶奶()。
A、大一些 B、小一些 C、小得多
- 2、小星有16个苹果，小明有10个苹果，小星再给小明()个两人就一样多了。
A、6 B、4 C、3
- 3、25比()多15。
A、9 B、10 C、11
- 4、83-30的得数与()的得数相等。
A、30+30 B、30+23 C、40+23

- 5、，接下去是()。
A、        

四、计算：1、直接写得数：(6分)

$$17-8= \quad 18-9= \quad 18-7=$$

$$16-9= \quad 15-8= \quad 36-20=$$

2、我能用竖式计算(12分)。

$$53+18= \quad 62-19= \quad 79-20=$$

3、列式计算(12分)

(1) $\underbrace{\quad \text{本} \quad 7 \text{本}}_{33 \text{本}}$ (2) $29 \text{元} \quad \underbrace{\quad \text{元} \quad ? \text{角}}_{64 \text{元} 5 \text{角}}$

(3) $\underbrace{\begin{array}{c} \square = \bigcirc (\quad) \\ \square \quad \square \\ \text{苹果 } 45 \text{ 个} \quad \text{桃子 } 30 \text{ 个} \end{array}}_{? \text{个}}$

$$\square \text{、} \bigcirc \text{ 决 } \square \text{ 题 } (\square \text{ 分}) = \square (\quad)$$

- 1、操场上种着36棵杨树，和25棵柳树，松树18棵。杨树和柳树一共有多少棵？

你能再提出一个问题，并解答吗？

问题：_____

解答：_____

- 2、小明做了25朵花，小刚做了42朵花，小明再多少朵花就和小刚一样多了？

3、小鸡排队捉虫子，从前面数小花鸡是第 10 只，从后面数它是第 4 只，一共有多少只小鸡？