

2013-2014 学年度第一学期北师大株洲附校小学部

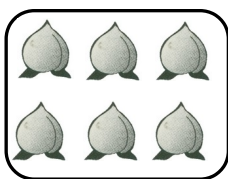
一年级数学期末考试卷

(满分 100 分, 时间 60 分钟)

计分\_\_\_\_\_

一、知识聚宝盆。(25 分)

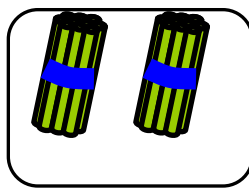
1、看图写数。



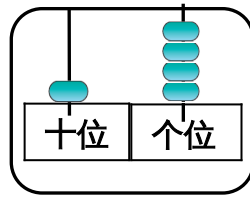
( )



( )



( )



( )

2、17 里面有 ( ) 个十和 ( ) 个一。20 里面有 ( )

个十。

3、6 个一和 1 个十合起来是 ( )。

4、和 15 相邻的两个数是 ( ) 和 ( )。



填数。

	8			11		
--	---	--	--	----	--	--

6、它们的家在哪里？

我家在小狗家的左边。

我家的右边是小兔家，左边是小猫家。



( ) ( ) ( ) ( 小狗 )

7、有一排数：

学号：

班级：

姓名：

9 7 10 14 8 16 3 20

(1) 上面一共有 ( ) 个数, 最大的数是 ( ), 最小的数是 ( )。

(2) 从左边数, 第三个数是 ( ), 第六数是 ( )。

(3) 把右边的 4 个数圈起来。

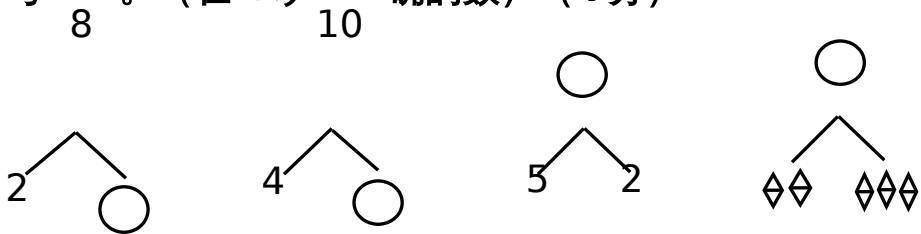
8、小方排第 9, 小明排第 15, 小方和小明之间有 ( ) 人。

二、我会比大小。(在○填上“>”“<”或“=”) (6分)


6+9  15      9    14-10       6+8    8+6    ○

10-6     8      16    4+8 ○      9+9    9-9    ○

三、考考你。(在○填上正确的数) (4分)



四、我会看时间,连一连 (6分)



12时

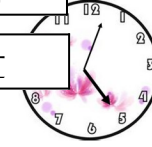
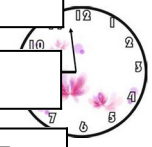

5时刚过

3时

10时

快9时了

9时刚过



五、我是计算小行家。(24分)

1、比一比,看谁算得快!(10分)

$2+3=$      $5+5=$      $6+3=$      $11+3=$      $13+4=$

$7+2=$      $12-2=$      $17-6=$      $18-4=$      $19-0=$

2、我会算。(8分)

$8+2+4=$                    $18-6-2=$                    $15-2-2=$

$13+3-5=$                    $14+5-8=$                    $16-4+5=$

3、我会填。(6分)

$6+ \square = 13$                    $+5 = 14$                    $-10 = 5$   $\square$

$\square - 2 = 8$                    $7+ \square = 14$                    $18- \square = 10$                    $\square$

六、数一数，填一填。(4分)

( ) 个





( ) 个

( ) 个

( ) 个

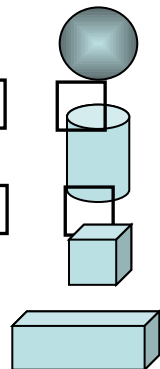
七、看图列式。(10分)



+  
+  
+

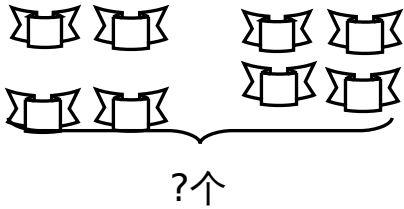
=  $\square$      $\square$

=  $\square$      $\square$

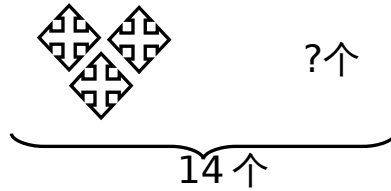


$$\square - \square = \square \quad \square - \square = \square$$

$$\square - \square = \square \quad \square - \square = \square$$



$$\square \bigcirc \square = \square$$



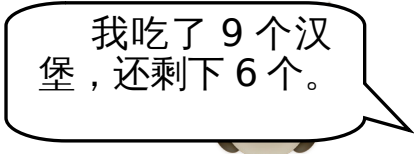
$$\square \bigcirc \square = \square$$

### 八、数学智力园。(6分)

$\square \bigcirc \square = \frac{1}{6}$	$\square \bigcirc \square = \frac{1}{6}$	$\square \bigcirc \square = \frac{1}{6}$
$\square \bigcirc \square = \frac{1}{6}$	$\square \bigcirc \square = \frac{1}{6}$	$\square \bigcirc \square = \frac{1}{6}$
$\square \bigcirc \square = \frac{1}{6}$	$\square \bigcirc \square = \frac{1}{6}$	$\square \bigcirc \square = \frac{1}{6}$

### 九、数学小天地。(15分)

1、



原来有几个汉堡？

$$\square \bigcirc \square = \square$$

( 个 )

2、原来有15根香蕉。



我吃了 5 根。

还剩下几根香蕉？



$$\square \bigcirc \square = \square$$

( 根

3、



我们班有 13 名男生，6 名女生，一共有多少学生？

$$\square \bigcirc \square = \square$$

( 名

4、一共有 18 个萝卜。



我吃了 2 个。

我吃了 4 个。

还剩多少个？

$$\square \bigcirc \square \bigcirc \square = \square$$

( 个

5、小青蛙原来有 10 个桃子。



我送给它 3 个。

我再送给他 3 个。

现在小青蛙一共有多少个桃子？

$$\square \circ \square \circ \square = \square \quad (\uparrow)$$