

# 2013—2014 学年第一学期一年级数学期中测试卷

(北师大版)

学校 \_\_\_\_\_ 班级 \_\_\_\_\_ 姓名 \_\_\_\_\_ 得分 \_\_\_\_\_

题号	一	二	三	四	五	总分
得分						

一、填空：(20分)

## 1、按规律写数。

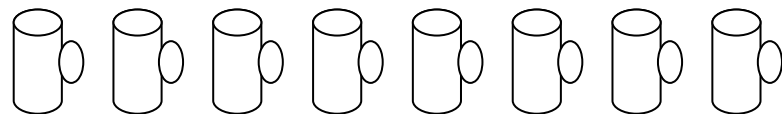
8	9						
	14	18	20				

2、填一填。

- 你知道的电话号码是( )，是由( )个数字组成的。
- 人有( )只眼睛，( )只耳朵，人身上( )的数目是 10。
- $\triangle \bigcirc \square \square \triangle \bigcirc \square \square$   $\square$ 上面共有( )个图形，( )的数目最多， $\square$ 是左数第( )个，( )和( )的数目同样多。

二、数学乐园。(20分)

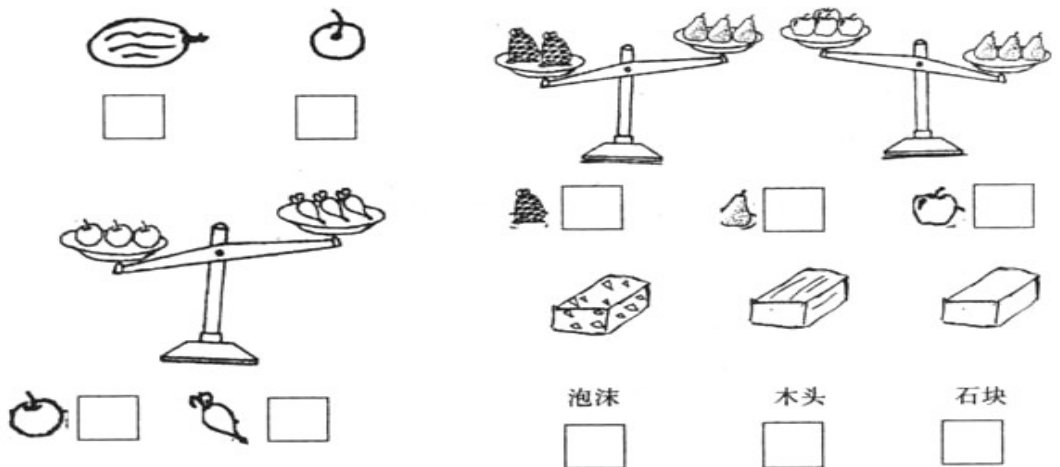
1、把前 3 个圈起来，把从右起第 5 个涂上颜色。



$\triangle$ 比 $\bigcirc$ 少( )个。  $\square$ 比 $\triangle$ 多( )个。

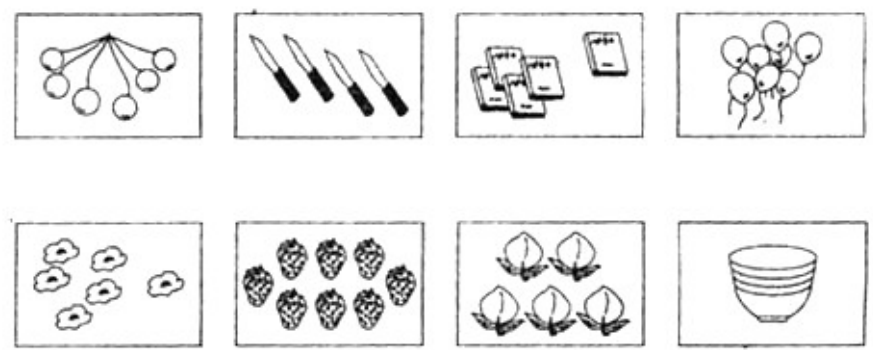
3、1、比一比 (10分)

(1)轻的画  重的画  (2)最重的画  最轻的画



三、计算。(30分)

1、把同样多的连起来。



2、认真算一算。

$2 + 6 =$      $17 - 7 =$      $9 - 2 =$      $5 + 9 =$   
 $8 - 4 =$      $5 + 5 =$      $9 + 6 =$      $7 + 8 =$

5 - 0 =      8 + 6 =      13 + 6 =

3、在○里填在“+”或“-”。

7○8 = 15      13○3 = 10      9○9 = 0

4、在○里填上“>”、“<”或“=”。

19○20      3 + 5○8      17○9 + 7

2○1      4 + 0○4 - 0      5 + 7○14 - 3

5、连线。

1	9 + 9		2 + 9	1
3				1
1	10 - 4		8 + 7	1
8				5
6	9 + 4		9 - 0	9

四、看图写算式。(20分)

1、○○○○○○○○○○

○○○○○○○○      □○□ = □

2、△△△△△△△△△△

△△△△△△△△      □○□ = □

3、

4、

$$\square \bigcirc \square = \square$$


五、看谁最聪明。(10分)

1. 在3、4、5、8这四个数中选出三个数，组成四个算式。(4)

$$\square \bigcirc \square = \square \quad \square \bigcirc \square = \square$$

$$\square \bigcirc \square = \square \quad \square \bigcirc \square = \square$$

2. 看图列式计算：(3)


$$\square + \square = \square \quad \square + \square = \square$$
$$\square - \square = \square \quad \square - \square = \square$$

3. 看图列式计算。(3)



$$\square \bigcirc \square \bigcirc \square = \square (\text{个})$$