

人教版小学数学一年级下册期末评价试卷




考时：60分钟 满分：100分

项目	基础知识	基本技能	综合应用
答对题数			
等级			



基础知识

一、填一填。


- 68是一个()位数，“6”在()位上，表示()个十；“8”在()位上，表示()个一。
- 比37多30是() 86比91少()
- 与30相邻的两个数是()和()。 58后面第3个数是()。
- 84 48 67 53 72 96
(1) 从左往右，第5个数是()，48是第()个数；
(2) 把这些数按照从大到小的顺序排一排：

-  可以换()张 ，也可以换()张 。
- 如果 $15 - ☆ = 7$ $△ + ☆ = 20$ ，那么 $☆ = ()$ $△ = ()$
- 芳芳下午 2:45 离开学校回家，到家已经 3:00，她在路上用了()时间。
- (1) 11,13,15,17, (), ()
(2) 我是小小设计师。(涂出有规律的颜色)
◎◎◎◎◎◎◎◎◎◎◎◎
- 一张正方形的纸片对折，可以得到()个()图形。
- 排队时，小华前面有8人，后面有3人，一共有()人。

二、选一选。

- 一瓶娃哈哈饮料 1()。
A、分 B、角 C、元
- 小熊摘了12个桃子，小猴说：“我比你多得多。”小猴可能摘了()个。
A、35 B、15 C、5
- ()个相同的  可以拼成稍大的 。
A、4 B、8 C、2
- 个位是3，十位比它大4，这个两位数是()。
A、34 B、43 C、73

5、下图缺了 () 块



A、6 B、7 C、8

基本技能

一、算一算。

1、直接写出得数。

$13-8=$ $15-9=$ $98-6=$ $55+5=$ $8+72=$ $40-6=$
 $78-6=$ $27+9=$ $35-7=$ $43+50=$ $85+3=$ $97-30=$
 $100-60-40=$ $56+2-9=$ $60+35+5=$ $99-9+10=$

2、填数。

被减数	14	92	
减数	6	30	25
差			7

加数	30		84
加数	50	8	
和		65	90

3、我能
为“>”

“<”和“=”找家。

$1\text{元} \bigcirc 10\text{角}$ $4.05\text{元} \bigcirc 4\text{元}5\text{角}$ $78\text{角} \bigcirc 8\text{元}$
 $94+6 \bigcirc 94-6$ $70-5 \bigcirc 59+6$ $64-20 \bigcirc 57-20$


二、认一认。



() 过5分是() 过10分是() 过2时是()

三、画一画。

在☆的左边画个□，在□上面画个■；
 在☆的右边画个○，在○的上面画个●；
 在☆的上面画个△，在☆的下面画个▲，

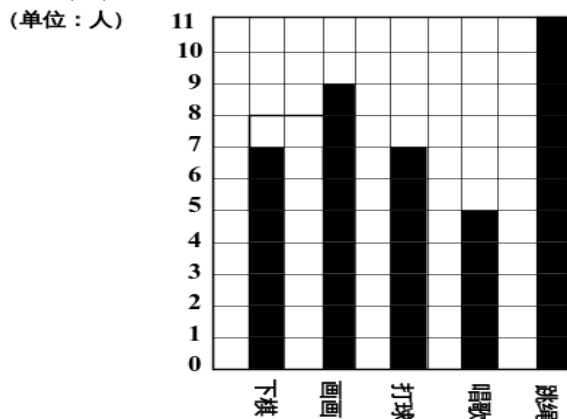


在▲的左右两边都画上笑脸。

综合应用

一、统计。

1. 下面是一(3)班同学最喜欢的课外活动人数的统计图。



(1) 看统计图填统计表：

项目	下棋	画画	打球	唱歌	跳绳
人数					

- (2) 喜欢 () 的人数最少, () 最受欢迎。
 (3) 喜欢画画的比喜欢唱歌的多 () 人。
 (4) 喜欢 () 的人数和喜欢 () 的人数同样多。
 (5) 你还能提出什么数学问题? 并解答。

二、解决问题。

1、小刚的电子琴上有 36 个白键, 20 个黑键。

- (1) 白键和黑键一共多少个? (2) 黑键比白键少多少个?

$$\square \bigcirc \square = \square$$

$$\square \bigcirc \square = \square$$



2、

我有 28 本故事书!



我借走了 9 本



还剩多少本?


$$\square \bigcirc \square = \square \text{ (本)}$$

3、原来有多少个萝卜?



$$\square \circ \square = \square$$

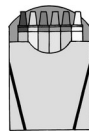
4、学校图书馆有一些故事书，借出一半后，还剩 40 本，学校原来有故事书多少本？

5、 限坐 45 人，已经上了 30 人，还有 6 人要上车，车上的座位（够不够）。

6、



55 元



12 元



8 元

(1)妈妈给小芳买了 1 个书包、1 盒画片和一盒彩笔，一共需要多少钱？

$$\square \circ \square \circ \square = \square \text{ (元)}$$

(2)小明带 20 元，买一盒画片，应找回多少元？

$$\square \circ \square = \square \text{ (元)}$$

(3)如果要买两件物品，最多要多少元？最少要多少元？

$$\square \circ \square = \square \text{ (元)} \quad \square \circ \square = \square \text{ (元)}$$