


考生注意:考试时间 60 分钟,满分 100 分。

题号	一	二	三	四	五	六	七	八	九	总分
得分										

一、连一连。(图中有几个就和几连起来)(6分)



2

4

5


6

8

10



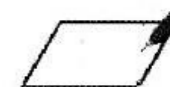
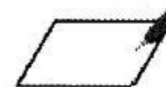
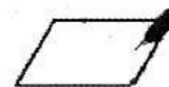
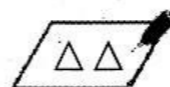


二、看图圈数。(8分)



5 6 7	4 6 8	8 9 10	6 8 10
4 5 6	3 5 7	1 2 3	7 8 9

三、请你填一填。(17分)

1. 数一数,画一画,写一写。(7分)



2. 排队游戏。(5分)



(1)一共有()个小动物,老鼠在从()边起第一位。

(2)从左边数,排第(),排第2的是()。

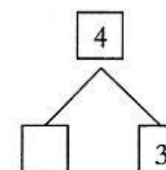
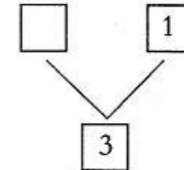
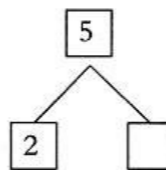
(3)把最右边的2个小动物圈起来。

3. 比一比。(2分)















比 多(), 比 少()。

4. 在□里填上合适的数。(3分)

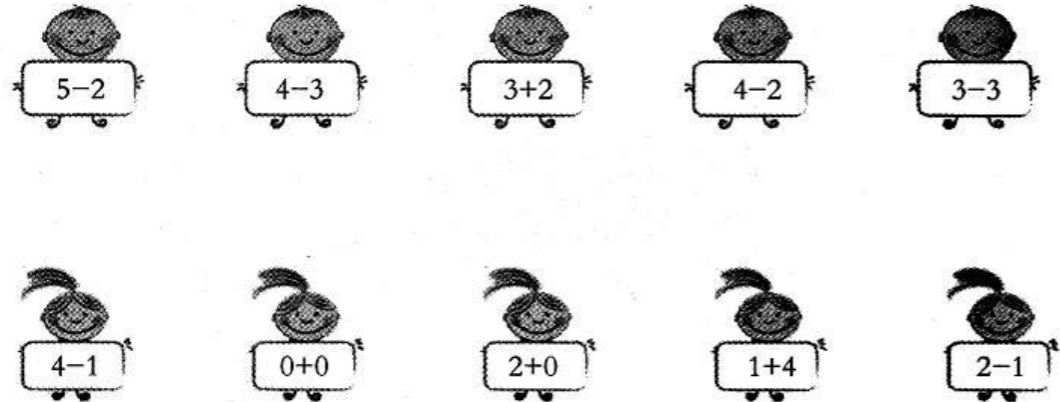


四、请你算一算。(22分)

1. 看谁算得既准又快。(12分)


$0+2=$ 	$3+1=$ 	$5-4=$ 	$4-2=$ 
$1+1=$ 	$4-0=$ 	$2+2=$ 	$0+3=$ 
$5-5=$ 	$3-2=$ 	$2+1=$ 	$0-0=$ 

2. 找朋友。(把得数相同的算式连起来)(10分)



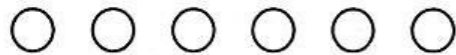
五、比一比。(8分)

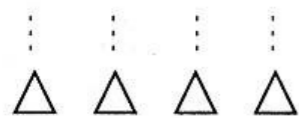
1. 在少的后面画“○”。(2分)



2. 在多的后面画“√”。(2分)



3. 



()比()多,()比()少。(4分)

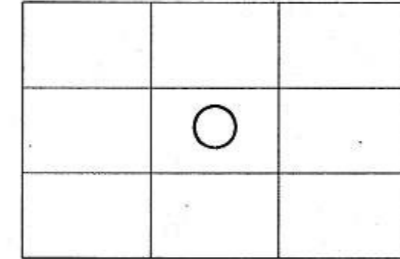
六、画一画。(11分)

1. 画○,○比●多。(3分)



2. 按要求画一画。(8分)

- △在○的上面;
- 在○的左边;
- ▽在○的下面;
- 在○的右边。



七、汽车比赛。(6分)

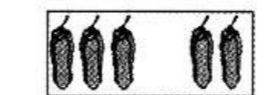
- 4号车的前面是()号车, 5号车的后面是()号车。
- 4号车在1号车的()面, 在3号车的()面。
- 1号车的后面是()号车和()号车。



八、美丽的家。(10分)

- 在的()面,在的()面。
- 在的()面,在的()面。
- 请你在从左数第四盆的右面画一棵小草。

九、解决问题我最棒!(12分)



$\square + \square = \square$



$\square + \square = \square$



$\square - \square = \square$



$\square - \square = \square$