

东庐小学一数(上)第十二单元质量检测

班级_____姓名_____成绩_____

一、想一想，算一算。(20%)

$$\begin{array}{ccccc}
 2+9= & 6+5= & 14-4= & 3+9= & 10-3+5= \\
 \mathbf{6+6=} & 7+9= & 8+8= & 4+7= & 5+7-10= \\
 8+4= & 9+9= & 5+9= & 4+9= & 7+8-5= \\
 16-6= & 9+4= & 5+6= & 6+9= & 2+3+8=
 \end{array}$$

二、想一想，填一填。(36%)

1、在○里填上>、<或=。

$$\begin{array}{ccc}
 \mathbf{8-2} \bigcirc \mathbf{6} & \mathbf{16} \bigcirc \mathbf{8+9} & \mathbf{9+5} \bigcirc \mathbf{9+8} \\
 \mathbf{5+8} \bigcirc \mathbf{12} & \mathbf{14} \bigcirc \mathbf{6+7} & \mathbf{2+10} \bigcirc \mathbf{6+7}
 \end{array}$$

2、 $6 + () = 14$ $3 + () = 13$ $() + 5 = 12$

$$3 + 9 = () + () = () + () = () + ()$$

3、有8个▲，再画()个▲，一共是13个▲。

有7个★，○和★同样多，○和★一共有()个。

4、用6、16、10三个数，写出两道加法算式和两道减法算式。

$$\begin{array}{cc}
 \square \bigcirc \square = \square & \square \bigcirc \square = \square \\
 \square \bigcirc \square = \square & \square \bigcirc \square = \square
 \end{array}$$

三、想一想，选一选。(8%)

1、与16最接近的数是几， 2、在得数最大的算式下面画“○”。

请在下面画“○”

18	17	13	14

5+9	17-	8+7	6+8
	7		


四、想一想，做一做。(36%)

1、




上面有三袋面包，小明买了其中两袋。
 小明最多买 () 只面包，小明最少买 () 只面包。 **14 人**

2、



$$\square \bigcirc \square = \square$$



$$\square \bigcirc \square = \square$$

18 只



3、  和  一共有 13 只，

它们可能各有多少只？



? 只

$$\square \bigcirc \square = \square$$

	
() 只	() 只
() 只	() 只
() 只	() 只

4、

		
做了	10 只	5 面
又做了	7 只	6 面
一共做	() 只	() 面

		
原有	16 个	8 个
吃掉	9 个	3 个
还剩	() 个	() 个