

2013-2014 学年度第一学期北师大株洲附校小学部

一年级数学期末考试卷

(满分 100 分, 时间 60 分钟)

计分_____

一、 我会填 (24 分)

1、 一个加数是 8, 另一个加数是 5, 和是 ()。

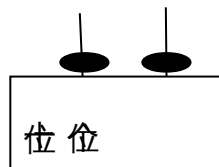
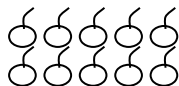
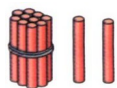
2、 被减数是 10, 减数是 3, 差是 ()。

3、 17 里面有 () 个十和 () 个一。

4、 与 11 相邻的两个数是 () 和 ()。

5、 一个两位数, 从右起第一位是 () 位, 第二位是 () 位。

6、 看图写数:



() () ()

7、 2 个十组成的数是 () ; 它前面的一个数是 ()。

8、 数一数。



①、 一共有 () 个图形。从右数起, 排第 ()。

②、 把从左边数, 第 5 个图形涂上颜色。

③、 把右边的 3 个圈起来。

9、 12 和 14 中间的数是 ()。

10、 按规律填数:

11、

	17			1			1
--	----	--	--	---	--	--	---

 个数个位上是 8,

十位上是 1, 这个数是 ()。

学号:

班级:

姓名:

二、他们说的话对吗？对的打“√”，错的打“×”。（5分）

①、16 的个位是 1，十位是 6。 ()



②、9 时过了一点儿。 ()

③、比 9 多 1 的数是 10。 ()

④、20 里面有 1 个十和 2 个一。 ()



⑤、图中有 3 个小正方体。 ()

三、我是小小计算家（26分）

1、直接写得数

$$4 + 7 = \quad 8 - 6 = \quad 9 - 0 = \quad 8 + 2 = \quad 14 - 3 =$$

$$8 - 8 = \quad 9 + 8 = \quad 4 - 1 = \quad 7 - 6 = \quad 9 + 4 =$$

$$12 - 2 = \quad 3 + 4 = \quad 5 + 0 = \quad 15 - 5 = \quad 5 + 7 =$$

$$7 + () = 12 \quad () - 5 = 4 \quad 6 + () = 16$$

$$3 + 7 - 4 = \quad 8 - 5 - 2 = \quad 10 - 2 + 5 =$$

2、在○里填“>”“<”“=”。

$$8 \bigcirc 5 \quad 0 + 6 \bigcirc 11 \quad 3 + 9 \bigcirc 13 \quad 15 \bigcirc 17$$

$$0 + 8 \bigcirc 8 - 0 \quad 5 \bigcirc 10 - 2 \quad 13 \bigcirc 13 - 2 \quad 0 + 6 \bigcirc 6$$

四、我会画（6分）

1、画△，与○同样多。

2、画珠子



○ ○ ○ ○ ○ ○ ○ ○

十位 个位

(1 3)

五、生活万花筒 (4分)

1、写出钟面上的时间



()

()

2、猜一猜



今天星期二，因下雨运动会推迟2天再开。



那是星期 () 开

3、



我是小林，我排在第2




我是小兰，我排在第7

小林和小兰中间排了 () 个小朋友。

六、看图写算式 (20分)

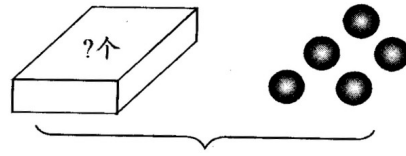
1、



? 个

$$\square \bigcirc \square = \square \text{ (个)}$$

2、

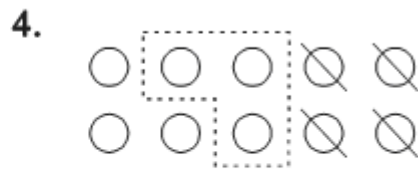


18 粒

$$\square \bigcirc \square = \square \text{ (粒)}$$



$$\square \bigcirc \square \bigcirc \square = \square$$



$$\square \bigcirc \square \bigcirc \square = \square$$

七、解决问题 (15分)

1、

水里有 8 人



一共有多少人？

$$\square \bigcirc \square = \square$$

2、




我吃掉了 5 个。

原来有多少个？

$$\square \bigcirc \square = \square$$

3、一共有 15 只



还剩几只？

游走了 6 只

$$\square \bigcirc \square = \square$$