

# 一年级数学下册期末测试题

亲爱的同学,从提起笔答题的第一刻起,就要讲究给试卷一张整

洁、美观的面孔,相信自己,加油!时间:60分钟



一、快( )时,小朋友们出发,路上他们做了一些题。

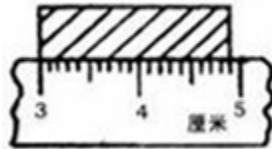
1.我会填

(1) 与39相邻的两个数是( )和( )

(2) 10个十是( ),1米=( )厘米

(3) 35是( )位数,个位是( ),表示( )个( ),十位是( )  
( ) ,表示( )个( )

(4) 小红用直尺测量橡皮如下图:



小红的橡皮长( )厘米

(5) 100里面有( )十

(6) 按规律填一填

15、( ) 35、45、( )

11、22、33、( )、( )

2.我会算

学号:

线

姓名:

订

班级:

装

学校:

(1)  $37 - 8 =$        $4 + 46 =$        $76 - 30 =$        $28 - 9 + 40 =$   
 $20 + 35 =$        $38 + 9 =$        $45 + 3 =$        $45 - 40 + 32 =$

(2) 列竖式计算

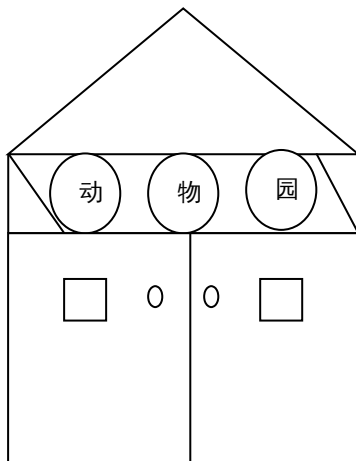
$66 + 23 =$        $14 + 70 =$        $83 - 15 =$        $63 - 7 =$

二



( ) 时刚过，小朋友来到动物园

1. 动物园的大门可真漂亮，小朋友来看它是由哪些图形拼成的？



比□多 ( )  
个

( ) 个	( ) 个	( ) 个	( ) 个	( ) 个

比 少 ( ) 个。

(2) ○ 和 共有 ( ) 个。

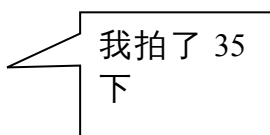
(3) 你还能提出什么问题？

$\square \circ \square = \square$

2、一条红丝带，减去 15 厘米，还剩 25 厘米，这条丝带原来长多少厘米？

$\square \circ \square = \square$  (厘米)

3、在认为合适的下面画√



男孩

女孩

我拍的比你多一些

33	37	60

4、一班有 38 人，二班比一班少一些，二班可能有多少人？

16 人

36 人


40 人

( )


( )

( )

5.小朋友带了一些香蕉给猴子吃。



我带了 12 枝香蕉



我带了 14 枝香蕉

动物园一共有 30 只猴子，如果一只猴子吃 1 枝香蕉，他们带的香蕉够吗？你







是怎样算的？

○  =



三、

( ) 时，小朋友玩的又饿又渴，他们到商店去买东西。

( 1	 7 元	 1 元	) 我想买矿泉水和饼干，应付多少钱？
( 2	 2 元 5 角	 1 元 2 角	) 我有 5 元钱，买一瓶可乐，还剩多
少	 1 元	 3 元	钱？

(3) 你还能提什么问题？



四、 ( ) 时刚过，小朋友的旅游结束了，乘车回家。



乘 8 人



乘 20 人



乘 45 人

全班小朋友有 40 人，请你设计的乘车方案，看谁想的方法多？那种方法比较理想？

五、一年级有 97 个同学去逛公园。现在只有两辆车，第一辆车只能坐 35 人，第二辆车只能坐 50 人，还有多少人不能上车？