

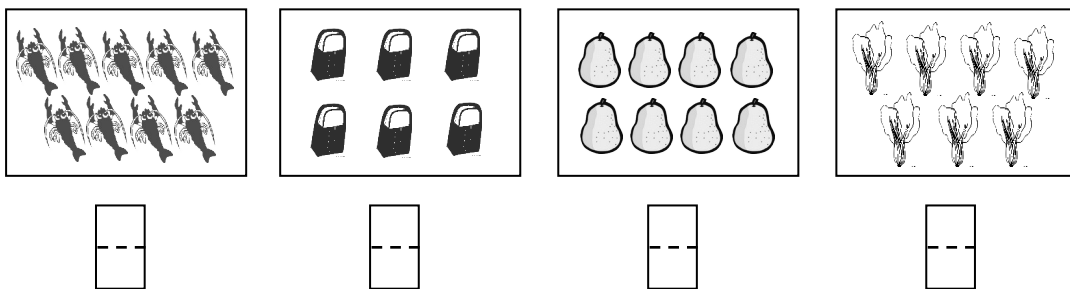
东庐小学一年级第一次综合测试

数学试卷

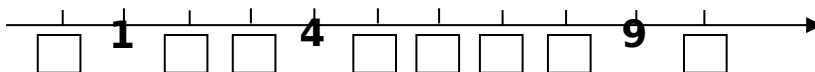
2007-10-26

一、正确填写。(共45分)


1、看图写数。



2、填一填。



3、看数接着画下去。




4、



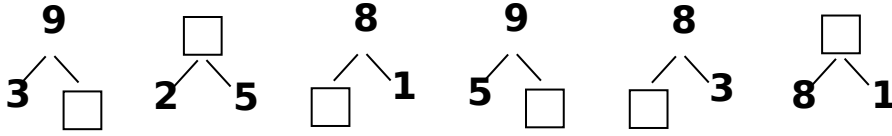
一共有 () 只小动物， 第 4 ， 排 () ，
 前面有 () 只小动物， 后面有 () 只小动物。

5、在最重的旁边画“√”，最轻的旁边画“○”。

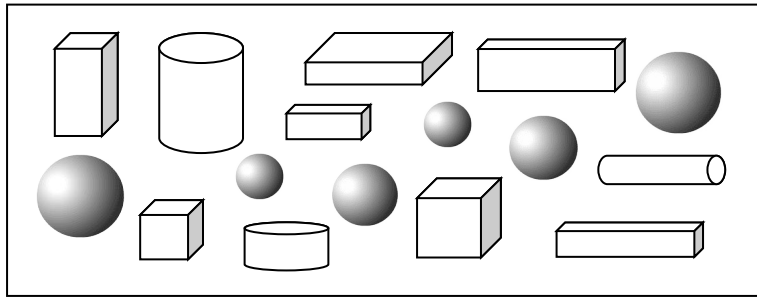






学校：_____ 班级：_____ 姓名：_____ 密封线内不要答题

6、在□里填上合适的数。



7、数一数，填一填。






			
()个	()个	()个	()个

8、 9、7、0、2、10、5、3

- (1)上面一共有 () 个数。
- (2)最大的是 () ，最小的是 () 。
- (3)从左边起，第3个是 () ，10 排在第 () 。
- (4)把上面的数按从大到小的顺序排一排。

□ > □ > □ > □ > □ > □ > □ > □


二、圈出与其它三件不同类的物品。(共3分)



三、画一画。(共 13 分)

1、按要求画一画。(4')

- (1) 在☆的上面画○；
- (2) 在☆的左面画△；
- (3) 在△的下面画◎；
- (4) 在◎的右面画□；



2、按要求画一画。(4')

(1)画○，比△多 2 个



(2)画△，比○少 1 个




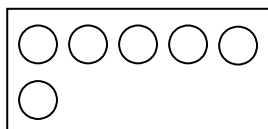
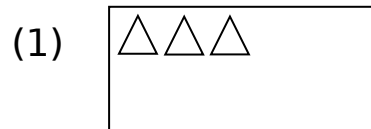
(3)画□，和○同样多



(4)画△，比○多



3、接着画，画满 10 个。(5')




(2) ○△○△_____

★★☆★★☆_____


四、解决问题。(共 18 分，每式 2 分)



$$\square + \square = \square$$




$$\square + \square = \square$$



$$\square + \square = \square$$



$$\square + \square = \square$$



$$\square - \square = \square$$



$$\square + \square = \square$$

$$\square + \square = \square$$



$$\square + \square = \square$$

$$\square + \square = \square$$

五、算一算，填一填。(共 21 分)

1、你能算得又快又准吗？(15')

$$4 + 1 = \quad 3 - 2 = \quad 5 - 4 = \quad 2 + 3 = \quad 3 + 1 = \quad 0 +$$

0 =

$$5 - 2 = \quad 4 - 3 = \quad 2 + 2 = \quad 4 - 1 = \quad 2 + 1 = \quad 4 -$$

2 =

$$5 + 2 = \quad 3 + 0 = \quad 4 - 0 = \quad 0 + 1 = \quad 1 + 2 = \quad 4 -$$

4 =

$$3 - 3 = \quad 3 + 2 = \quad 1 + 4 = \quad 2 - 0 = \quad 0 + 5 = \quad 3 +$$

$3 =$

$5 - 5 = \quad 5 - 3 = \quad 2 + 4 = \quad 4 + 3 = \quad 2 + 5 = \quad 1 +$

$5 =$

2、在□里填上适当的数。(6')

$4 - \square = 0 \quad \square - 0 = 5 \quad 0 + \square = 3$

$2 + \square = 2 \quad \square + \square = 0 \quad \square - \square = 0$