

邹城市 2012—2013 学年度第一学期小学数学

一年级期末教学质量检测试题

(时间：60 分钟)

一、 我会算

$3 + 6 =$

$10 + 8 =$

$9 + 5 =$

$3 + 7 + 9 =$

$8 - 4 =$

$11 - 10 =$

$10 - 7 =$

$8 - 3 + 9 =$

$7 + 8 =$

$7 + 9 =$

$13 - 3 =$

$9 + 10 - 5 =$

$5 - 2 =$

$8 + 3 =$

$8 + 4 =$

$12 - 2 + 4 =$

$9 + 6 =$


$16 - 4 =$

$7 + 6 =$



$8 + 5 + 2 =$

二、 我会想、我会填

- 18 里面有 () 个十和 () 个一。2 个十是 ()。
- 一个数，十位上是 1，个位上是 7，这个数是 ()。
- 和 15 相邻的两个数是 () 和 ()。
- 比 11 大而又比 14 小的数是 () 和 ()。
- 现在是 4 时，再过 1 小时是 () 时。



(1) 上面一共有 () 只小动物，  的后面有 () 只小动物。

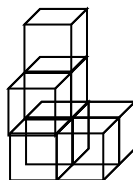
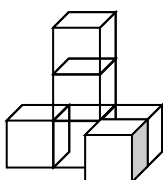
(2) 从左往右数，  排第 ()，从右往左数，  排第 ()。

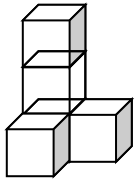
7. 画 \triangle ，比 \square 多 2 个。 画 \bigcirc 比 \star 少 3 个

$\square \square \square \square$

$\star \star \star \star \star \star \star \star$

8. 在最多的下面画“ \checkmark ”，再最少的下面画“ \bigcirc ”。





() () ()

9. 在 () 里填上合适的数。

$10 + () = 16$

$6 + () = 14$

$() + () = 10$

$9 + () = 12$

$8 - () = 3$

$() - () = 5$

10. 在○里填上“>”“<”或“=”。

$14 \bigcirc 9 + 4$

$12 \bigcirc 8 + 5$

$9 + 8 \bigcirc 20$

$10 - 4 \bigcirc 6$

11. 在○里填上“+”或“-”。

$8 \bigcirc 6 = 2$

$7 \bigcirc 5 = 12$


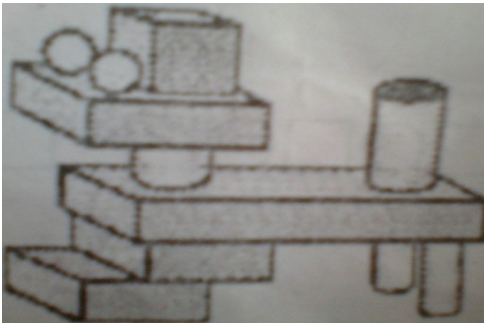
$14 \bigcirc 4 = 10$

$9 \bigcirc 4 = 13$

三、



我会数、也会填



有 () 个



有 () 个



有 () 个

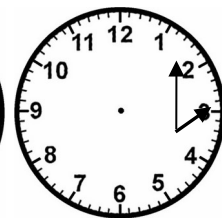
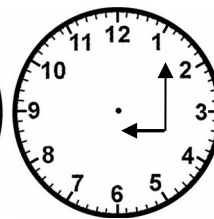
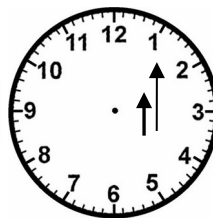

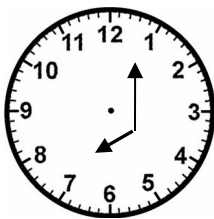


有 () 个

四、



我会认、也会连。



12:00

8:00

6:00

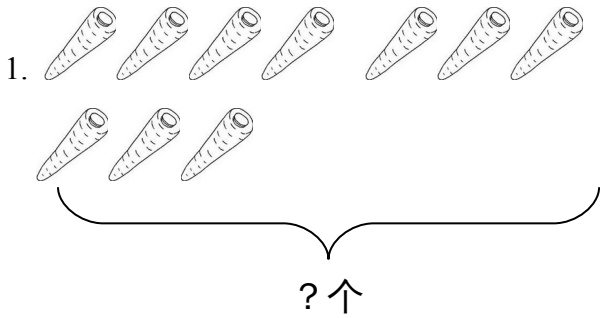
2:00

9:00

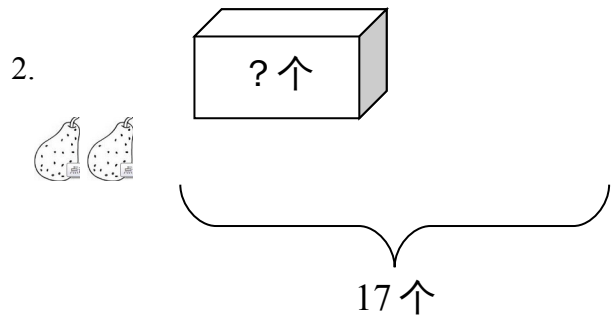
五、




我会列式计算。



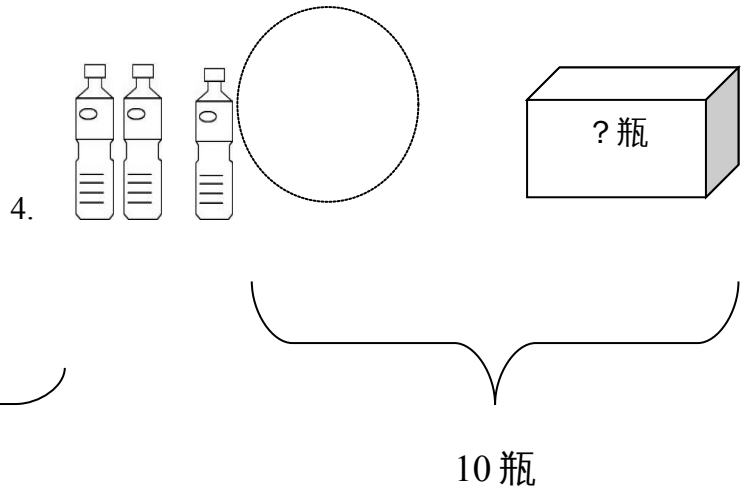
$$\square \bigcirc \square = \square \text{ (个)}$$



$$\square \bigcirc \square = \square \text{ (个)}$$



$$\square \bigcirc \square \bigcirc \square = \square \text{ (只)}$$



$$\square \bigcirc \square \bigcirc \square = \square \text{ (瓶)}$$

六、



我会用数学。

1.



有 16 本书，已
经发了 10 本。



还剩多少本？

$$\square \bigcirc \square = \square \text{ (个)}$$

2.



我已经得了 9
颗 ☆，今天老
师又将给 3 颗
☆。



你一共得了多少
颗 ☆？

$$\square \bigcirc \square = \square \text{ (个)}$$

3.



一班植了 8 棵



二班植了 7 棵

两个班一共植了多少棵树？

$$\square \bigcirc \square = \square \text{ (个)}$$

4. 瓜地里还剩 8 个西瓜。

我吃了 4 个，
原来有多少
个？

$$\square \bigcirc \square = \square \text{ (个)}$$