

一年级数学下学期期末考试试卷

$36+27+14=$

$87-11-26=$

$42-21+40=$

一、口算。(12分)

$15 + 20 =$ $60 - 30 =$ $52 + 30 =$ $81 - 40 =$
 $31 + 10 =$ $25 + 20 =$ $80 + 20 =$ $20 + 40 =$
 $68 - 7 =$ $32 + 6 =$ $65 + 4 =$ $60 - 30 =$

二、填空。(30分)

- 42 里面有 () 个十和 () 个一。
- 5 个十和 4 个一组成的数是 ()。10 个一是 ()。10 个十是 ()。
- 8 元 = () 角 5 角 = () 分
16 分 = () 角 () 分 80 分 = () 角
- 最大的一位数是 ()，最大的两位数是 ()。它们的差是 ()。
- 和 59 相邻的两个数是 () 和 ()。
- 一个数从右边起第一位是 () 位，第二位是 () 位，第三位是 () 位。
- 28 读作：()，五十六写作：()，三十写作：()。
- 人民币的单位是 ()、()、()。
- 找规律填数：10、()、30、()、50、()、()、80、90、100。
- 钟面上的长针是 () 针，短针是 () 针。

三、在○里填上>、<、或=。(6分)


$40 \bigcirc 50$ $34 \bigcirc 43$ $10 + 36 \bigcirc 50$
 $45 + 5 \bigcirc 40$ $88 - 68 \bigcirc 30$ $20 + 32 \bigcirc 61$

四、用竖式计算。(18分)



$43 + 28 =$ $35 - 25 =$ $68 + 7 =$

五、我会填。(8+6分)

1. 数一数，填表。



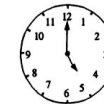

	() 个
	() 个
	() 个
	() 个



2.



	() 个
	() 个
	() 个
	() 个




六、列式计算。(8分)

- 一个加数是 38，另一个加数是 27，和是多少？
- 减数是 19，被减数是 91，差是多少？
- 比 58 少 7 的数是多少？
- 比 40 多 6 的数是多少？

七、解决问题。(12分)

- 小红做了 36 道题，小明做了 29 道题，他们一共做了多少道题？
- 一本故事书有 76 页，看了 26 页，还剩多少本页？



3 车上原来有 45 人，下车 26 人，上车 18 人，车上现在有多少人？

