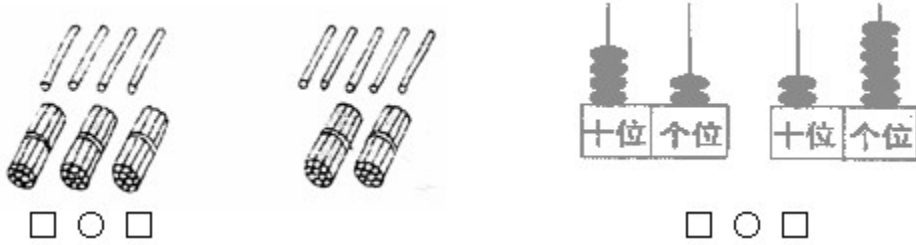


# 一年级下册数学期末试卷

一、填上合适的数。(每小题4分,共12分)

1.看图写数,再比较两个数的大小。



2.按顺序填数。



3. (1) 83十位上的8表示8个( ),个位上的3表示3个( )。  
 (2) 78里面有( )个十和( )个一。  
 (3) 49和51中间的数是( )。  
 (4) 和61相邻的两个数是( )和( )。

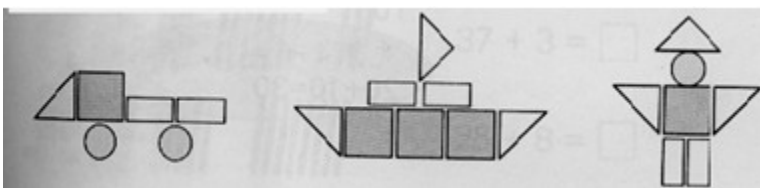
二、在○里填上“+”或“-”(每小题1分,共4分)

$28 \bigcirc 5 = 33$      $39 \bigcirc 6 = 33$      $45 \bigcirc 6 = 51$      $67 \bigcirc 8 = 59$

三、在○里填上“<”“>”或“=”。(每小题1分,共6分)

$39 - 5 \bigcirc 35$      $46 + 20 \bigcirc 65$      $46 \bigcirc 66 - 20$   
 $76 - 8 \bigcirc 68$      $87 - 40 \bigcirc 45$      $50 \bigcirc 57 - 9$

四、数一数。(6分)



「长方形有( )个;  
 正方形有( )个;  
 三角形有( )个。」

五、在合适的答案下面画“√”。(4分)



梅花鹿可能有多少只？      羚羊可能有多少只？

43	46	54

43	46	54

六、找朋友。(连上线) (4分)

七、看图列式计算。(共10分)

1. (4分)

$\square \bigcirc \square = \square$        $\square \bigcirc \square = \square$   
 $\square \bigcirc \square = \square$        $\square \bigcirc \square = \square$

2. (6分)



$$\square \bigcirc \square = \square$$

$$\square \bigcirc \square = \square$$

$$\square \bigcirc \square = \square$$

八、口算直接写出得数 (每小题 1 分, 共 20 分)

$35+8=$      $16-9=$      $69+2=$      $60+26=$      $63-30+6=$

$49+40=$      $37+50=$      $56-9=$      $58+30=$      $70+14-9=$

$86-8=$      $66-60=$      $62-30=$      $12-6=$      $15+7+20=$

$50+32=$      $48-8=$      $65+9=$      $64-7=$      $85-9-60=$

九、填上合适的时间 (每小题 1 分, 共 6 分)



现在钟面上分别是: \_\_\_\_\_  
 再过 3 小时分别是: \_\_\_\_\_

十、元角分 (每小题 1 分, 共 4 分)

$3 \text{元} = ( ) \text{角}$      $25 \text{角} = ( ) \text{元} ( ) \text{角}$



\_\_\_\_\_元 \_\_\_\_\_角 \_\_\_\_\_分



\_\_\_\_\_元 \_\_\_\_\_角 \_\_\_\_\_分

十一、解决问题 (20 分)

1、一支钢笔的价钱是 15.00 元, 一个文具盒的价钱是 9.00 元

买这两件商品要花多少元? (3 分)

买一个文具盒比买一支钢笔少用多少元? (3 分)

2、学校买来体育用品。

	 足球	 排球	 篮球
个数	9	20	36



比



少几个？(2分)



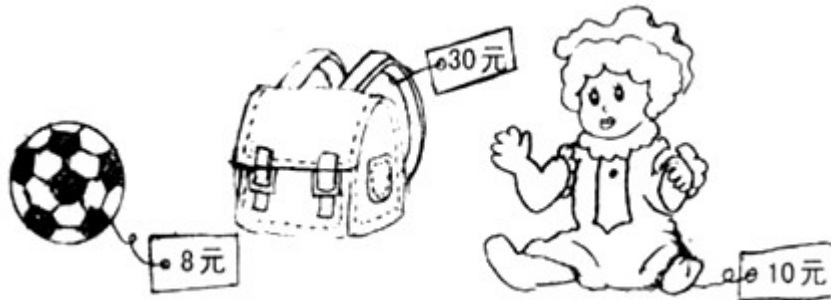
比



多多少？(2分)

还能提出什么问题并解答出来(4分)

3、



(1)一个洋娃娃比一个书包便宜多少元？(3分)



(2)用50元买这三件物品，够吗？(3分)