

# 2013-2014 年度第一学期北师大株洲附属学校小学部

## 一年级数学期末考试卷

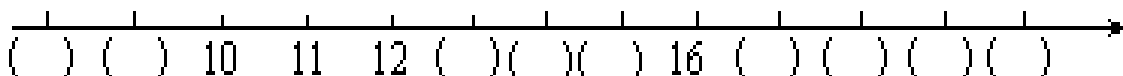
( 满分 100 分, 时间 : 60 分钟)

计分 : \_\_\_\_\_

同学们, 一学期的快乐学习之后, 你都有什么收获呢? 马上进入数学王国考考自己吧!

### 一、我会填。(共 22 分)

1、按顺序填数。




2、17 里面有( )个十和( )个一, 再加( )个一就是 20。

3、8 个一和 1 个十合起来是( )。这个数读作: ( )。

4、16 相邻的数是( )和( )。

5、10 前面的数是( ), 19 后面的数是( )

6、看图写数。



### 二、我会算。(共 24 分)

1、我是小小神算子。(16 分)

$9 - 3 =$

$10 - 4 =$

$8 + 4 =$

$16 - 6 + 8 =$

$7 + 5 =$

$0 + 8 =$

$10 - 10 =$

$8 + 9 - 5 =$

$6 + ( ) = 11$

$( ) + 9 = 12$

$4 + ( ) = 9$

$6 + 3 + 4 =$

$( ) + 3 = 15$

$7 + ( ) = 18$

$15 - ( ) = 13$

$10 - 7 + 2 =$

学号: \_\_\_\_\_ 班级: \_\_\_\_\_ 姓名: \_\_\_\_\_

2、请你在○里填上“>、<、或=”，在□里填上合适的数。（8分）

16○7    19-9○8    6+8○6+6    20>□

7+10○17    5+6○15    7+4○14-3    □<13

三、我会做。（14分）

1、先仔细观察，再按要求完成。（8分）



(1) 正方体有（ ）个，长方体有（ ）个，圆柱体有（ ）个，球有（ ）个。

(2) 从左边数，第4个图形和第8个图形之间有（ ）个图形。

(3) 把左边的3个圈起来，再把从右边数的第6个图形涂上颜色。

2、认一认，连一连。（6分）



4 时



2 : 00



3 时



快 8 时了



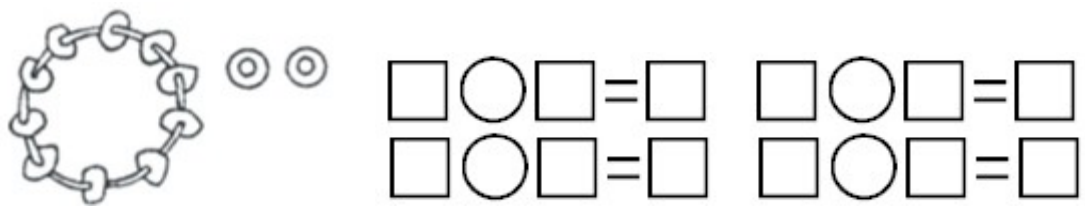
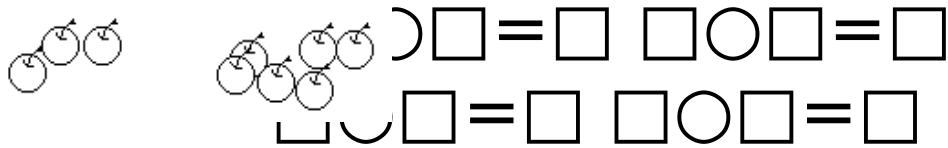
4 时刚过



5 : 00

四、看图列式。(共 20 分)


1、一图四式。(8 分)



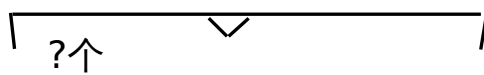
2、列式计算。(12 分)



$\square \bigcirc \square = \square$



$\square \bigcirc \square = \square$



$$\square \bigcirc \square \bigcirc \square = \square$$

$$\square \bigcirc \square \bigcirc \square = \square$$

## 六、用数学解决生活中的问题。(20分)

1、停车场原来有 7 辆车。



$$\square \bigcirc \square = \square$$

(辆)

答：现在有 辆

2、学校图书馆里原来有 18 本《数学故事》。



$$\square \bigcirc \square = \square \text{ (本)}$$

答：还有 本。

3、聪明的小朋友，请仔细观察下面的图，并列两个不同的算式。



= (   )



= (   )

“细心是成功的秘密武器”，仔细检查哦。祝小朋友们交一份满意的答卷！