

2013-2014 学年度第一学期北师大株洲附校小学部

一年级数学期末考试卷

(满分 100 分, 时间 60 分钟)

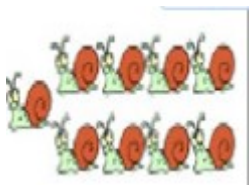
计分\_\_\_\_\_

一、填一填。(35 分)

1. 我会看图写数



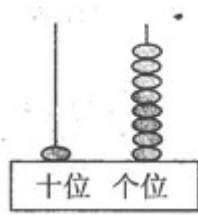
( )



( )

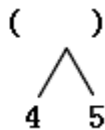
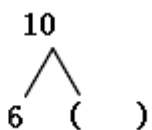
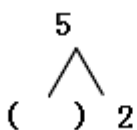
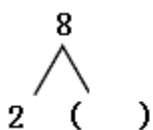


( )



( )

2.



3. 与 19 相邻的数是 ( ) 和 ( )。

4. 一个加数是 8, 另一个加数是 5, 和是 ( )。

5. 减数是 8, 被减数是 19, 差是 ( )。

6.



(1) 一共有 ( ) 个小动物。

(2) 小鹿排第一, 小熊排第 ( ), 小兔排第 ( )。

从左边数, 请把第 4 个小动物圈起来

7. 16 的个位上是 ( ), 表示 ( ) 个一, 十位上是 ( ),

表示 ( ) 个十

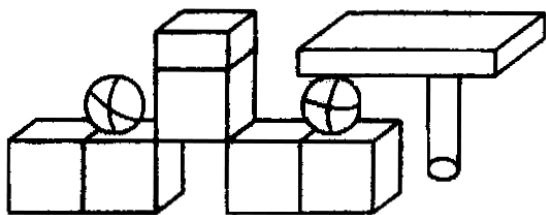
学号:

班级:

姓名:

8. 6个一，1个十组成的数是( )。 30里面有( )个十。

9.



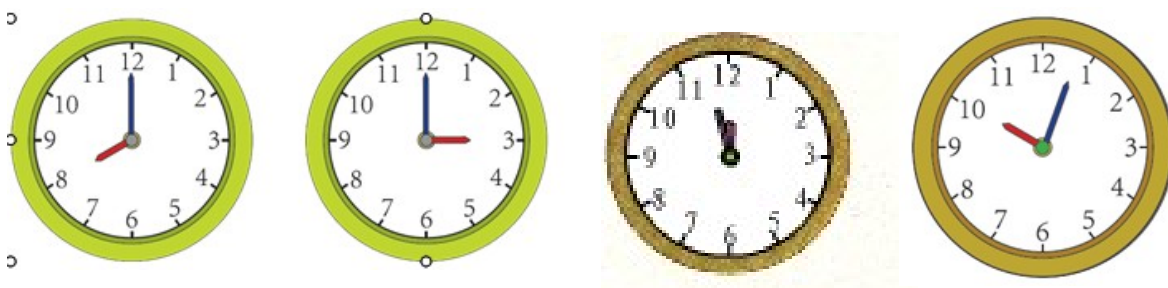
长方体	( )个
正方体	( )个
圆柱	( )个
球	( )个

10. 计数器上从右边起，第一位是( )位，十位是第( )位。

11. ( ) + 6 = 13      8 + ( ) = 17      12 + ( )

= 12

12.



( )      ( )      大约( )      大约( )

二、相信我能填对。(每题1分，共24分)

1. 快来算一算。

$3+8=$

$6+7=$

$2+9=$

$7+9+3=$

$4+7=$

$8-3=$

$12+5=$

$10-4+6=$

$7+5=$

$9+3=$

$8+9=$

$6+2-5=$

2. 在○里填上“>”、“<”或“=”。

$8 \bigcirc 4$

$16 \bigcirc 10$

$18 - 8 \bigcirc 10$

$\bigcirc$

$9+7$  ○  $18$        $0+9$     $9-0$        $7+8$     $8+7$  ○

3.在 ( ) 里填上“+”或“-”。

$8$  ( )  $4=12$        $11$  ( )  $0=11$        $7$  ( )  $1=8$

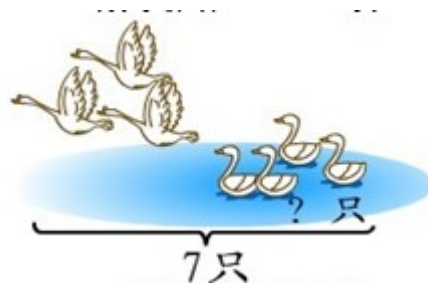
$16$  ( )  $6=10$        $8$  ( )  $4=4$        $14$  ( )  $4=10$

## 二、投篮。(5分)

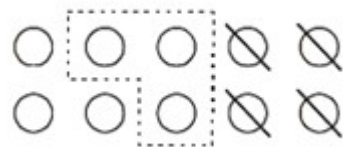


## 三、我会列算式(36分)

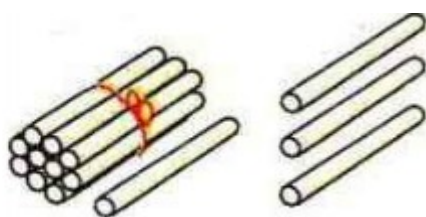

### 1.看图列算式。(16分)



$\square \bigcirc \square = \square$  (只)       $\square \bigcirc \square = \square$  (只)



2. 一图四式。(8分)



$$\begin{array}{l} \square \bigcirc \square = \square \\ \square \bigcirc \square = \square \\ \square \bigcirc \square = \square \\ \square \bigcirc \square = \square \end{array}$$

$$\begin{array}{l} \square \bigcirc \square = \square \\ \square \bigcirc \square = \square \\ \square \bigcirc \square = \square \\ \square \bigcirc \square = \square \end{array}$$

3. 解决问题。(每题6分,共12分)



$$\square \bigcirc \square \bigcirc \square = \square$$


$$\square \bigcirc \square \bigcirc \square = \square$$



水里有7只。

一共有多少只？

$$\square \bigcirc \square = \square \text{ (只)}$$



还有几只？



有\_\_只小鸟，  
飞走\_\_只。



$$\square \bigcirc \square = \square \text{ (只)}$$





线

订

装