

## 2014 人教版一年级数学下册期中考试题

### 一、口算 (20分)★★

$12 - 7 = \quad 14 - 5 = \quad 4 + 9 = \quad 9 + 8 =$

$15 - 5 = \quad 18 - 9 = \quad 59 - 9 = \quad 50 + 8 =$

$10 + 40 = \quad 45 - 5 = \quad 30 + 5 = \quad 75 - 30 =$

$57 - 40 = \quad 10 + 9 = \quad 20 + 5 = \quad 73 - 40 =$

$19 - 9 + 3 = \quad 39 - 9 + 8 =$

$15 - 8 + 2 = \quad 11 - 9 + 4 =$

### 二、填空题 (33分) ★

1、80 里面有 ( ) 个十；由 4 个十和 8 个一组成的数是 ( )。

2、十位是 5，个位是 0，这个数是 ( )。

( ) 个十是 100。

3、34 的十位上是 ( )，表示 ( ) 个十；它的个位上是 ( )，表示 ( ) 个一。

4、从右边起，第一位是 ( ) 位，第 ( ) 位是十位，第三位是 ( ) 位。

5、74 前面的一个数是 ( )，后面的一个数是 ( )。

6、把这些数从大到小排一排：76，25，60，19，100，82，46

。

( ) > ( ) > ( ) > ( ) > ( ) > ( ) > ( )

### 7、按规律填数

(1) 2、4、6、( )、( )。 w w .

(2) 40、35、30、( )、( )。

8、用30、8、38三个数写出两个加法算式、两个减法算式。

\_\_\_\_\_

\_\_\_\_\_

9、在○里填上“>”、“<”或“=”

$70 - 30 \bigcirc 30$        $60 \bigcirc 67 - 7$        $80 - 10 \bigcirc 70 - 30$

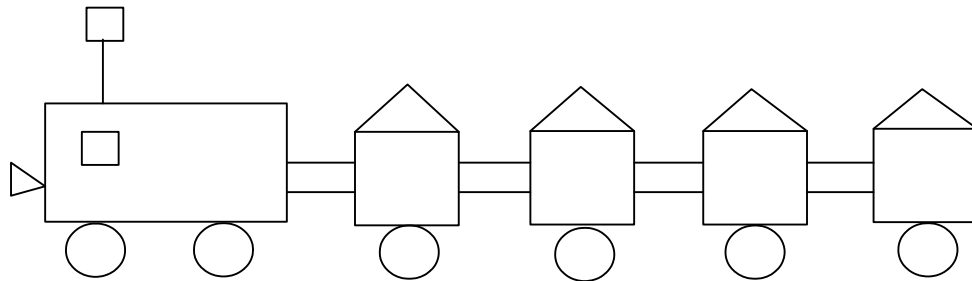
$78 \bigcirc 69$        $99 \bigcirc 100$        $78 \bigcirc 78$

三、把算式与得数用线段连接起来 (4分) ★

$7 - 3$        $20 + 9$        $50 + 6$        $87 - 7$

56      29      80      4

四、请你数一数，填一填：(8分) ★



这辆小火车里有 ( )  $\square$ ，有 ( )  $\Delta$ ，有 ( ) 个  $\bigcirc$ ，  
有 ( ) 个  $\square$

五、在你认为合适的答案下面打“√” (9分) ★


1、梨有40个，苹果的个数比梨少得多，苹果可能有多少个？

18个	28个	48个

2、 三 (5) 班有 47 人去春游，坐哪辆汽车比较合适？

40 座的	50 座的	30 座的

3、小汽车的价钱比飞机便宜一些，小汽车可



能要多少钱？

60 元      ? 元

73 元	57 元	22 元

### 六、文字叙述题 (4分) ★




1. 一个加数是 50，另一个加数是 6，和是多少？

2. 从 65 里减去 5，差是多少？

### 七、解决问题 (22分) ★

1、阿姨买来 10 米布，做衣服用了 8 米，还剩几米？。

$$\square \bigcirc \square = \square$$

2、  50 个，  30 个，  一共有多少个？

$$\square \bigcirc \square = \square$$

3、金鱼缸里有 15 条红金鱼，6 条花金鱼，再买几条花金鱼就和红金鱼同样多？

$$\square \circ \square = \square$$

4、美术小组有 30 人，其中女生有 20 人，男生有多少人？

$$\square \circ \square = \square$$

5、商店原有 48 台电视机，卖出了 8 台后，还剩下多少台？

$$\square \circ \square = \square$$

6、



把这些草莓都装进纸箱里，装得下吗？

$$\square \circ \square = \square$$