

二月份第四周质量检测题试卷

学校: _____ 班级: _____ 姓名: _____

一、看一看,说一说。(5分)

			 在  的 () 面。
			 在  的 () 面。
			 在  的 () 面。
			() 在最中间

二、动物园的小动物排成一队:(5分)



- (1)  的 () 面是  ;
- (2)  的 () 面是  ;
- (3)  在 ()  面;
- (4)  的 () 面有 () 只  。

三、填空题(每空1分,共12分)

1. $15-9=()$

2. $12-8=()$

想: 9 加() 等于 15,

想: 8 加() 等于 12,

15 减 9 等于()。

12 减 8 等于()。

3. $8+()=12$

$5+()=14$

$8+()=16$

$8+()=15$

$4+()=11$

$7+()=13$




四、判断题,在正确答案后面划“√”,错的画“×”。(每题1分,共3分)


1.  拿球拍的是左手。()
2.  小鸟的后面是小兔。()



3. 花在蜜蜂的下面。()


4、填一填(12分)

				
第一行				

 在第 () 行第 () 格。

 在  的 () 边。

 在  () 。

 在第 () 行第 () 格。

五、口算题(每题1分共20分)

