


第一单元数数练习

姓名: _____

一、数一数，每一种物品有几个？



二、有图画数。



1 3 5



3 4 5



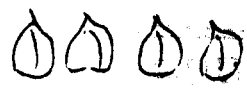
8 9 10

三、按

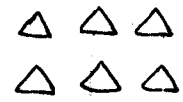
(1)画(



4 6 7



4 5 6



8 7 6

四、看数画图。

(1)画 5 个 ○

(2)画 7 个 △

