

## 2019-2020 学年重庆市綦江区一年级（上）期末数学试卷

一、认真细致，我会填。（本大题包括 5 个小题，共 28 分）

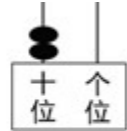
1. 看图写数。



(      )



(      )

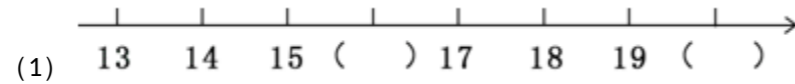


(      )



(      )

2. 找规律，填数。



(2) 0, 5, 10, \_\_\_\_\_, \_\_\_\_\_.

(3) 17, 15, 13, \_\_\_\_\_, \_\_\_\_\_.

3. 在○里填“>”“<”或“=”，在□里填适当的数。

$9 \bigcirc 11$	$4 + 5 \bigcirc 8$	$3 - 0 \bigcirc 3 + 0$
$10 > \square$	$12 < \square$	$\square = \square$

4. 13 里面有 \_\_\_\_\_ 个十和 \_\_\_\_\_ 个一。

5. 被减数是 18，减数是 7，差是 \_\_\_\_\_。

6. 10 里面有 \_\_\_\_\_ 个一，20 里面有 \_\_\_\_\_ 个十。

7. 14 的个位上的 4 表示 \_\_\_\_\_ 个一，十位上的 1 表示 1 个 \_\_\_\_\_。

8. 数字卡片。



第 1

(1) 一共有 \_\_\_\_\_ 张数字卡片。

(2) 卡片上最大的数是 \_\_\_\_\_，最小的数是 \_\_\_\_\_。

(3) 数字 7 是第 \_\_\_\_\_ 张卡片，第 5 张卡片上的数是 \_\_\_\_\_。

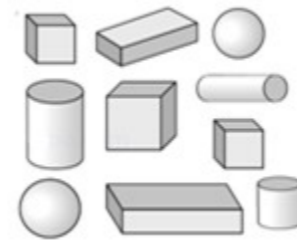
二、心灵手巧，我会做。（本大题包括 4 个小题，共 10 分）

9. 分一分，把每行中不同的图圈起来。

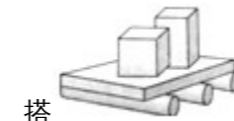


10. 认一认，数一数，填一填。

长方体有 \_\_\_\_\_ 个，正方体有 \_\_\_\_\_ 个，圆柱有 \_\_\_\_\_ 个，球有 \_\_\_\_\_ 个。



11. 按要求拼搭。



搭 \_\_\_\_\_，用到了哪些图形？请圈出来。



12. 按要求拼搭。

用如图的四个图形搭成一个新图形，要想搭得最牢固，最下面不应该放\_\_\_\_\_。(填序号)



13. 小灰可能采多少朵蘑菇？(画√)

小黑可能采多少朵蘑菇？(画△)

3朵	9朵	12朵	20朵
_____	_____	_____	_____



三、细心计算，我很准。(本大题包括3个小题，共35分)

14. 口算。

$10 - 6 =$	$7 + 4 =$	$9 - 7 =$	$12 + 3 =$
$9 + 5 =$	$18 - 2 =$	$12 + 3 =$	$13 - 7 =$
$4 + 12 =$	$3 + 7 =$	$12 - 4 =$	$16 - 8 =$
$15 + 0 =$	$6 + 8 =$	$19 - 4 =$	$6 + 2 =$
$16 - 7 =$	$3 + 9 =$	$15 - 8 =$	$5 + 6 =$

15. 计算。

$2 + 3 + 4 =$	$6 + 9 - 10 =$	$12 - 4 - 5 =$
$5 + 8 - 3 =$	$4 + 7 + 2 =$	$17 - 3 - 8 =$

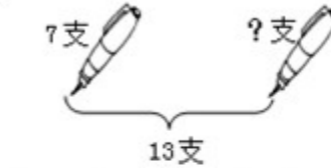
16. 在横线里填上合适的数。

$4 + \underline{\quad} = 10$	$\underline{\quad} - 5 = 2$	$17 = \underline{\quad} + 7$
$15 - \underline{\quad} = 9$	$\underline{\quad} + 7 = 16$	$\underline{\quad} - \underline{\quad} = 8$

四、看图列式，我能行。(共10分)

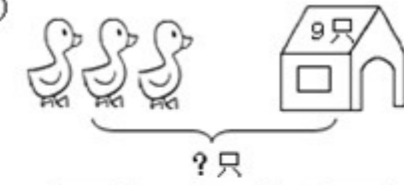
17. 看图写算式。

(1)



$$\square \bigcirc \square = \square$$

(2)



$$\square \bigcirc \square = \square$$

(3)



$$\square + \square = \square$$

$$\square - \square = \square$$

(4)



$$\square \bigcirc \square \bigcirc \square = \square$$

五、解决问题，我最棒！(本大题包括5个小题，共17分)

18. 植树节。他们一共栽了多少棵树？



$$\square \bigcirc \square = \square \text{ (棵)}$$

19. 妈妈买回17个梨，吃了8个，还剩下多少个？

$$\underline{\quad} \bigcirc \underline{\quad} = \underline{\quad} \text{ (个)}$$

20. 树上原来有多少个苹果？



摘走 9 个后还剩 4 个。



$$\square \bigcirc \square = \square \text{ (个)}$$

21. 小明家要来<sup>13</sup>位客人，每人一套餐具，还需要准备多少套餐具？

这是准备好的餐具。



$$\square \bigcirc \square = \square \text{ (套)}$$

22. 最多还剩多少元？



牛奶 5 元



面包 6 元



蛋糕 3 元

我用 10 元买了两种早餐。



$$\square \bigcirc \square \bigcirc \square = \square \text{ (元)}$$