

地理学科教师专业能力考核试题

(时间：120分钟 满分：100分)

题目	一	二	总分
得分			

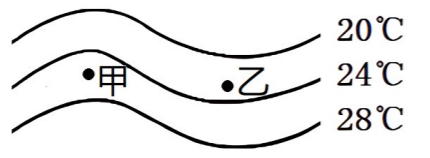
选择题 (每题1分, 45分)

1. 2022年11月8日晚,我国大部分地区出现月食现象。月食现象可以作为以下哪个地理现象的证据 ()
- A.地球的形状 B.地球的大小 C.地球的自转方向 D.地球的公转方向
2. 下图示意某酒店大堂挂钟,不同城市挂钟所显示的时间不同,原因是 ()



- ①地球公转 ②地球自转 ③经度差异 ④纬度差异
- A. ②③ B. ①④ C. ①③ D. ②④

3. 下图为7月份某一地区海陆等温线分布图,下列说法正确的是 ()



- A. 甲为陆地,乙为海洋;位于北半球 B. 甲为海洋,乙为陆地;位于北半球
- C. 甲为陆地,乙为海洋;位于南半球 D. 甲为海洋,乙为陆地;位于南半球

4. 印度粮食生产不稳定的主要影响因素是 ()

A. 西南季风 B. 地形 C. 劳动力 D. 农业技术

5. 南水北调工程是中国最大规模的跨流域水资源综合利用工程,其东线和中线工程已正式通水,以缓解华北地区的缺水问题。我国华北地区水资源短缺的原因包括 ()

- ①水资源总量较少②工农业发达,人口稠密,用水量大

- ③水污染和浪费严重④地处干旱半干旱地区⑤降水时间分配不均
- A. ①②③⑤ B. ②③④⑤ C. ①③④⑤ D. ①②③④

6. 人类共同的家园—地球是一个不规则球体,其赤道周长约为 ()

A. 6371千米 B. 4万千米 C. 5.1亿平方千米 D. 6357千米

7. 地图的基本要素不包括 ()

A. 比例尺 B. 方向 C. 等高线 D. 图例

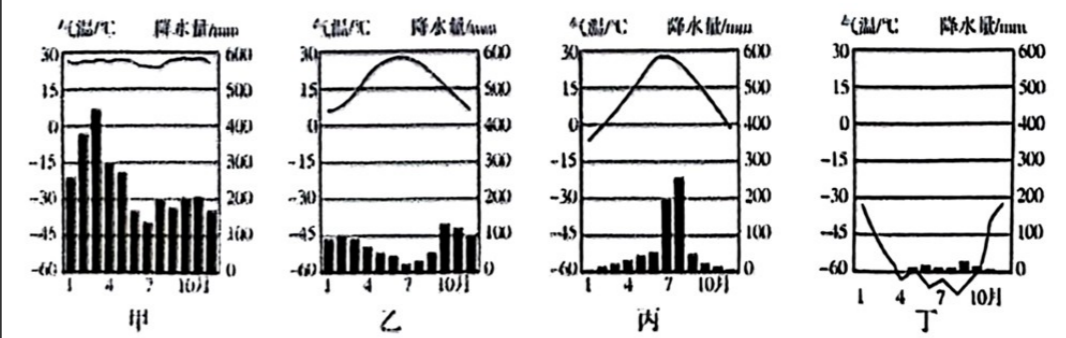
8. 在分层设色地形图上,绿色表示的地形是 ()

A. 高原 B. 丘陵 C. 山地 D. 平原

9. “气象经济”近几年成为热门话题。下列天气符号与生产生活搭配合适的是 ()

- A. ☀—晾晒衣服 B. ☀—外出春游
- C. ☁—户外活动 D. ⚡—高空作业

读下面四地气温曲线与降水量柱状图,完成下面小题。



10. 夏季炎热干燥,冬季温和多雨描述的是 ()

- A. 甲 B. 乙 C. 丙 D. 丁

11. 丁地最可能是 ()

- A. 亚马孙平原 B. 地中海沿岸 C. 华北平原 D. 南极地区

2025年1月7日,西藏自治区日喀则市定日县发生6.8级地震。根据材料完成10-12题

12. 有关定日县的说法正确的是 ()

- A. 位于北半球 B. 位于中纬度地区
- C. 靠近云南省 D. 位于地势第三级阶梯

13. 日喀则地震的原因是 ()

姓名

学校

班级

考场号

线
答
得
本
封
线
内
不
得
答
题

- A. 位于太平洋板块与亚欧板块的交界处，地壳活跃
- B. 位于印度洋板块与非洲板块的交界处，地壳活跃
- C. 位于亚欧板块与印度洋板块的交界处，地壳活跃
- D. 位于亚欧板块与非洲板块的交界处，地壳活跃

14. 在地震发生时，我们应（ ）

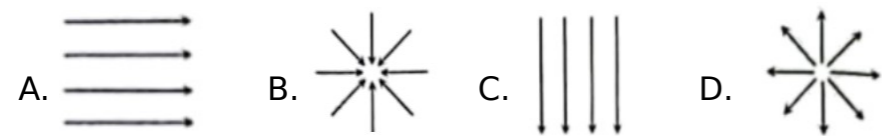
- A. 在楼房应迅速乘电梯逃离
- B. 在家中可暂时躲在墙角或卫生间
- C. 在室外应靠近高大建筑物
- D. 在教室应坐在原地保持静止不动

“我们亚洲，山是高昂的头，我们亚洲，河像热血流……”听到这首《亚洲雄风》，我们的脑海中会呈现出一幅亚洲壮丽山河的画卷。据此完成下面小题。

15. “我们亚洲，山是高昂的头”，这里的“山”如果是世界的“头”，那么这座“山”是（ ）

- A. 天山博格达峰
- B. 唐古拉山各拉丹冬峰
- C. 喀喇昆仑山乔戈里峰
- D. 喜马拉雅山珠穆朗玛峰

16. 下列示意图能正确反映亚洲河流流向的是（ ）



17. “三洲五海”之地是指（ ）

- A. 东南亚
- B. 西亚
- C. 北美洲
- D. 西欧

18. 被称为“骑在羊背上”和“坐在矿车上”的国家是（ ）

- A. 英国
- B. 新西兰
- C. 澳大利亚
- D. 巴西

19. 欧洲人以牛羊肉和乳产品为主要食物，这种饮食结构是因为这里有发达的（ ）

- A. 畜牧
- B. 种植业
- C. 工业
- D. 服务业

2024年2月，我国第五个南极科考站秦岭站正式开站。图为秦岭站建成效果图，读图完成下面小



题。

20. 秦岭站主楼建筑架空离地，最关键的作用是（ ）

- A. 通风散热
- B. 防水防潮
- C. 防强紫外线辐射
- D. 防大风，防积雪掩埋

21. 在南极进行科学考察时，下列做法正确的是（ ）

- A. 焚烧生活垃圾
- B. 大规模利用生物资源
- C. 随意丢弃酒瓶、罐头盒
- D. 作为科研基地，注重环境保护

央视纪录片《航拍中国》片头介绍“你见过什么样的中国？是960万平方公里的辽阔，还是300万平方公里的澎湃；是四季轮回的天地，还是冰与火的乐章。”据此完成下面小题。

22. “960万平方公里的辽阔，还是400多万平方公里的澎湃”，说明我国（ ）

- A. 邻国众多
- B. 疆域辽阔
- C. 岛屿众多
- D. 资源丰富

23. “四季轮回的天地，冰与火的乐章”，道出了我国（ ）

- A. 南北跨纬度广，气候差异明显
- B. 东西距离长，时间差异大
- C. 大部分位于高纬度，终年严寒
- D. 热带面积广，光热条件好

24. 下列民族风情与所属民族相符的是（ ）

- A. 那达慕大会——蒙古族
- B. 泼水节——满族
- C. 赛龙舟——傣族
- D. 长鼓舞——土家族

25. 节目中有很多涉及地理知识的诗词，如：①羌笛何须怨杨柳，春风不度玉门关。②天苍苍，野茫茫，风吹草低见牛羊。③欲把西湖比西子，浓妆淡抹总相宜。

上述①②③描述的内容分别对应的主要省级行政区域是（ ）

- A. 山西，新疆、内蒙古
- B. 四川、新疆、贵州
- C. 甘肃、内蒙古、浙江
- D. 甘肃、河南、江苏

26. 黄河被称为中华民族的母亲河，黄河水有“一碗水，半碗泥”的说法。这种现象反映了黄河的哪种水文特征（ ）

- A. 水量大
- B. 有凌汛
- C. 汛期短
- D. 含沙量大

27. 下列现象或事件，属于自然灾害的是（ ）

- A. 一场突如其来的冰雹，把地里的西瓜砸烂了
- B. 化工厂废水泄漏，水田被污染，有刺鼻的臭味
- C. 一游客违反规定在林区吸烟，乱扔烟头引发森林火灾
- D. 塔克拉玛干沙漠三个月未下一滴雨

密封线内不得答题

姓名

学校

班级

考场号

线
答
得
本
封
线
内
封
密

河北省张北地区有“风的故乡、光的海洋”之美誉，可再生能源转化的电力每年可供应北京市约十分之一的用电量，使北京冬奥会首次实现了100%使用“绿色”电力。据此完成下面小题。

28. “张北的风，吹亮了北京的灯”，说明张北输送至北京的“绿色”电力来自（ ）
A. 风能 B. 潮汐能 C. 水能 D. 地热能

黑土地是耕地中的“大熊猫”，提及黑土地，人们马上就想到了北大仓。其实，东北三省不仅是“中国饭碗”，也是“国之重器”之地。据此完成下面小题。

29. 东北三省气候冷湿，农作物一年一熟，主要影响因素是（ ）
A. 海陆位置 B. 纬度位置 C. 地形地势 D. 人类活动

30. 东北三省是“国之重器”之地，下列关于东北三省工业的叙述正确的是（ ）
A. 我国最大的重工业基地 B. 煤、铁、石油等矿产资源匮乏
C. 高新技术产业为主 D. 东北老工业基地已全面振兴

31. 北京成功举办冬奥会，主要体现了北京是全国的（ ）
A. 政治及文化中心 B. 文化及国际交往中心
C. 科技创新中心 D. 政治及经济中心

“高铁好南高铁妙，45分钟沪扰到…上海人周末把西湖游。”长三角地区的人们借助发达的交通，往返于不同城市，就像是生活在同一座城市一样，形成“同城效应”。据此完成下面小题。

32. “同城效应”主要依赖的交通运输方式是（ ）
①长江水运 ②海洋运输 ③高速铁路 ④高速公路
A. ①② B. ②④ C. ①③ D. ③④

33. 长江三角洲城市群是我国最大的城市群，其核心城市是（ ）
A. 杭州 B. 苏州 C. 南京 D. 上海

34. 上海市某科技人员经常到周边市县厂家做技术指导，这说明上海（ ）
①是重要科技教育中心 ②是重要的金融中心
③带动区域经济发展 ④制约周边地区技术发展
A. ①② B. ③④ C. ①③ D. ②④

35. 长江三角洲地区旅游业发达。下列旅游景点位于长江三角洲的是（ ）
A. 故宫 B. 布达拉宫 C. 西湖 D. 天山天池

粤港澳大湾区是建设中的世界超级城市群，由香港、澳门两个特别行政区和广东省的九个城市组成。读粤港澳大湾区城市分布图，完成下面小题。

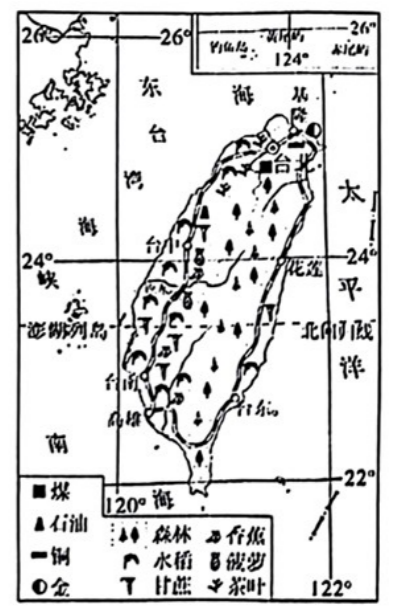


36. 下列关于香港的叙述正确的是（ ）

A. 位于珠江口西侧，紧邻珠海 B. 由香港岛、九龙、“新界”组成
C. 地理位置优越，农业发达 D. 外向型经济，劳动力廉价

37. 粤港澳大湾区发展的优势有（ ）
①香港金融信息等服务水平高；②珠江三角洲制造业发达；
③澳门是著名的自由贸易港；④大湾区铁路和海洋运输较发达
A. ①②③ B. ②③④ C. ①③④ D. ①②④

台湾自古以来就是祖国不可分割的一部分，读台湾岛物产和城市分布图，完成下面小题。



38. 下列关于台湾省位置描述正确的是（ ）
A. 北回归线穿过台湾岛中南部
B. 台湾省东临台湾海峡，西临太平洋
C. 赤道穿过台湾岛中部
D. 台湾省西隔台湾海峡与广东省相望

39. 下列关于台湾的美称正确的是（ ）
A. 购物天堂 B. 东方明珠
C. 海上米仓 D. 牡丹之乡

40. 下列农业类型中，在西北地区最为典型的是（ ）
A. 绿洲农业 B. 旱地农业 C. 水田农业 D. 河谷农业

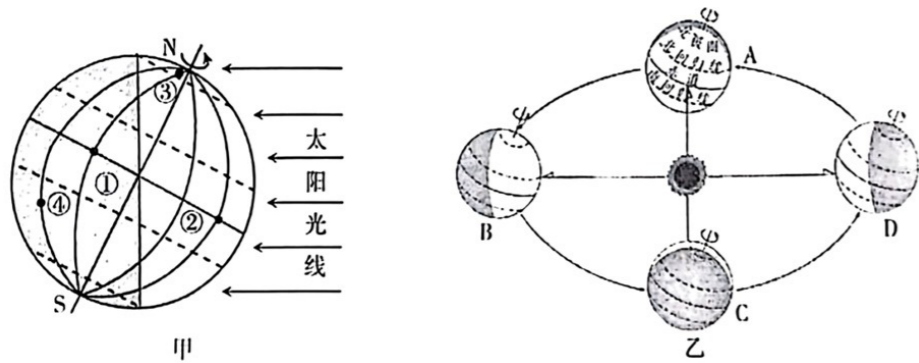
41. 我国青藏地区与西北地区自然环境相似之处是（ ）
A. 土壤肥沃 B. 沙漠广布 C. 光照充足 D. 河流众多

42. 中国经济发展迅速, 要想全方位走向世界, 谋求更大发展, 中国应选择 ()
- A. 走可持续发展的道路, 协调人地关系 B. 闭关锁国, 防止外国学到我们的技术
- C. 只与经济发达的国家进行合作、对话 D. 国内不同区域的经济差异要进一步拉大
43. 发展农业要因地制宜, 下列农作物与种植地区对应合理的是 ()
- A. 大豆—东北平原 B. 水稻—宁夏平原
- C. 甘蔗—湟水谷地 D. 花生—长江中下游平原
44. “南稻北麦, 南蔗北甜”。造成南北方地区农业差异的主要因素是 ()
- A. 地形 B. 气候 C. 土壤 D. 栽培技术
45. 工作人员在长白山拍到了野生东北虎的清晰影像。下列自然特征与东北虎生存环境相吻合的是 ()
- A. 气候温和, 四季如春 B. 气候干旱, 草场广布
- C. 地形平坦, 食物丰富 D. 气候冷湿, 森林茂密

二、综合题 (本大题共 5 小题, 除标注外, 每空 1 分, 共 55 分)

46. 结合图文材料, 完成下列问题。 (10 分)

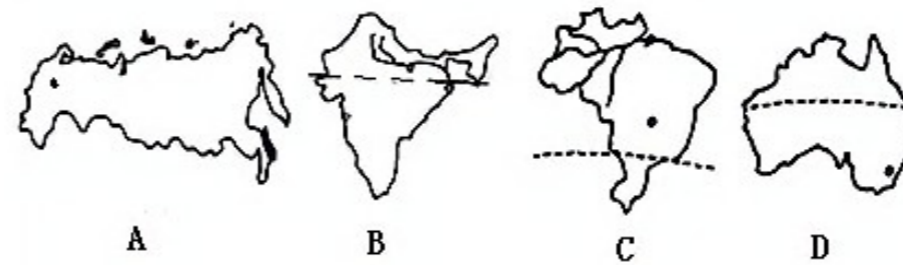
材料: 2024 年 4 月 25 日, 神舟十八号载人飞船发射成功, 4 月 26 日 05 时 04 分, 在轨执行任务的神舟十七号航天员乘组打开舱门, 迎接神舟十八号航天员乘组入驻“天宫”。



- (1) 日出而作, 日落而息。地球自转引起_____现象, ②③两点中, 有阳光直射现象的是点_____。
- (2) 春去秋来, 寒来暑往。地球公转引起_____现象, 在每年 _____ (日期) 前后, 地球公转到图乙中 A 处, 此时, 太阳直射在_____ (纬线) 上。

- (3) 人们将图甲所示的这一天的节气称为_____, 此时地球公转至图乙中_____ (填字母) 处。
- (4) 神舟十八号发射当天, 地球公转到图乙中_____至 _____之间 (填字母), 此时新疆各地的学生们明显感觉到昼夜长短情况是_____。

47. 读四国本土示意图, 据所学知识完成下列问题。 (10 分)



- (1) 图示 A、B、C、D 四国中, _____ (填字母) 是世界上面积最大的国家, 首都是_____。
- (2) C 国北部有世界上面积最大的平原, _____平原分布着世界上面积最大的_____ , 被称为“地球之肺”。
- (3) C、D 两国主要位于_____半球 (填南或北), C、D 两国人口主要分布在_____地区。
- (4) 图示 A、B、C、D 四国中, 人口居世界第二的是_____ (填字母), 以_____气候为主。
- (5) 图示 A、B、C、D 四国中, 独占一个大陆的是_____ (填字母), 是世界上放养绵羊数量和出口羊毛最多的国家, 被称为“_____”。

48. 读“中国地形图和相关材料, 完成下列问题。 (13 分)

材料一: 我们都有一个家, 名字叫中国... 家里盘着两条龙, 是长江与黄河, 还有那珠穆朗玛峰是最高山坡。

——歌曲《大中国》

材料二: 一条巨龙翻山越岭, 为藏家儿女带来安康, 这是一条神奇的天路, 带我们走进人间天堂: 从此山不再高, 路不再漫长, 幸福的歌儿传遍四方。

——歌曲《天路》

密
封
线
内
不
得
答
题

座位号

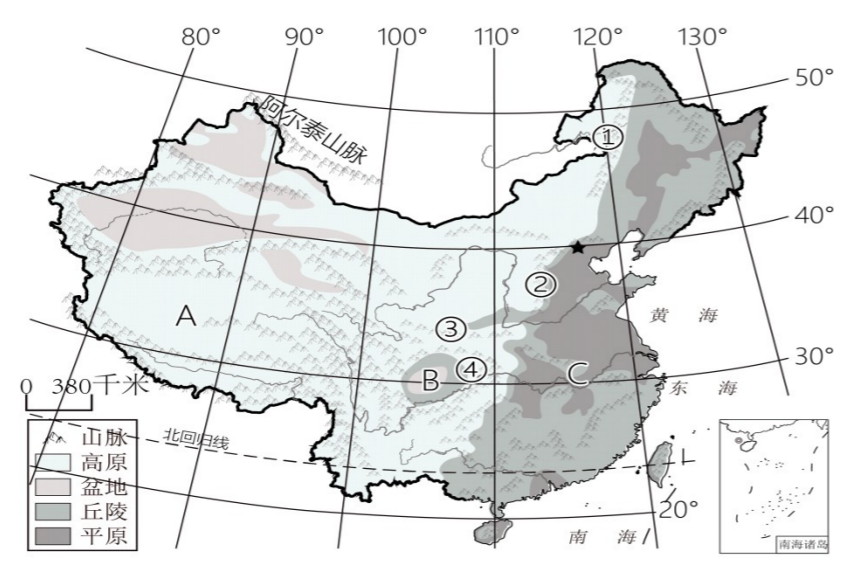
姓名

学校

班级

考场号

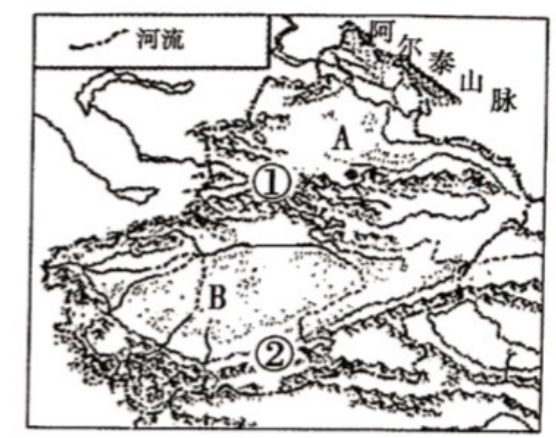
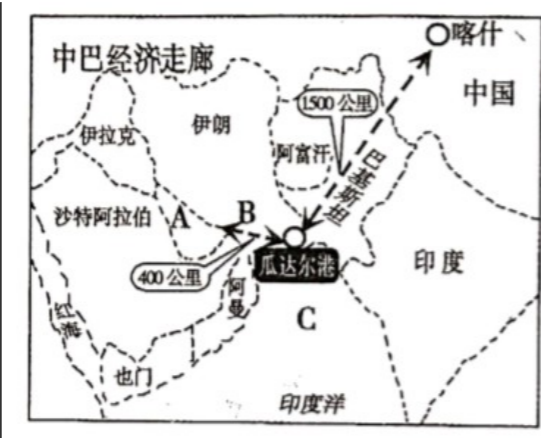
线
封
内
封
线
密



- 图中山脉①是_____，山脉④的东侧地形区是C_____，西侧是B_____。
- 山脉②是_____，它位于我国第二阶梯和第_____阶梯的分界线上，此界线以东土地利用类型以_____和_____为主。
- 材料一中的“两条龙”一长江、黄河均发源于地形区A_____；山脉③_____一淮河是我国重要的地理分界线。
- 秦岭淮河一线地理意义是：_____，_____，_____（至少写三条）
- 材料二中的“巨龙”指的是_____铁路。

49. 读图，回答下列问题。（10分）

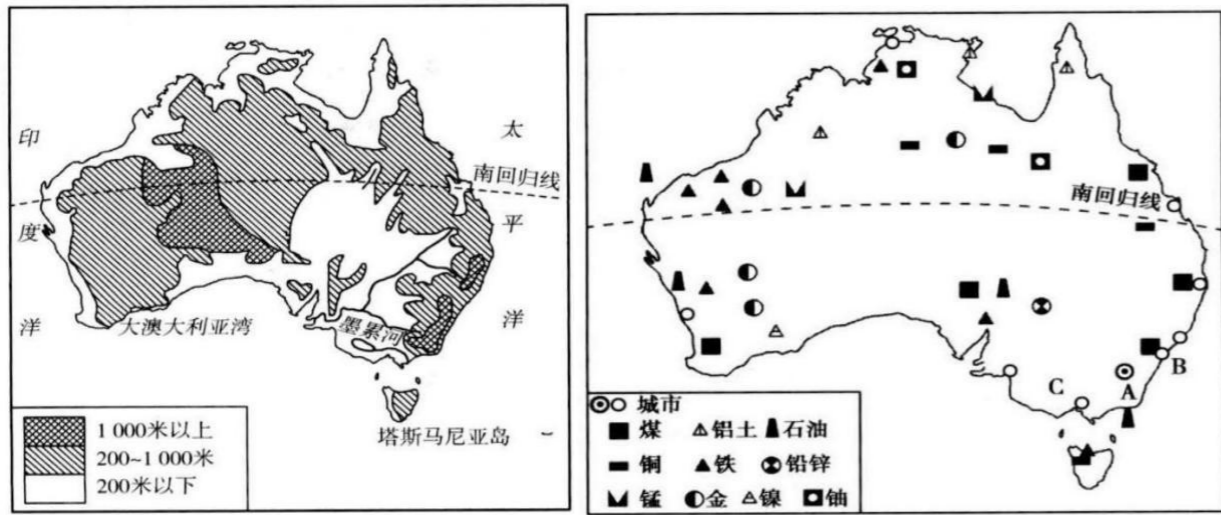
“一带一路”是指“丝绸之路经济带”和“21世纪海上丝绸之路”。旨在积极发展与沿线国家的经济合作伙伴关系，共同打造政治互信、经济融合、文化包容的利益共同体、命运共同体和责任共同体。“中巴经济走廊”是“一带一路”的重要组成部分，它北起我国新疆喀什，南至巴基斯坦瓜达尔港，是一条包括公路、铁路、油气和光缆通道在内的贸易走廊。



新疆地形分布图

- 左图中A是：_____湾，B是：_____海峡，C是：_____海。
- 中巴经济走廊建成后，经瓜达尔港运输到我国内地最重要的战略物资是_____资源。
- 中巴经济走廊东连我国新疆喀什，通过亚欧大陆桥在我国境内的铁路线：南疆线、兰新线、陇海线连接了_____洋和太平洋的陆上运输。
- 在右图中，位于中巴经济走廊上的新疆维吾尔自治区地形具有“_____”的特点，请写出新疆主要山脉、盆地的名称：山脉：①_____山脉；②_____山脉。盆地：A_____盆地，B_____盆地。

50. (12分) 读“澳大利亚地形示意图”“澳大利亚矿产和城市分布图”，回答下列问题。



- (1) 澳大利亚位于_____ (南/北) 半球, 是_____ 州面积最大的国家。它是世界上唯一的_____ 的国家。
- (2) 从澳大利亚地形图可看出, 澳大利亚地形分三部分, 西部是低矮的高原, 中部是平原, 东部的山地为_____ (填名称)。
- (3) 澳大利亚人口和城市主要分布在_____ 沿海地区, 最大的城市是_____, 首都是_____。
- (4) 从上图可以看出澳大利亚矿产资源丰富, 因而有“_____ 的国家”之称, 煤矿主要分布在_____ 部地区。
- (5) 澳大利亚通用的语言是_____, 从面积和人口数量看, 澳大利亚是个_____ 的国家。
- (6) 澳大利亚被称为“世界活化石博物馆”, 下列属于澳大利亚的古老动物是_____。
- A. 大象 B. 大熊猫 C. 北极熊 D. 袋鼠

密封线内不得答题