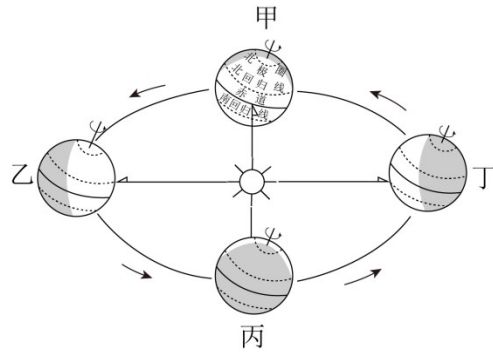


教师专业能力考核试题 (初中地理)

总分 100

一、选择题 (本题共计 20 小题, 每题 2 分, 共计 40 分)

春节是中国最隆重的传统节日,“春节——中国人庆祝传统新年的社会实践”被列入人类非物质文化遗产代表作名录。2025 年春节是 1 月 29 日。下图示意地球在公转轨道不同位置。据此完成 1-2 小题。



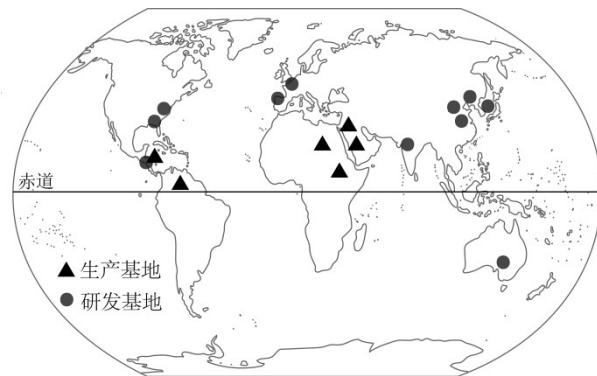
1. 2025 年春节假期, 地球在公转轨道上的运行轨迹是 ()

- A. 甲→乙 B. 乙→丙 C. 丙→丁 D. 丁→甲

2. 我国北方大部分地区庆祝传统新年的社会实践包括 ()

- A. 外出踏青 B. 植树种草 C. 家人团聚 D. 海边游泳

为了利用技术、开拓市场, 我国某企业积极设立海外研发基地和生产基地。下图示意该企业研发基地和生产基地分布。据此完成 3-4 小题。



3. 该企业海外研发基地 ()

- A. 都位于北温带 B. 都位于发达国家
C. 大部分位于北半球 D. 亚洲、南美洲数量多

4. 该企业在非洲等地设立生产基地的意义有 ()

- ① 减少劳动力成本; ② 开拓国际市场; ③ 提高产品科技含量; ④ 实现合作共赢

- A. ① ② ③ B. ① ② ④ C. ① ③ ④ D. ② ③ ④

读波河流域典型气候图 (图 1) 和波河流域示意图 (图 2), 完成下面 5-6 题。

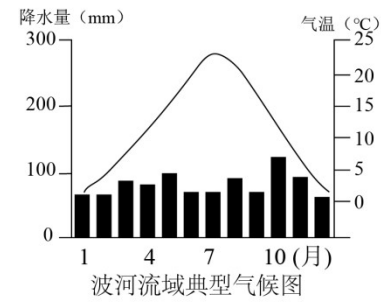
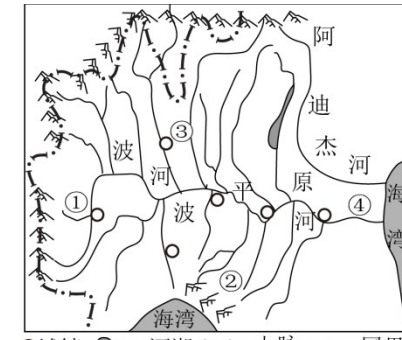


图 1



波河流域示意图

图 2

5. 根据波河流域典型气候图推断, 干流出现最大洪灾的月份是 ()

- A. 1 月 B. 4 月 C. 7 月 D. 10 月

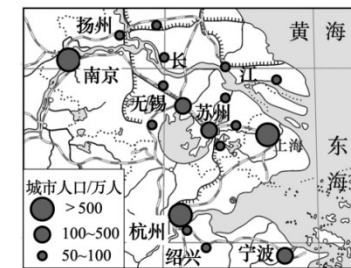
6. 波河干流流向是 ()

- A. 自北向南 B. 自南向北 C. 自西向东 D. 自东向西

7. 三江源地区是我国众多大江大河的发源地, 因此被称作“ () ”

- A. 中华水塔 B. 塞上江南 C. 东方明珠 D. 鱼米之乡

同城效应是指对在相邻地区或更大范围内发生重要的作用和联动效应。意思与“同城化”相近, 是城市现代化发展的新趋势, 也是经济全球化发展局势下城市间互相交流合作发展的必然产物。读图, 完成 8-9 小题。



长江三角洲地区的城市分布图



上海与苏州的“同城效应”示意图

京时间零点开抢。甲准备熬夜抢购，丁却不需要熬夜抢购，形成这种差异的主要原因是_____（地球自转/地球公转）。（每空 1 分）

(2) 参与网购的四人中_____所在的城市位于热带。（每空 1 分）

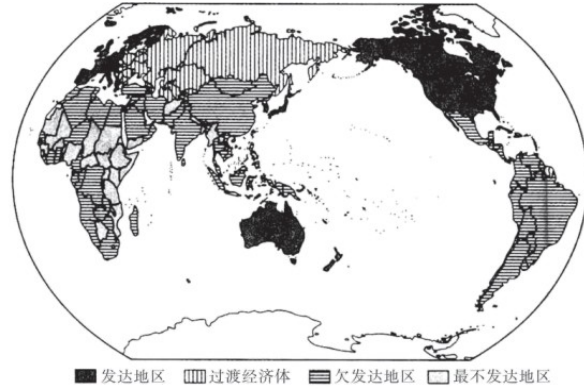
“618”活动

(3) “618”期间，丙购买了一件商品，于 6 月 21 日收到快递，在这四天里，太阳直射点向_____（南/北）移动。（每空 1 分）

“双 12”活动

(4) 表为其中两人“双 12”购物清单，哪一个购物清单是丁购买的当季急需用品，请说明理由。（3 分）

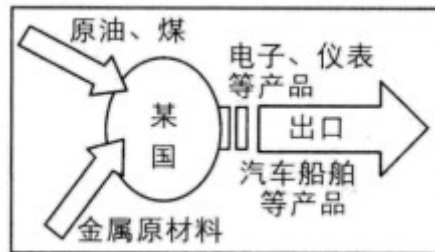
25. 读世界国家与地区发达程度分布示意图，完成下列问题。（本题共 7 分）



(1) 划分发达国家与发展中国家的主要是根据_____的高低。我国目前属于_____国家。

(2) 从南、北半球来看，发达国家主要分布在_____半球。全部为发展中国家的大洲是_____和_____。


(3) 下图所示多属于_____国家的经济模式。在国家交往中这类国家一般还会输出_____（填字母序号）。



① 农产品；② 资金；③ 技术；④ 劳动力
A. ①②；B. ②③；C. ③④；D. ①④

26. 阅读图文资料，回答下列问题。（本题共 7 分，每空 1 分）

作为中国最大的棉花生产基地，新疆的棉花不仅柔软无暇，更是热销各地。新疆棉花品质优良，产量占国内产量的 87%，约占全球产量 20%，以机械化种植、采摘为主，人均管理超过 100 亩。下图为新疆棉花分布示意图。



- 新疆地区河流的汛期出现在_____季，主要原因是_____。
- 山脉 A 北侧的地形区是_____。
- 新疆的棉花主要分布在_____，影响该区域棉花分布的主导因素是_____。
- 根据图文资料分析新疆种植棉花的有利社会经济条件是_____（一条即可）。
- 有人建议新疆应大幅增加棉花种植面积，但也有人持反对意见，请说明大面积种植棉花可能产生的问题_____。（一条即可）

27. 阅读图文材料，回答问题。（本题共 15 分）

材料：2018 年 4 月 24 日至 26 日，习近平总书记来到长江沿岸湖北、湖南两省，实地考察、调研长江生态环境修复工作，并主持召开深入推动长江经济带发展座谈会，为长江经济带发展把脉定向。习近平总书记强调，长江经济带涉及 11 个省份，要材立一盘棋思想，全面协调协作，让母亲河永葆生机活力。

