

## 1.1 负数 (1)

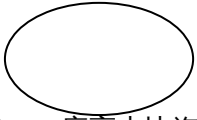
1. 读出下面各数，再把这些数填入相应的圈内。

-8 读作：\_\_\_\_；+12读作：\_\_\_\_；

5.37读作：\_\_\_\_。- 读作：\_\_\_\_；

正数

负数



2. 一座高山比海平面高234米，记作（ ）；一个盆地比海平面低64米，记作（ ）；海平面记作（ ）。

3. 下面各组数中不是互为相反意义的量的是（ ）

A、向东走5米和向西走2米

B、收入100元和支出20元

C、上升7米和下降5米

D、长大1岁和减少2千克

4. 请你比一比。

0 ( ) 6    0 ( ) -3    -7 ( ) 5.5

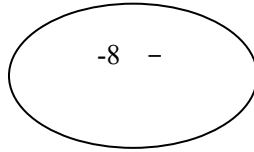
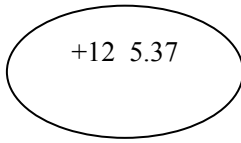
$\frac{3}{8}$  ( ) -    -8 ( ) 8

答案:

1. 负八; 正二; 五点三七, 负十分之七;

正数

负数



2. +234 -64 0

3. D

4. < > < > <