







第五单元达标测试卷





一、我会填。(每空1分,共33分)





1.人民币的单位有()、()、()。

2.一张  可以换()张  ,还可以换()张  。

3.一张  可以换()张  和()张  。

4.写出下面的钱数。

 
 
 ()元()角

  
  
 ()元()角

 
  
 ()角()分

  
  
 ()元()角

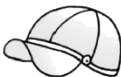
5. 3元=()角 1元6角=()角

29角=()元()角 70分=()角

1元=()角=()分 8角=()分

6. 在()里填上合适的单位“元”“角”或“分”。


 ()5()


 13()


 5()

7. 在○里填上“>”“<”或“=”。

4元○50角

38角○60分

20角○2元

6元4角○4元6角

16角○16分

54角○5元4角

二、连一连。(5分)



38元8角



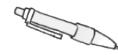
2.00元



1.50元



59.90元



8角

59元9角

0.80元

38.80元

2元

1元5角

三、算一算。(12分)

4角 + 5角 = ()角 4元3角 + 5元 = ()元()角

7元 + 12元 = ()元 8角 + 7角 = ()元()角

9角 - 3角 = ()角 5角 + 2元4角 = ()元()角

1元 - 7角 = ()角 6元8角 - 1元4角 = ()元()角

四、圈出每件物品要付出的钱。(每题2分，共4分)

1.



15元



2.




11元7角



五、在合适的答案下面画“√”。(4分)



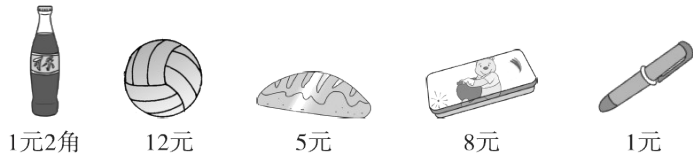
买这个布娃娃我付了4张 , 找回的钱比10元少。



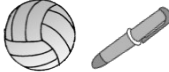





布娃娃的价钱是多少？


53 元	63 元	73 元

六、填一填。(12分)



买的物品			
应付的钱			
付的钱			
应找的钱			

七、我会圈。(6分)



八、用16元钱正好能买下面哪两种物品？(4分)



九、购物。(每题 5 分, 共 20 分)



14元



5元8角



12元9角



6元



8元

1.小汽车比花瓶贵多少钱?

2.东东用 20 元正好买了上面的两种物品, 他买了什么?

3.买一个足球和一袋积木共多少钱?

4.欢欢用 20 元买一辆小汽车要找回多少钱?

答案

一、1. 元 角 分 2. 10 5 3. 1 5

4. 15 6 26 7 6 8 1 8

5. 30 16 2 9 7 10 100 80

6. 元 角 元 角

7. < > = > > =

二、38元8角→38.80元 2.00元→2元

1.50元→1元5角 59.90元→59元9角

8角→0.80元

三、4角+5角=9角 4元3角+5元=9元3角

7元+12元=19元 8角+7角=1元5角

9角-3角=6角

5角+2元4角=2元9角

1元-7角=3角

6元8角-1元4角=5元4角

四、1. 圈10元和5元

2. 圈10元, 1元, 5角硬币, 1角和1角硬币

五、

53元	63元	73元
		√

[点拨]解决这个问题先要弄清楚4张20元一共是多少钱,找回的钱比10元少,说明花的钱比 $80元 - 10元 = 70元$ 多,所以这

个布娃娃的价钱是 73 元。

六、文具盒、面包：应付的钱：13 元 应找的钱：7 元

2 瓶可乐：应付的钱：2 元 4 角 应找的钱：1 角

球、笔：应付的钱：13 元 应找的钱：2 元

[点拨]要看懂表格的意思，应该竖着看，付的钱 - 应付的钱 =

应找的钱。文具盒和面包应付的钱：8 元 + 5 元 = 13 元，应找的

钱：20 元 - 13 元 = 7 元；2 瓶可乐应付的钱：1 元 2 角 + 1 元 2

角 = 2 元 4 角，应找的钱：2 元 5 角 - 2 元 4 角 = 1 角；球和笔应

付的钱：12 元 + 1 元 = 13 元，应找的钱：15 元 - 13 元 = 2 元。

七、圈 3 张 5 元纸币，1 张 1 元纸币，3 枚 1 角硬币，1 枚 5 角硬币

圈 2 张 1 元纸币，1 枚 1 元硬币，1 枚 5 角硬币

八、7 元 + 9 元 = 16 元或 12 元 + 4 元 = 16 元

企鹅和球，或小汽车和帽子。

九、1. 12 元 9 角 - 8 元 = 4 元 9 角

2. 14 元 + 6 元 = 20 元

买了一个足球和一支笔。

$$3. 14 \text{ 元} + 5 \text{ 元} 8 \text{ 角} = 19 \text{ 元} 8 \text{ 角}$$

$$4. 20 \text{ 元} - 12 \text{ 元} 9 \text{ 角} = 7 \text{ 元} 1 \text{ 角}$$