



第三单元达标测试卷

一、选一选。(每题3分，共9分)


1.在动物下面画“√”。















2.在蔬菜下面画“√”。



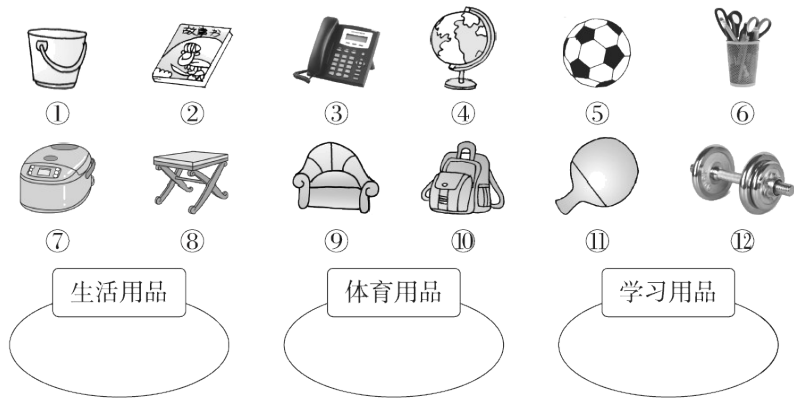
3.在水果下面画“√”。



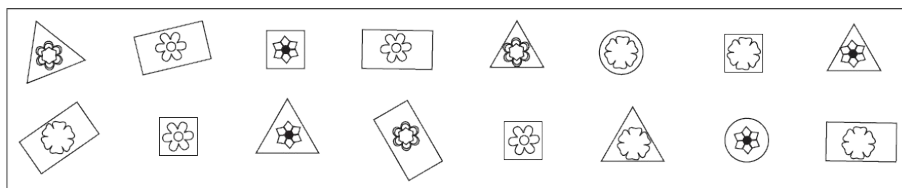
二、圈一圈，把每组中不同类的圈起来。(每题2分，共6分)

1.				
2.				
3.				

三、分一分。(12分)



四、按要求分类。(每题 8 分，共 16 分)



1. 按花的样子分一分，在下面涂一涂，填一填。

				() 朵 () 朵 () 朵 () 朵

2. 按卡(kǎ)片的形状分一分，在下面涂一涂，填一填。

				() 张 () 张 () 张 () 张


五、分类。(每题 8 分, 共 24 分)



1. 按不同的活动分类。

	踢毽子	跳绳	打篮球	打乒乓球
人数				

2. 涂一涂。



1. 按形状分一分，填写下表。


	□	□	△	○
数量				

2. 如果分成三组，可以怎样分？把分组的结果表示出来。






数量			

3. 根据分组的结果，提一个问题并解答。

七、一(2)班同学最喜欢吃的水果的情况如下图。(1题10分，2题9分，共19分)



1. 根据上图填写下表。

					
人数					

2.根据上面的统计结果回答问题。

(1)喜欢吃 () 的人数最多，喜欢吃 () 的人数最少。

(2)喜欢吃苹果的比喜欢吃香蕉的多 () 人。

(3)再提一个数学问题并解答。

答案

一、1.(√) () (√) () (√) (√)

2.(√) (√) () () (√)

3.(√) () (√) (√) ()

二、1.圈第3个 2.圈第4个 3.圈第3个

三、生活用品：①③⑦⑧⑨

体育用品：⑤⑪⑫

学习用品：②④⑥⑩

四、略

五、1.

	踢毽子	跳绳	打篮球	打乒乓球
人数	3	4	5	4

2. 略 [点拨]涂色时要从下往上涂。

3.

	男生	女生
人数	7	9

[点拨]分类标准不唯一。

六、1. 3 3 3 3

2.

	白色	灰色	黑色
数量	4	4	4

3.白色图形与灰色图形一共有多少个？

$$4 + 4 = 8(\text{个})(\text{答案不唯一})$$

七、1. 6 7 5 4 8

2. (1)桃子 葡萄 (2)1

(3)喜欢吃葡萄的比喜欢吃苹果的少几人？

$$7 - 4 = 3(\text{人}) \text{ (答案不唯一)}$$