
深圳市名校期末测试卷

一、填一填。(8题2分,其余每空1分,共20分)

1. $54 \div 6 = (\quad)$, 表示54里面有(\quad)个6, 也表示把54平均分成(\quad)份, 每份是(\quad)。

2. 一个四位数, 个位上是6, 最高位上是最大的一位数, 其余各位上都是0, 这个数是(\quad), 读作(\quad)。

3. 2014年仁川亚运会中, 中国代表团总人数是1328人, 其中运动员有897人, 约(\quad)人; 工作人员有401人, 约(\quad)人。

4. “神舟八号”飞船发射升空是(\quad)现象, 螺旋桨工作是(\quad)现象。(填“平移”或“旋转”)

5. 一头小牛约重40(\quad)。

一支圆珠笔重约10(\quad)。

欢欢体重28(\quad), 身高128(\quad)。

6. 63里面有(\quad)个7, 55里面最多有(\quad)个8。

7. “我爱祖国我爱祖国我爱……”按这样排下去, 第21个字是(\quad)。

), 第 34 个字是()。

8. 排排队。

2 千克 1600 克 800 克 5 千克 4999 克

() < () < () < () < ()

二、辨一辨。(对的画“√”，错的画“×”)(每题 2 分，共 10 分)

1. 在有余数的除法里，余数一定要比商小。 ()

2. 一个四位数的最高位是万位。 ()

3. $66 - 27 - 18$ 与 $66 - (27 + 18)$ 的运算顺序不相同，但结果相同。

()

4. 2 千克白糖和 2 千克西瓜一样重。 ()

5. 汽车方向盘的转动是旋转现象。 ()

三、选一选。(把正确答案的序号填在括号里)(每题 2 分，共 10 分)

1. 计算 $36 \div 4$ 所用的口诀是()。

① 六六三十六

② 四九三十六

③ 四四十六

2. 下列数中，比 6000 小，比 3500 大的是()。

① 5098

② 6001

③ 3050

3. 一个盒子的质量是 200 克，在盒子里放入 800 克的点心后，盒子

和点心一共重()。

①600 克

②10000 克

③1 千克

4. 下列各数中一个零都不读的是()。

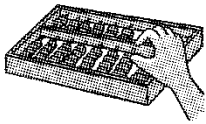
①4500

②4005

③4050

5. 下列运动中，不是旋转的是()。


①



②



③



四、计算挑战。(共 29 分)

1. 看谁算得又对又快。(每题 1 分，共 12 分)

$9 \times 9 =$

$600 + 3000 =$

$64 \div 8 =$

$2000 - 100 =$

$60 - 24 =$

$72 \div 9 =$

$720 + 80 =$

$40 \div 5 =$

$6 \div 6 =$

$18 \div 2 =$

$1700 + 300 =$

$9000 + 1000 =$

2. 列竖式计算。(每题 2 分，共 8 分)

$72 \div 8 =$

$60 \div 7 =$

$39 \div 6 =$

$43 \div 9 =$


3. 计算下面各题。(每题 3 分, 共 9 分)

$49 \div (26 - 19)$

$67 - 7 \times 9$

$18 + 36 \div 6$

五、下面的图案分别是哪张纸上对折后剪出来的? 连一连。(4 分)



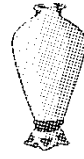
六、走进生活, 解决问题。(2 题 9 分, 其余每题 6 分, 共 27 分)

1. 同学们进行古诗文诵读表演。有 6 个小组参加, 每个小组有 8 名同学, 其中有两个小组的同学表演完了, 还有多少名同学没有表演?

2. 有 36 枝花。



限插5枝



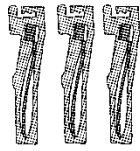
限插8枝

(1) 全部插进小花瓶，至少要多少个小花瓶？

(2) 全部插进大花瓶，至少要多少个大花瓶？

(3) 如果大花瓶和小花瓶共同搭配，要多少个花瓶？

3. 买牙刷。



①

21元



②

16元



③

9元

(1) 你认为买哪一种牙刷最划算？

(2) 妈妈想买6把牙刷，你建议买哪种？要花多少元？

4. 购物。

(1)买一台洗衣机和一台冰箱一共要多少元？



2800元



5000元



528元



3098元

(2)爸爸想买一台电风扇和一台电视机，带3500元够吗？

答案

一、1.9 9 6 9 2.9006 九千零六

3.900 400 4.平移 旋转

5.千克 克 千克 厘米

6.9 6 7.我 爱

8.800克 1600克 2千克 4999克 5千克

二、1.× 2.× 3.√ 4.√ 5.√

三、1.② 2.① 3.③ 4.① 5.①

四、1.81 3600 8 1900 36 8 800 8 1 9 2000 10000

2. $72 \div 8 = 9$

$$\begin{array}{r} 9 \\ 8 \overline{)72} \\ \underline{72} \\ 0 \end{array}$$

$39 \div 6 = 6 \cdots 3$

$$\begin{array}{r} 6 \\ 6 \overline{)39} \\ \underline{36} \\ 3 \end{array}$$

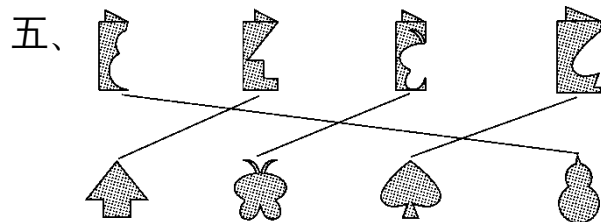
$60 \div 7 = 8 \cdots 4$

$$\begin{array}{r} 8 \\ 7 \overline{)60} \\ \underline{56} \\ 4 \end{array}$$

$43 \div 9 = 4 \cdots 7$

$$\begin{array}{r} 4 \\ 9 \overline{)43} \\ \underline{36} \\ 7 \end{array}$$

3.



六、1. $(6 - 2) \times 8 = 32$ (名)

口答：还有 32 名同学没有表演。

[点拨]还可以用 $6 \times 8 - 2 \times 8 = 32$ (名)，上面的方法要灵活一些，

$6 \times 8 - 2 \times 8$ 的方法要直观些。

2 . (1) $36 \div 5 = 7$ (个).....1(枝)

$7 + 1 = 8$ (个)

口答：至少要 8 个小花瓶。

(2) $36 \div 8 = 4$ (个).....4(枝)

$4 + 1 = 5$ (个)

口答：至少要 5 个大花瓶。

(3) $4 \times 5 + 2 \times 8 = 36$ (枝)

口答：大瓶要 2 个，小瓶要 4 个。(答案不唯一)

3 . (1) $21 \div 3 = 7$ (元) $16 \div 2 = 8$ (元)

$7 < 8 < 9$ 口答：买①最划算。

(2) $6 \times 7 = 42$ (元)

口答：建议买①牙刷，要花42元。

4 . (1) $2800 + 5000 = 7800$ (元)

口答：买一台洗衣机和一台冰箱一共要7800元。

(2) $528 > 500$ $3098 > 3000$

$528 + 3098 > 3500$

口答：带3500元不够。