

第一单元检测

一、选择题。(把正确答案的序号填在括号里)

下表是二年级学生喜欢的图书人数情况。

种类	连环画	故事书	科技书	其他
人数	18	12	8	4

1.喜欢()的人数最多。

A.连环画 B.故事书 C.科技书 D.其他

2.喜欢()的人数最少。

A.连环画 B.故事书 C.科技书 D.其他

3.喜欢故事书的人数比喜欢连环画的少()人。

A.10 B.6 C.4 D.8

4.喜欢连环画的和喜欢科技书的一共有()人。

A.30 B.20 C.26 D.12

二、填表。

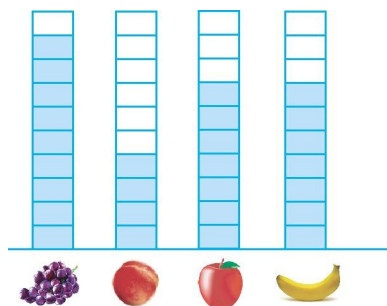
1.下表是小丽统计她所在班最喜欢的动画片的人数情况。

《喜羊羊与灰太狼》	《猫和老鼠》	《西游记》	《七龙珠》
正正正丅	正丅	正	丅

把喜欢各种动画片的人数填在下表中。

片名	《喜羊羊与灰太狼》	《猫和老鼠》	《西游记》	《七龙珠》
人数				

2.李明调查了全班学生最喜欢吃的水果情况。




每个  表示1人。

根据上图画“正”字整理。

水果	葡萄	桃子	苹果	香蕉
人数				

三、数气球。



1.用合适的方法统计左面的各种气球。

红色 黄色 蓝色 绿色

2.黄色的气球比红色的少()个,绿色的气球比红色的少()个。

3.红色的气球和蓝色的气球一共有()个。

四、小军的储蓄罐。



1.用画“正”字的方法统计。

种类	1元	5角	1角
枚数			

2.算一算一共有多少钱。

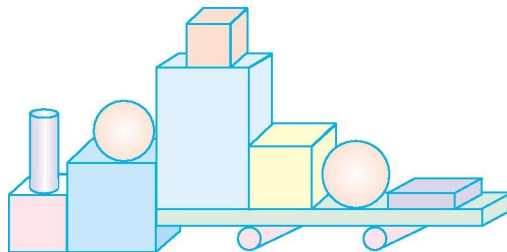
3.小军想买1本10元钱的,够吗?如果不够,还差多少钱?

五、二年级同学的生日在4个季节的人数统计如下。



春	正正正T
夏	正正
秋	正正正正T
冬	正正正





- 1.从上表中可以看出,共调查了()名同学。
- 2.()季过生日的人数最多,()季过生日的人数最少。
- 3.春季和冬季过生日的共有()人。
- 4.你还能提出什么数学问题?

六、数图形并回答问题。



1.完成下面的统计表。

			
()个	()个	()个	()个

2.  比  多()个,  比  少()个。

3. 你还能提出什么数学问题?

七、统计全班一星期阅读课外读物的册数。

少儿文艺	连环画	故事大王
正	✓✓✓	△△
正	✓✓✓	△△△
正	✓✓✓	△△△
	✓✓	△△

1. 把上面统计的结果填入下表。

类别	少儿文艺	连环画	故事大王
册数			

2. 阅读连环画的册数比故事大王多多少册?

3. 同学们最喜欢看的课外读物是什么?

4. 全班一星期共读了多少册课外读物?

参考答案

一、1.A 2.D 3.B 4.C

二、1.17 7 5 3

2.正F 正T 正T 正T

三、1.提示可以画“□”，也可以画“○”，画图略。

2.4 5

3.13

四、1.1元:正T 5角:F 1角:正T

2.9元2角

3.不够 $10\text{元}-9\text{元}2\text{角}=8\text{角}$

五、1.66

2.秋 夏

3.33

4.答案不唯一,如:在秋季出生的和在冬季出生的一共有多少人? $23+16=39$ (人)

六、1.4 3 3 2

2.2 1

3.答案不唯一,如:一共有多少个图形?12个

七、1.16 17 12

2. $17-12=5$ (册)

3.连环画

4. $16+17+12=45$ (册)