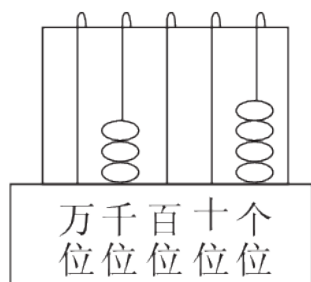


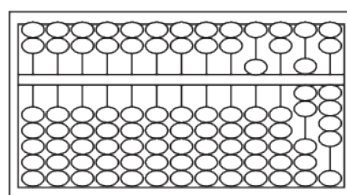
## 第七单元过关检测卷

一、我会填。(8题3分,9题4分,其余每空1分,共26分)

1. 一千里面有( )个一百,10个一千是( )。
2. 数位顺序表中,从右边起第三位是( )位,第四位是( )位,万位是第( )位。
3. 算盘上一个上珠表示( ),一个下珠表示( ),以空档表示( ),以( )表示档位。
4. 一个四位数,千位是3,个位是9,其余各位都是0,这个数是( ),读作( )。
5. 实验小学有4084人,约( )人,二年级有596人,约( )人。
6. 6085由( )个千,( )个百,( )个十,( )个一组成。
7. 看图写数。



(        )



(        )

8. 在( )里填上“>”或“<”。

$528 \text{ ( ) } 825$

$9080 \text{ ( ) } 9008$

$987 \text{ ( ) } 978$

$999 \text{ ( ) } 1006$

$7899 \text{ ( ) } 8001$

$8796$

$10000$

---

9. 按顺序排列下列各数。

(1) 754 457 1009 784 2080

( ) < ( ) < ( ) < ( ) < ( )

(2) 3029 3092 3920 9300 3900

( ) > ( ) > ( ) > ( ) > ( )

二、判断。(对的画“√”，错的画“×”)(每题 1 分，共 5 分)

1. 三位数一定比四位数小。 ( )

2. 近似数一定比准确数大。 ( )

3. 8888 中每个 8 表示的意义一样。 ( )

4. 读数和写数都从高位起。 ( )

5. 用算盘记数时一个珠子表示 1 个一。 ( )

三、我会选。(每题 2 分，共 10 分)

1. 由 6 个千，5 个十和 4 个一组成的数是( )。

A . 6504    B . 654    C . 6054

2. 5470 中的 5 表示( )。

A . 5 个百    B . 5 个千    C . 5 个十

3. 下面的数中只读一个零的是( )。

A . 6008    B . 6800    C . 4680

4. 下列各数最接近 6000 的是( )。

A . 6008    B . 6900    C . 5999

5. 和 3999 相邻的数是( )。

A . 4000 和 4001

---

B . 4000 和 3998

C . 4000 和 3989

四、我会算。(8分)

$300 + 600 = \quad 800 - 400 =$

$1600 - 700 = \quad 2700 - 900 =$

$250 + 80 = \quad 980 - 230 =$

$8000 - 5000 = \quad 4000 + 6000 =$

五、我会照样子写一写。(8分)

$7850 = 7000 + 800 + 50$

$4095 = ( \quad ) + ( \quad ) + ( \quad )$

$7001 = ( \quad ) + ( \quad )$

$5060 = ( \quad ) + ( \quad )$

$( \quad ) = 2000 + 500 + 40 + 7$

六、里最大能填几?(6分)

$6\boxed{\phantom{0}}4 < 6516 \quad 7000 > 699\boxed{\phantom{0}}$

$5897 > 589\boxed{\phantom{0}} \quad 752 < 7583\boxed{\phantom{0}}$

$\boxed{\phantom{0}}300 < 4300 \quad 4048 > 407\boxed{\phantom{0}}$

七、按规律填数。(每题2分,共8分)

1 . 6068、6078、6088、( )、( )。

2 . 7800、7700、( )、7500、( )。

3 . 4435、4440、4445、( )、( )。

4 . 10000、9999、9998、( )、( )。

八、填一填。(1题1分,其余每题2分,共5分)




梨树有 793 棵。桃树比苹果树多得多,苹果树比梨树少一些。

- 梨树大约有( )棵。
- 苹果树和桃树各有多少棵?把它们名称写在表格里。

783 棵	804 棵	345 棵	1209 棵

- 苹果树比桃树大约少多少棵?

九、连一连。(3分)



十、解决问题。(2题5分,其余每题8分,共21分)

- 下面是某家电城六月份销售的家电的台数。

- (1)每种家电各接近几千台?

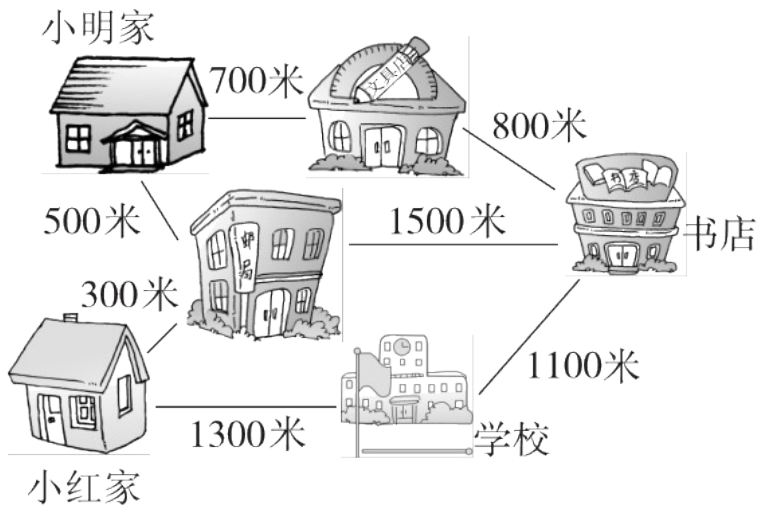
家电名称	电视机	冰箱	空调
台数	1089	2878	3809

(2)销售量最多的家电比销售量最少的家电大约多销售多少台？

2. 某工人师傅要在两个月内生产 1800 个零件。实际工人师傅每个月

能生产 988 个，估一估他能按时完成任务吗？

3.



(1)从小红家到小明家最近的路有多远？

(2)从小红家到书店最近的路有多远？

---

## 答案

一、1. 10100002 . 百 千 五 3 . 5 1 0 横梁

4 . 3009 三千零九 5 . 4000 600 6 . 6 0 8 5

7 . 3004 50748 . < > > < < <

9 . (1)457 < 754 < 784 < 1009 < 2080

(2)9300 > 3920 > 3900 > 3092 > 3029

二、1 .  $\checkmark$  2 .  $\times$  3 .  $\times$  4 .  $\checkmark$  5 .  $\times$

三、1 . C 2 . B 3 . A 4 . C 5 . B

四、900 400 900 1800 330 750 3000 10000

五、4095 = 4000 + 90 + 5

7001 = 7000 + 1

5060 = 5000 + 60

2547 = 2000 + 500 + 40 + 7

六、4 9 6 8 3 4

七、1 . 6098 6108

2 . 7600 7400

3 . 4450 4455

4 . 9997 9996

八、1 . 800

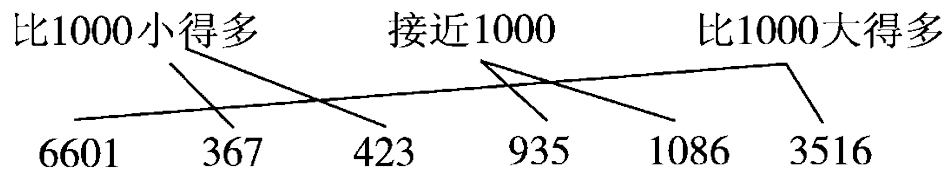
2 .

783 棵	804 棵	345 棵	1209 棵
苹果树			桃树

3 .  $1200 - 800 = 400$ (棵)

答：苹果树比桃树大约少 400 棵。

九、



十、1 . (1)电视机：1000 台    冰箱：3000 台    空调：4000 台

(2) $4000 - 1000 = 3000$ (台)

答：空调比电视机大约多销售 3000 台。

2 .  $988 \approx 1000$      $1000 + 1000 = 2000$ (个)     $2000 > 1800$

答：他能按时完成任务。

3 . (1) $300 + 500 = 800$ (米)

答：从小红家到小明家最近的路有 800 米远。

(2) $300 + 1500 = 1800$ (米)

答：从小红家到书店最近的路有 1800 米远。