

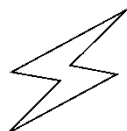
## 第三单元达标测试卷

一、画一画。(1题10分,2题16分,共26分)


1.下面的图形是轴对称图形的画“√”。



( )



( )



( )




( )




( )

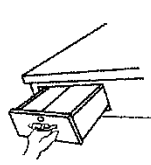
2.下列现象中是平移的画“△”，是旋转的画“○”。



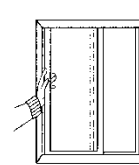
( )



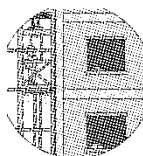
( )



( )



( )



( )



( )



( )




( )

二、请在( )里写出分针从12旋转到下面各个位置所经过的时间。


(8分)



( )分



( )分



( )分



( )分

三、判断。(每题2分,共10分)

1.工 中 喜 小 日 左边这些汉字都是轴对称图形。( )

2.直线行进中的滑雪板的运动属于平移现象。 ( )

3.数字“0”是轴对称图形，数字“6”不是轴对称图形。 ( )

4.摩天轮的转动是旋转现象。 ( )

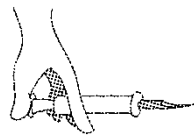
5.物体经过平移或旋转后，物体的大小没有发生变化。 ( )

四、选一选。(每题2分，共10分)


1.下面属于平移现象的是( )。



①



②



③


2.下列是我国几家银行的标志，其中不是轴对称图形的是( )。



①



②

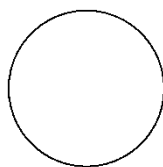


③

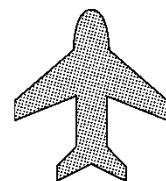
3.下列图形中，( )不是轴对称图形。



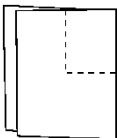
①



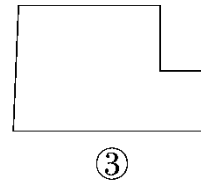
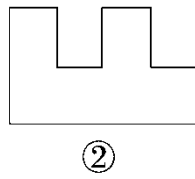
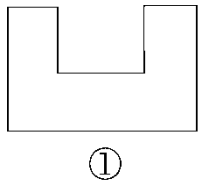
②






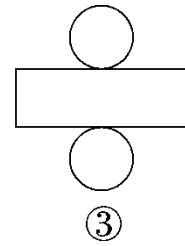
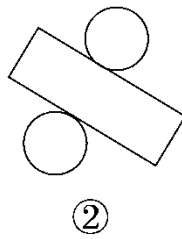
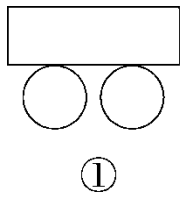
③

4.  如图，将一张长方形纸对折后，沿虚线剪掉，打开后的图

案是( )。



5.下面( )不是由 、、 通过平移得到的。

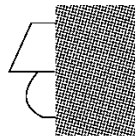


五、下面的汉字、字母、图案都是轴对称图形，你能猜猜整个的图


形是什么吗？写在括号里。(10分)




( )




( )



( )





( )



( )

六、连一连。(每题8分，共24分)


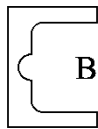

1.下面哪些图形可以通过平移相互重合？连一连。



2.(变式题)下面的图案各是从哪张纸上剪下来的?请连一连。




3.(变式题)下面的图形分别是从小张纸上剪下来的?请连一连。

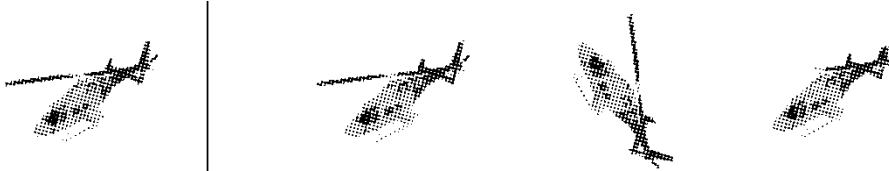


七、圈一圈。(每题4分,共12分)

1.下面哪棵树是通过左边的图形平移得到的?

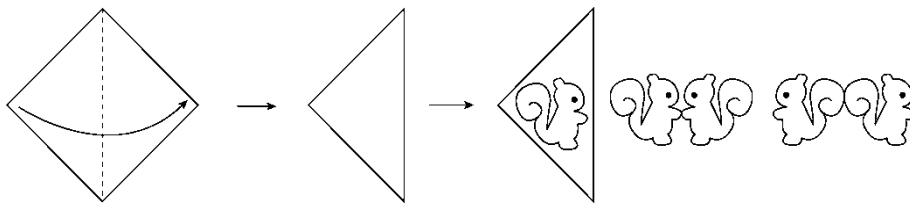


2.下面哪架飞机可以通过左边的图形旋转得到？



3.按照下面的方式折、画、剪(并描出眼睛), 得到的是哪幅图? 请圈

一圈。



# 答案

一、1.(√)( ) (√)(√)( )

2. (○)(△)(△)(△)(△)(○)(△)(○)

二、20 25 55 40


三、1.× 2.√ 3.√ 4.√ 5.√

四、1.② 2.① 3.① 4.① 5.②

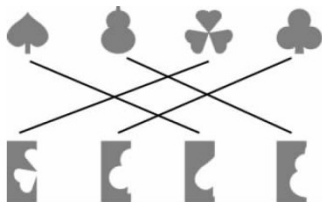
五、8    ☹    中    A    ☆

易错点拨：根据轴对称图形的性质画出完整图形再判断。

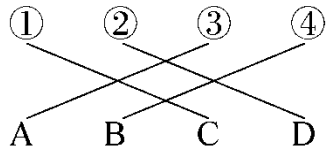
六、1.



2.



3.



六、1.圈第3个图形 2.圈第2个图形 3.圈第1个图形