

2016-2017 学年下学期重点小学一年级期末检测卷

班级： 姓名： 满分：100分 考试时间：90分钟

题序	第一题	第二题	第三题	第四题	第五题	第六题	总分
得分							

一、计算下面各题。(15分)

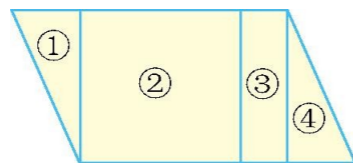
$11-2=$ $13-5=$ $24-8=$ $41-6=$ $4+55=$
 $30+70=$ $90-60=$ $74-70=$ $53-3=$ $25+5-8=$
 $9+3-6=$ $18-3-9=$ $45-(12+8)=$ $60-(12-7)=$ $40+(15+6)=$

二、填一填。(15分)

1.(1)1张  可以换 张 .

(2)1张  可以换 1张  和 张 .

2.



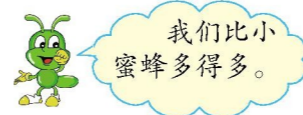
左边图形①是 形,图形②是 形,图形③是 形,图形①②③④拼成的是 形。


3.按规律继续写下去。

$42、44、46、48、()$ $80、85、90、95、()$
 $73、72、71、70、()$ $40、30、20、10、()$


4.个位上和十位上都是6的数是 ;个位上是6,十位上是4的数是 ;
6个十和4个一组成的数是 。上面三个数中, 最大, 最小。

三、在合适的答案下面画“□”。(8分)



 可能有多少只?

27只	38只	86只
<input type="checkbox"/>	<input type="checkbox"/>	<input type="checkbox"/>

 可能有多少只?

6只	30只	18只
<input type="checkbox"/>	<input type="checkbox"/>	<input type="checkbox"/>

四、在○里填上“>”“<”或“=”。(8分)

$32 \bigcirc 62$ $74-8 \bigcirc 65$ $65-5 \bigcirc 70$ $52-4 \bigcirc 46$

$34 \bigcirc 7+25$ $28 \bigcirc 20+8$ 1角6分 \bigcirc 16分 1元 \bigcirc 9角8分

五、看图写算式。(8分)

1. $\star\star\star\star\star$ $\star\star\star\star\star\star\star$
 $\star\star\star\star\star$ $\star\star\star\star\star\star\star$

$() + () = ()$ $() - () = ()$



2.  13支

$() - () = ()$ (支)

六、解决问题。(46分)

1.一(1)班第一组和第二组的同学共做了68件手工作品,送给幼儿园小朋友30件,还剩多少件?(7分)

2.一支钢笔5元6角,一支铅笔8角。铅笔比钢笔便宜多少钱?(7分)

3.送给爷爷6条,还剩几条?(7分)



4.小红上午写了15个大字,下午还要写20个。一共要写多少个大字?(7分)

5.星期天,小青和妈妈到超市购物。(12分)



62元



40元



8元

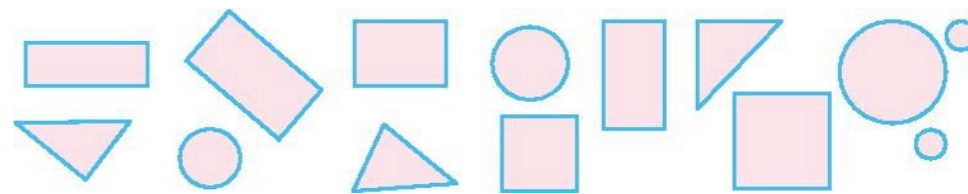


3元

(1) 一件上衣比一把尺子贵多少元?

(2) 如果小青只买一辆玩具车,她付给售货员50元,应找回多少钱?

6.先把下面的图形整理一下,再填表。(6分)



形状	长方形	正方形	三角形	圆
个数				

期末检测答案

一、9 8 16 35 59 100 30 4 50 22 6 6 25 55
61

二、1. (1)10 (2)3

2. 三角 正方 长方 平行四边

3. 50 100 69 0

4. 66 46 64 66 46

三、86只 30只

四、< > < > > = = >

五、1. 10 12 22或12 10 22

22 10 12或22 12 10

2. 13 4 9

准考证号：_____ 姓名：_____ 班级：_____

○……………线……………内……………不……………要……………答……………题……………○……………

六、1. $68-30=38$ (件)

2. $5\text{元}6\text{角}-8\text{角}=4\text{元}8\text{角}$

3. $13-6=7$ (条)

4. $15+20=35$ (个)

5. (1) $62-3=59$ (元) (2) $50-40=10$ (元)

6. 4 2 3 5