

# 2022-2023 学年人教版一年级上册数学期末测试

## 卷

题号	一	二	三	四	五	六	七	总分
得分								

### 一.选择题(共 6 题,共 12 分)

1.音乐钟每隔一段相同的时间就响一次铃。

第一次响铃 9:00 第二次 9:30

第三次 10:00 第四次? ( )



2.小亮 1 分写 9 个字,小华 1 分写 12 个字, ( ) 写得快。

A. 小华      B. 小亮      C. 不确定

3.

$5 + \bigcirc < 12$ 。○内可以填的数字有几个？( )


A. 7个      B. 6个      C. 3个

4. 数一数，下面有 ( ) 张笑脸。



A. 4      B. 3      C. 7

5. 选择正确的算式 ( )




A.  $19 - 3$       B.  $9 + 7$       C.  $14 + 3$

6. 苹苹要做 5 朵花，已经做了 2 朵，还要做 ( ) 朵。

A. 5      B. 4      C. 3

**二. 判断题(共 6 题，共 12 分)**

1.19 添上 1 是 20。 ( )

2.  这是一个圆柱体。 ( )

3.老师用的粉笔是圆柱形。 ( )

4.在一个队伍中，我的前面有 5 人，后面有 4 人，这个队伍一共有 9 人。 ( )

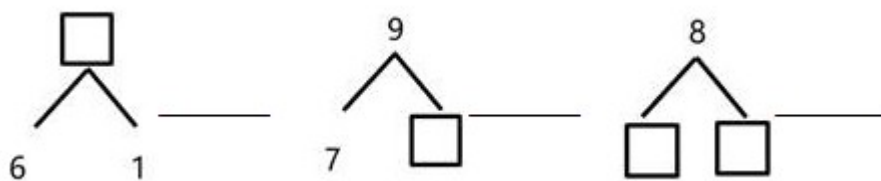
5.下图可列式为  $5-4=1$ 。 ( )



6.12 的前一个数是 11，后一个数是 13。 ( )

### 三.填空题(共 7 题，共 19 分)

1.在横线上填上合适的数：



2.把下面的算式按得数大小排列。

$9-4$     $6+2$     $7-1$     $3+6$     $2+2$

\_\_\_\_\_ > \_\_\_\_\_ > \_\_\_\_\_ > \_\_\_\_\_ > \_\_\_\_\_

3.教室里，讲桌在我的\_\_\_\_\_面，我用\_\_\_\_\_手写字。

4.数字8前面一个数是（ ），后面一个数是（ ）。

5.比12少2的数是\_\_\_\_\_，比12多5的数是\_\_\_\_\_。

6.一个数的个位上是0，十位是2，这个数是（ ），它在（ ）的后面。

7.钟表上的短针是（ ）针，长针是（ ）针。

#### 四.计算题(共2题，共24分)

1.计算。

$$3 + 2 - 4 = \quad 8 - 5 + 3 = \quad 9 - 8 + 7 = \quad 5 + 4 - 7 =$$

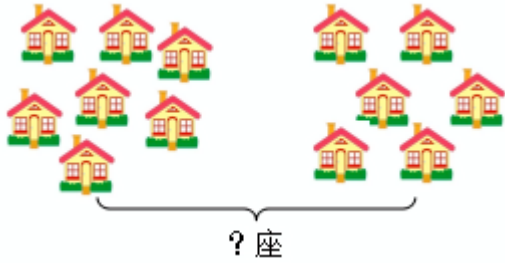
$$2 + 3 + 5 = \quad 10 - 3 - 4 = \quad 10 - 2 - 6 = \quad 10 - 8 + 1 =$$

$$9 - 3 - 2 = \quad 9 - 4 + 1 = \quad 9 - 8 + 6 = \quad 9 - 4 - 5 =$$

$$2 + 4 + 3 = \quad 8 + 2 - 1 = \quad 8 - 4 + 6 = \quad 8 - 8 + 5 =$$

$$8 - 4 - 2 = \quad 7 - 1 + 3 = \quad 4 + 3 - 3 = \quad 5 + 3 - 4 =$$

2.看图列式计算。



$$\square \bigcirc \square = \square \text{ (座)}$$

### 五.作图题(共 1 题, 共 4 分)

1. 按要求圈一圈, 涂一涂。




① 从左数第四个苹果圈出来。

② 从右数第三个苹果是哪个, 涂上你喜欢的颜色。

### 六.解答题(共 6 题, 共 29 分)

1. 鱼缸里有 6 条红金鱼, 5 条黑金鱼, 一共有多少条金鱼?

2. 有一群  , 6 只在河里游水, 10 只在草丛里, 还有 3 只在河边上, 一共有多少只鸭子?

3. 小朋友们正筹备着寒假里的活动, 他们一共分成两组。第一组中有女生 8 人, 男生 7 人, 第二组中有女生 7 人, 男生 9 人。第一组和第二组中各有多少人参加? 哪一组人数较多?

4. 小朋友们排队上车, 小林前面有 3 人, 后面有 3 人, 这一队一共有多少人?  
(画图并作答)

5. 小华收藏了 8 颗珍珠, 小红收集了 7 颗, 她两个一共有多少颗? 穿一个手链需要 20 颗, 够吗?

6. 小红买了一块橡皮擦 5 角, 买了一把铅笔 2 角, 一共花了多少钱?

## 参考答案

### 一. 选择题

1. C
2. A
3. A
4. C
5. C
6. C

### 二. 判断题

1.  $\checkmark$
2.  $\times$
3.  $\times$
4.  $\times$

5.√

6.√

### 三.填空题

1.7 ; 2 ; 略

2.3+6 ; 6+2 ; 7-1 ; 9-4 ; 2+2

3.前 ; 右

4.7 ; 9

5.10 ; 17

6.20 ; 19

7.时针 ; 分针

### 四.计算题

1.1 ; 6 ; 8 ; 2 ; 10 ; 3 ; 2 ; 3 ; 4 ; 6 ; 7 ; 0 ; 9 ; 9 ; 10 ; 5 ; 2 ; 9 ; 4 ; 4

2.7 + 6 = 13 (座)

### 五.作图题

1.如图 :



### 六.解答题

1.6+5=11 (条)      答 : 一共有 11 条金鱼。


2.  $6+10+3=19$  (只) 答：一共有 19 只鸭子。

3. 第一组： $8+7=15$  (人)

第二组： $7+9=16$  (人)

$16>15$

第二组人数较多。



$3+1+3=7$  (人)

5. 解： $8+7=15$  (颗)  $15<20$

答：他两个一共有 15 颗，不够。

6.  $5+2=7$  (角)