

第二单元过关检测卷


一、相信你会全算对。(16分)

$16 - 9 =$	$3 + 9 + 5 =$	$13 - 8 =$	$11 - 5 + 9 =$
$12 - 4 =$	$13 - 6 + 7 =$	$14 - 6 =$	$15 - 6 + 9 =$
$6 + 8 =$	$12 - 5 + 8 =$	$13 - 5 =$	$11 - 8 + 8 =$
$11 - 9 =$	$18 - 4 - 5 =$	$8 + 5 =$	$10 - 4 + 6 =$

二、在  填上合适的数。(6分)

$$11 - \text{heart} = 5 \quad 12 - \text{heart} = 8 \quad \text{heart} - 6 = 6$$

$$14 - \text{heart} = 5 \quad \text{heart} + 8 = 17 \quad 15 - 6 = \text{heart}$$

三、在  里填上“>”“<”或“=”。(4分)

$$12 - 9 \text{ } \text{circle} \text{ } 4 \quad 13 - 9 \text{ } \text{circle} \text{ } 5$$


$$12 - 7 \text{ } \text{circle} \text{ } 13 - 8 \quad 10 + 2 \text{ } \text{circle} \text{ } 17 - 8$$


四、里最大能填几?(6分)


$$12 - \text{circle} > 5 \quad 8 + \text{circle} < 16 \quad 17 - \text{circle} > 8$$

$$7 + \text{circle} < 15 \quad 7 - \text{circle} < 7 \quad 7 + \text{circle} < 12$$

五、猜猜小动物各是几?(每题2分,共6分)

1.  15 比我多7。()

2.  我比12少5。()

3.  8比我少6。()


六、按得数把算式的序号填在相应的方框里。(12分)

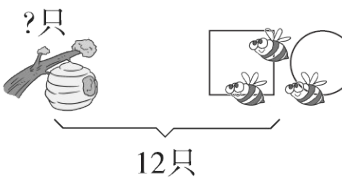
- ① $13 - 6$ ② $15 - 9$ ③ $14 - 9$ ④ $14 - 7$
 ⑤ $16 - 9$ ⑥ $13 - 8$ ⑦ $13 - 7$ ⑧ $12 - 6$
 ⑨ $12 - 5$ ⑩ $11 - 6$ ⑪ $14 - 8$ ⑫ $12 - 7$

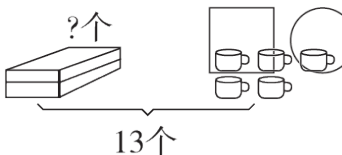
--	--	--

得数是 7 得数是 6 得数是 5

七、看图列式计算。(每题 3 分，共 9 分)

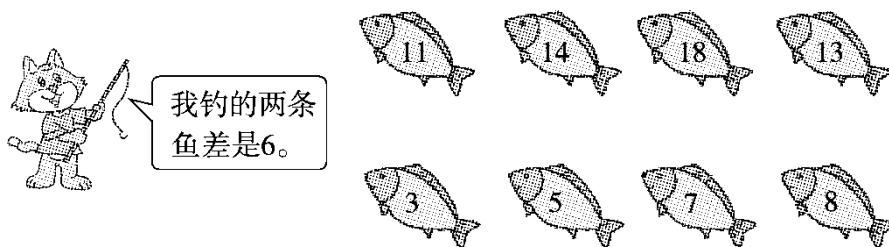
1.  $\square = \square$ ()

2.  $\square = \square$ ()

3.  $\square = \square$ ()

八、连一连。(8分)

小猫钓的可能是哪两条鱼？



九、完成表格。(9分)

	原有	卖出	还剩
	12 台	$\frac{2}{5}$ 5 台	() 台
	() 辆	9 辆	9 辆

十、解决问题。(4题 15分，其余每题 3分，共 24分)

1.

房子里原来有11只小猪，跑出来3只小猪，还剩下几只小猪？



$$\square \bigcirc \square = \square \quad (\quad)$$

2. 一共有 12 人。游泳池边上有多少人？



3.



小明

我们两个一共捡了13片树叶，其中有7片绿叶。



小莹

我捡了8片树叶。

小明捡了几片树叶？

$$\square \bigcirc \square = \square \quad (\quad)$$

4.

我买了9瓶酸奶。



小丽

我买了13瓶。



小雪

我买了5瓶。



小芳

(1)小雪比小芳多买了多少瓶？

$$\square \bigcirc \square = \square \quad (\quad)$$

(2)小丽比小雪少买了多少瓶？

$$\square \bigcirc \square = \square \quad (\quad)$$

(3)请你提出一个数学问题并解答。

$$\square \bigcirc \square = \square \quad (\quad)$$

答案

一、7 8 14 2 17 14 15 9

5 8 8 13 15 18 11 12

二、6 4 12 9 9 9

三、< < = >

四、6 7 8 7 7 4

五、1.8 2.7 3.14

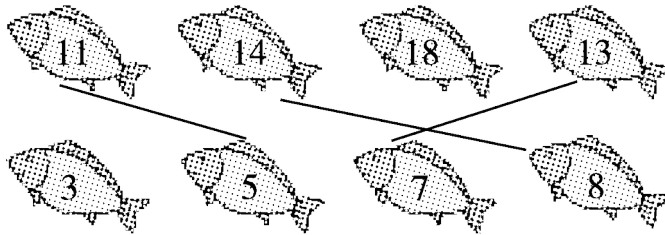
六、①④⑤⑨ ②⑦⑧ ③⑥⑩

七、1. $17 - 9 = 8$ (块)

2. $12 - 3 = 9$ (只)

3. $13 - 5 = 8$ (个)

八、



九、7 18 7

十、1. $11 - 3 = 8$ (只)

2. $12 - 6 = 6$ (人)

3. $13 - 8 = 5$ (片)

4. (1) $13 - 5 = 8$ (瓶) (2) $13 - 9 = 4$ (瓶) (3)略