

第五单元检测卷 (1)

一、填空题。




1.人民币的单位有()、()、()。

2.20分=()角 3元=()角 7角=()分

60角=()元 5角4分=()分 3元6角=()
角

15角=()元()角 24分=()角()分

3.(1)一张  可以换()枚  。

(2)一张  可以换()张  和()
张  。

4.在括号里填上“元”或“角”。

一支铅笔 5() 一瓶可乐 3() 一盒巧克力 36()


5.一张5元、一张2元、一张5角,一共是()元()角。

二、在○里填“>”“<”或“=”。


50元○50角 42分○4元1角 1元○100分 8元8角
○9元

6角○62分 35元○53元 3元○40角 7分○7角


三、看图填一填。



()元









()元()角



()元()角()分

四、填表。

要买的物品	 3角	 1元5角	 20元
付出的钱			
应找回的钱	()角	()角	()元

五、解决问题。

1. 小勇买了一个文具盒, 付出 10 元, 应该找回多少元?



$$\square \bigcirc \square = \square \text{ ()}$$

2.



16元





12元





8元



5元

(1) 买一条  和一个 , 一共需要多少钱?

(2) 一把  比一辆  便宜多少钱?

(3)小明付了 20 元,找回了 8 元,他买了什么?

3.



6元



51元



7元



4元



9元



36元

(1)买一只玩具小熊和一副七巧板,一共要多少钱?

(2)一个布娃娃比一个魔方贵多少钱?

(3)小军买了一只玩具兔,营业员找回 3 元,他付了多少钱?

(4)丽丽用 13 元正好买了两种玩具,她可能买了哪两种玩具?

参考答案

一、1.元 角 分

2.2 30 70 6 54 36 1 5 2 4

3.(1)5 (2)1 3或2 1

4.角 元 元 5.7 5

二、> < = < < < < <

三、71 32 5 2 5 5

四、7 5 30

五、1. $10-8=2$ (元)

2. (1) $12+8=20$ (元) (2) $16-5=11$ (元)

(3) $20-8=12$ (元) 小船

3. (1) $4+9=13$ (元) (2) $36-6=30$ (元)

(3) $7+3=10$ (元) (4)魔方和玩具兔或者七巧板和玩具小熊