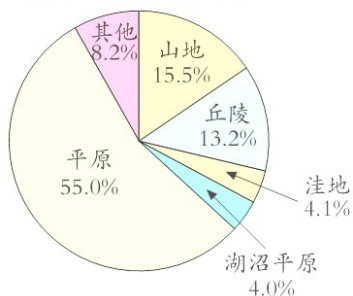


4.统计

1.

山东省地形分布情况统计图



(1)从这个统计图中,你知道了什么?

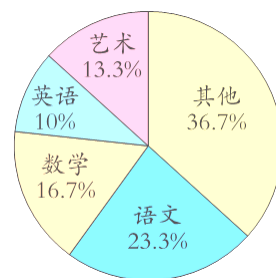
(2)山东省的总面积为 15.67 万平方千米,平原的面积是多少万平方千米?

(3)你还能提出什么问题?

2.六年级一班一周有 30 节课,各学科课时占总课时的百分比如下图:

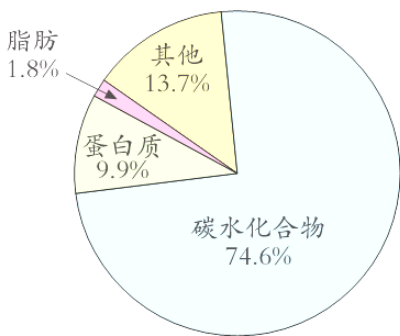
(1)一周有几节语文课?(得数保留整数。)

(2)你还能提出什么问题?

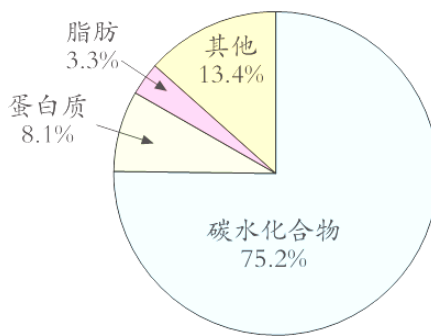


3.观察统计图,回答问题

标准面粉的营养成分含量统计图



玉米面的营养成分含量统计图



同等质量的标准面粉和玉米面的脂肪含量哪个高?碳水化合物的含量呢?

参考答案:

1. (2) $15.67 \times 55.0\% = 8.6185$ (万平方千米)

2. (1) $30 \times 23.3\% \approx 7$ (节)

3.

(1) $1.8\% < 3.3\%$

答：同等质量的面粉与玉米面中，玉米面的脂肪含量高。

(2) $74.6\% < 75.2\%$

答：同等质量的面粉与玉米面中，玉米面的碳水化合物含量高。