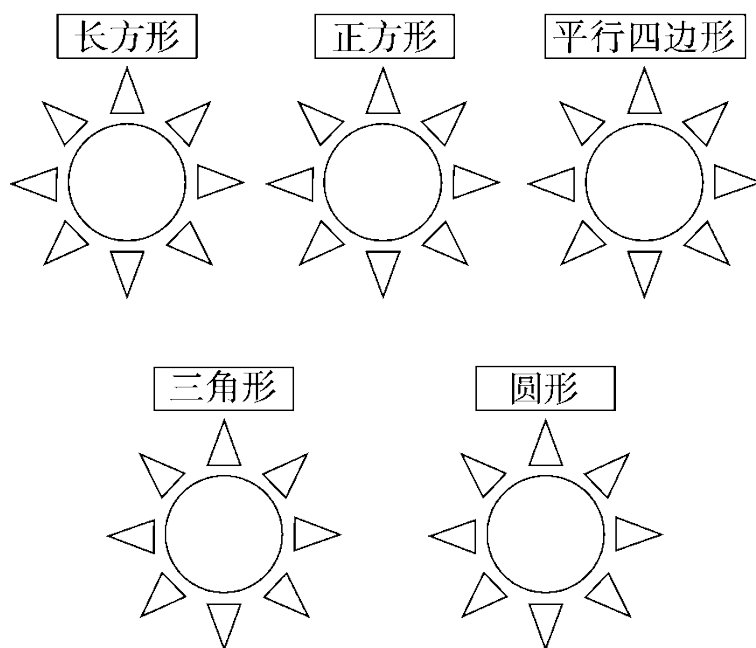
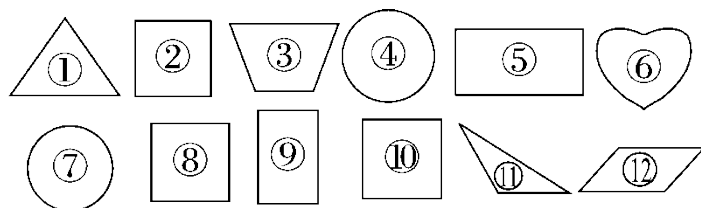


## 第一单元过关检测卷

一、把图形送回合适的“太阳花”里。(填序号)(12分)



二、填一填。(每空 2 分，共 20 分)

1. 至少用( )个相同的长方形可以拼成一个大的长方形。
2. 是由 2 个相同的( )形拼成的 1 个( )形。
3. 用 2 个 可以拼成一个( )形，也可以拼成一个( )形。
4. 至少用( )个相同的正方形可以拼成一个大的正方形。
5. 一个正方形可以剪成两个相同的( )形或( )形。
6. 把一张正方形纸，沿虚线对折，对折后的图形是( )形，  
像这样大小的图形有( )个。

三、辨一辨。(对的画“√”，错的画“×”)(每题 2 分，共 6 分)

1.



一个正方形可以分成4个完全一样的三角形。

( )

2.



右图中一共有2个长方形。



( )

3.



用两个一样的三角形可以拼成一个平行四边形。

( )

四、选一选。(把正确答案的字母填在括号里)(每题2分，共10分)

1. 用  不能画出的图形是( )。

- A. 圆形
- B. 长方形
- C. 三角形

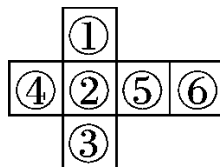
2. 把一个正方形纸对折，不能折出的图形是( )。

- A. 长方形
- B. 正方形
- C. 圆形

3. 七巧板中共有( )种不同的图形。

- A. 7
- B. 5
- C. 3

4. 把下图折成正方体，②号的对面是( )。

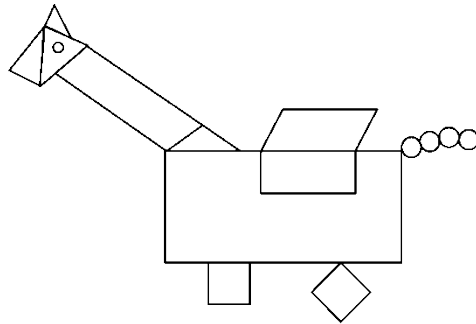


- A. ④
- B. ⑤
- C. ⑥

5. 至少( )根这样的小棒 ，可以拼成一个长方形。

- A. 4
- B. 6
- C. 8

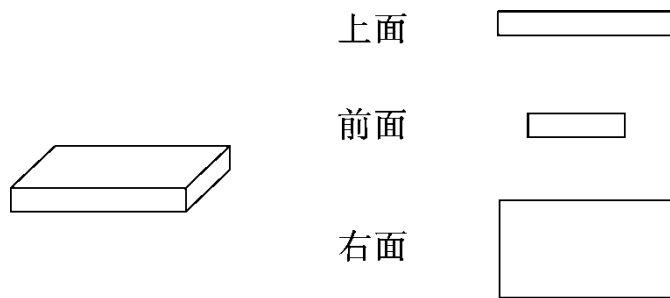
五、数一数，填一填。(每空2分，共10分)



□ ( ) 个      ○ ( ) 个  
 长方形 ( ) 个      平行四边形 ( ) 个  
 △ ( ) 个

六、动手操作。(1题6分，4题8分，其余每题4分，共22分)

1. 右边的图形是长方体的哪个面？用线连起来。

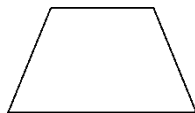


2. 剪一剪。(在图中用虚线画出来)

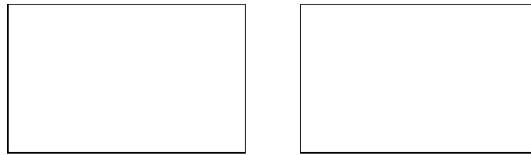
(1) 剪三刀，把下图剪成四个大小一样的小正方形。



(2) 剪一刀，把下图剪成一个三角形和一个平行四边形。

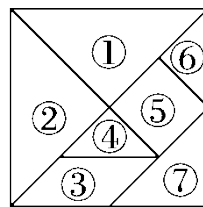


3. 画一画，把每个长方形分成大小相等的四块。

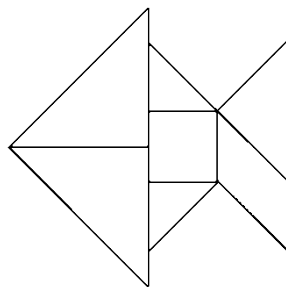


4. 圈一圈。(把能画出左边图形的物体圈出来)


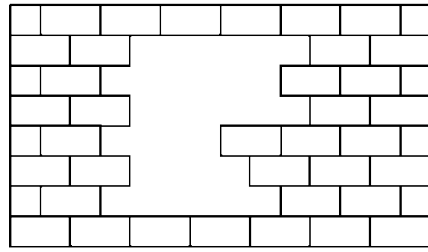

七、趣味七巧板。(14分)



下面是我用七巧板拼出来的图形，你知道用了哪几块七巧板吗？你能把每块的序号在图中标出来吗？试试看！



八、小熊补墙，画一画，数一数，填一填。(6分)



缺了( )块砖。

# 答案

一、⑤⑨ ②⑧⑩

⑫ ①⑪

④⑦

二、1.2

2. 正方 长方

3. 正方 三角(答案不唯一)

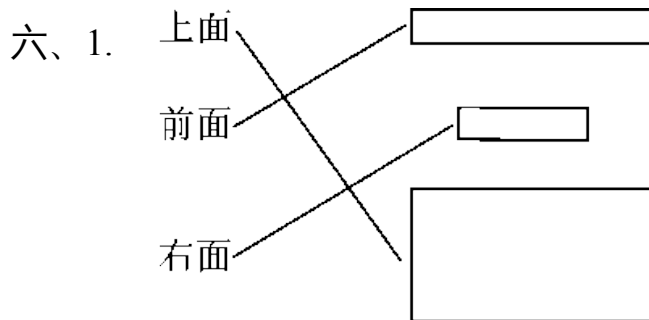
4. 4 5.三角 长方(答案不唯一)

6. 三角 4

三、1.√ 2.× 3.√

四、1.C 2.C 3.C 4.C 5.B

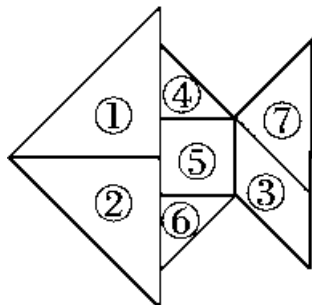
五、2 5 2 2 4



2. 略 3.略

4. 圈第2个、圈第3个、圈第3个、圈第2个(从左往右)

七、



---

(①与②, ④与⑥标注位置可以互换)

八、16(画一画略)