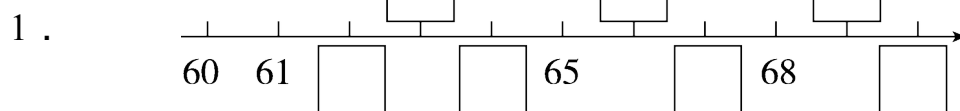


期中检测卷

一、认真填一填。(每空1分,共23分)



(1)按顺序填数。

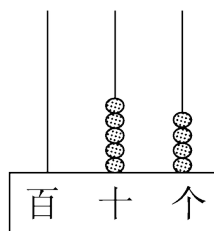
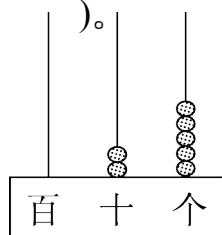
(2)65 前面的一个数是(), 后面的一个数是()。

(3)在 65 和 69 中, ()更接近 64, ()更接近 70。

2. 36 中的()在十位上, 表示()个十, 6 在()位上, 表

示()个()。

3.



写作: () 读作: () 写作: () 读作: (

)

4. 一个两位数, 十位上的数是 7, 个位上的数是 8, 这个数是()。

5. 至少用()个完全相同的小正方形可以拼成一个大正方形。

6. 有 62 颗糖果, 每 10 颗装一袋, 可以装满()袋。

二、智慧辨一辨。(对的画“√”, 错的画“×”)(每题 1 分, 共 5 分)

1. 读数和写数都从高位起。()

2. 比 30 多得多, 比 80 少一些的数, 一定是 79。()

3. 58 和 85 都有数字“5”和“8”, 所以它们一样大。()

4. 四十八写作 408, 26 读作二六。()

5. 99 中的两个“9”表示的意义一样。()

三、快乐做一做。(1, 3 题每题 8 分, 其余每题 6 分, 共 28 分)

1. $14 - 6 =$ $12 - 4 + 20 =$

$55 - 5 =$ $73 - 70 + 9 =$

$21 + 8 =$ $6 + 50 - 4 =$

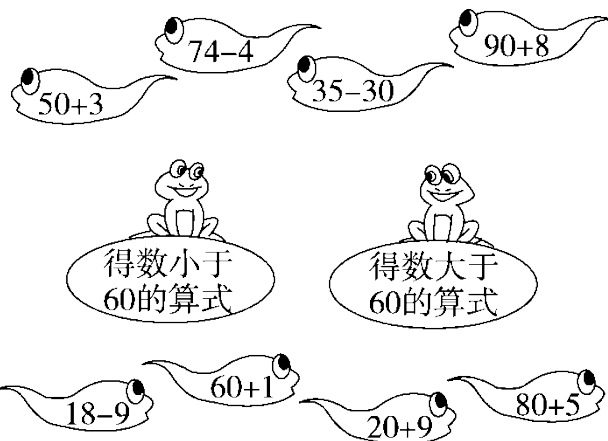
$94 - 90 =$ $13 - 4 + 30 =$

2. 比大小。

$25 \bigcirc 52$ $47 \bigcirc 49$ $11 \bigcirc 31$

$56 \bigcirc 65$ $39 \bigcirc 39$ $90 \bigcirc 19$

3. 小蝌蚪找妈妈。(连一连)



4. 在()里填上合适的数。

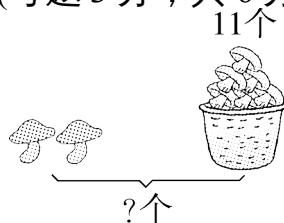
$14 - () = 8$ $() - 7 = 30$

$11 - () = 9$ $16 - () = 7$

$() + 60 = 62$ $90 + () = 99$

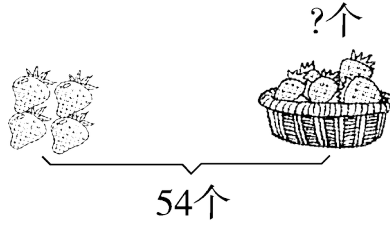
四、看图列式计算。(每题 3 分, 共 6 分)

1.



$$\square \bigcirc \square = \square \quad (\quad)$$


2.



$$\square \bigcirc \square = \square \quad (\quad)$$

五、解决问题。(4题6分，6题16分，其余每题4分，共38分)

1.



还剩多少个？


$$\square \bigcirc \square = \square \quad (\quad)$$

2. 树上共有15条虫子，还要吃多少条才能吃完？



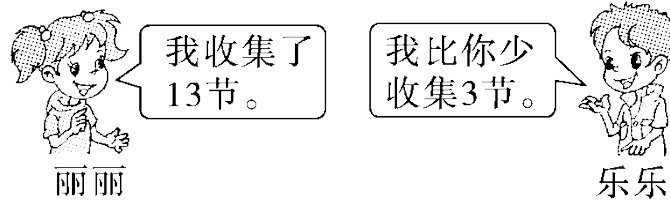
$$\square \bigcirc \square = \square \quad (\quad)$$

3. 要送给幼儿园小朋友18朵花。



$$\square \bigcirc \square \bigcirc \square = \square \quad (\quad)$$

4. 一年级(1)班开展“收集废电池，减少污染”活动，全班一共收集了73节废电池。



(1) 乐乐收集了多少节？

$$\square \bigcirc \square = \square \quad (\quad)$$

(2) 乐乐和丽丽一共收集了多少节？

$$\square \bigcirc \square = \square \quad (\quad)$$

5. 猜一猜。(在合适的答案下面画“√”)

小红跳了48下，男孩可能跳了多少下？

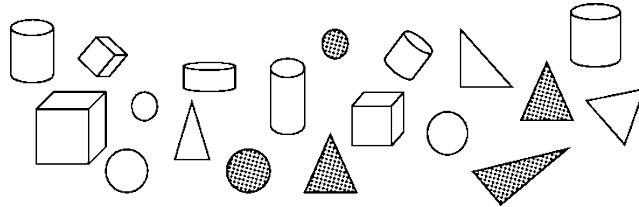


45下	52下	85下

女孩可能跳了多少下？

45下	52下	85下

6. 分一分，填一填。



(1)把分类的结果整理在表中。

按颜色分：

	灰色	白色
个数		

按形状分：

	圆柱	正方体	圆	三角形
个数				

根据按形状分类的结果，回答以下问题。

()的个数最多，()的个数最少。(

)的个数和()的个数同样多。()比()多3个。

(2)如果把这些图形分成两组，还可以怎样分？把分组的结果表示出来。

个数		

答案

一、1. (1)62 63 64 66 67 69 70

(2)64 66 (3)65 69

2. 3 3 个 6 一

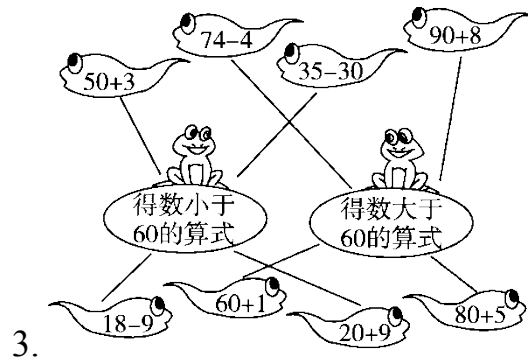
3. 25 二十五 54 五十四

4. 78 5.4 6.6

二、1. $\sqrt{\quad}$ 2. \times 3. \times 4. \times 5. \times

三、1. 8 28 50 12 29 52 4 39

2. $<$ $<$ $<$ $<$ $=$ $>$



4. 6 37 2 9 2 9

四、1. $11 + 2 = 13$ (个) 2. $54 - 4 = 50$ (个)

五、1. $87 - 80 = 7$ (个) 2. $15 - 8 = 7$ (条)

3. $18 - 6 - 9 = 3$ (朵)

4. (1) $13 - 3 = 10$ (节) (2) $10 + 13 = 23$ (节)

5. 85 下“ $\sqrt{\quad}$ ” 45 下“ $\sqrt{\quad}$ ”

6. (1)5 14 5 3 5 6 三角形 正方体 圆柱 圆

三角形 正方体

(2)

	平面图形	立体图形
个数	11	8

(答案不唯一)
