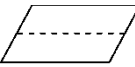


一年级第二学期数学期末测试卷(一)

一、我会填。(每空 1 分,共 34 分)

1.  折出了()个相同的()形。

2. 60 角 = () 元 89 角 = () 元 () 角

76 分 = () 角 () 分 1 元 = () 分

3. 96 里面有()个十和()个一,再加上()个一就是 100。

4. 与 29 相邻的两个数是()和(),这两个数的和是()。

5. 一个两位数,个位上是 5,十位上是 6,这个两位数是()。

6. 按从小到大的顺序排列下面各数。

37 89 50 2 100 73 41

() < () < () < () < () < () < ()

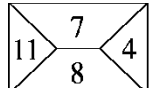
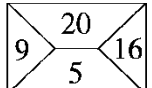
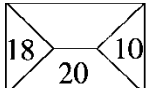
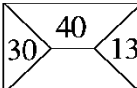
7. 98 比 90 多(),9 比 16 少()。

8. 一张  能换()张  或()张 .

9. 按规律填一填。


(1)       () () ()

(2) 83 81 79 77 () () ()

(3)    

二、我会辨。(每题 1 分,共 5 分)

1. 30 和 63 两个数中的 3 表示的意义一样。 ()

2. 至少用 8 个相同的  可以拼成一个大正方形。 ()

3. 小明买了一本 18 元的书，他付了 2 张 9 元的钱。 ()

4. 圆是一条封闭的曲线。 ()

三、我会选。(每题 1 分，共 5 分)

1. 最大的一位数和最小的两位数相差()。

- A . 1 B . 9 C . 90

2. 读数和写数都从()起。

- A . 个位 B . 十位 C . 最高位

3. 一个一个地数，64 后面第 3 个数是()。

- A . 61 B . 66 C . 67

4. 下面最接近 20 的数是()。

- A . 23 B . 18 C . 12

5. 一瓶牛奶卖 4()。

- A . 角 B . 元 C . 分

四、我会算。(1 题 12 分，2 题 6 分，3 题 6 分，共 24 分)

1. 直接写出得数。

$25 + 4 =$ $72 - 2 =$ $14 - 5 - 6 =$

$68 - 20 =$ $26 + 7 =$ $81 - (47 - 7) =$

$63 - 5 =$ $51 - 8 =$ $40 + 60 - 8 =$


$24 + 8 =$ $20 + 43 =$ $66 - (34 + 6) =$

2. 把下面的算式按得数从小到大排列。

$56 - 30$ $9 + 56$ $88 - 6$ $30 + 26$ $47 - 7$ $45 - 9$


() < () < () < () < () < ()

3. 下面每组中各算式的得数相同，你能填出括号里面的数吗？



五、在合适的答案下面画“√”。(每题 2 分，共 4 分)


1.



咪咪可能钓了多少条鱼？

3	26	32

2.

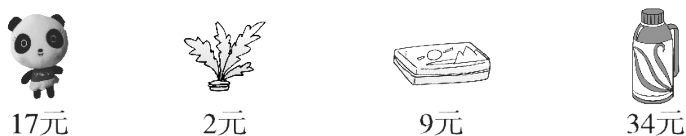


文文可能看了多少页？

20	25	52

六、解决问题。(1 题 6 分，5 题 10 分，其余每题 4 分，共 28 分)

1.




(1) 一个熊猫玩具比一个文具盒贵多少钱？

(2) 买一个热水瓶和一个毽子共多少钱？

(3) 丽丽用 11 元刚好买了哪两样？

2. 一共有 15 人参加了堆雪人活动。



(1) 左边有 7 人，右边有几人？

(2) 男生有 9 人，女生有几人？

3.




分给 22 个小朋友。



每个小朋友分一盒，这些牛奶够吗？

4. 兰兰和红红共扎了 42 朵花，其中有 30 朵是红色的。兰兰扎了 20 朵，红红扎了多少朵？

5. 下面是一(2)班学生最喜欢的小动物的情况。



(1)根据上图填写下表。

	 狮子	 兔子	 小熊	 猴子	 小象
人数					

(2)喜欢()的人数最多，喜欢()和()的人数同样多。

(3)你能提一个数学问题并解答吗？

答案

一、1.2 平行四边 2.6 8 9 7 6 100

3.9 6 4 4.30 28 58 5.65

6.2 37 41 50 73 89 100

7.8 7 8.2 5

9. (1) 😊 😊 ♡ (2) 75 73 71

(3) 8 3

二、1. × [点拨] 30 中的 3 表示 3 个十，63 中的 3 表示 3 个一。

2. × [点拨] 至少用 4 个相同可以拼成一个大正方形。

3. × [点拨] 没有 1 张 9 元的钱。

4. √

三、1. A 2. C 3. C 4. B 5. B

四、1. 29 70 3 48 33 41 58 43 92 32

63 26 72 46 41

2. $56 - 30$ $45 - 9$ $47 - 7$ $30 + 26$ $9 + 56$ $88 - 6$

3. 4 7 7 64 50 27

五、1.

3	26	32
	√	

2.

20	25	52
		√

六、1. (1) $17 - 9 = 8$ (元)

(2) $34 + 2 = 36$ (元)

$$(3) 9 + 2 = 11(\text{元})$$

刚好买一个文具盒和一个毽子。

$$2. (1) 15 - 7 = 8(\text{人}) \quad (2) 15 - 9 = 6(\text{人})$$

$$3. 8 + 8 + 8 = 24(\text{盒}) \quad 24 > 22 \quad \text{够。}$$

$$4. 42 - 20 = 22(\text{朵})$$

$$5. (1) 10 \quad 12 \quad 8 \quad 10 \quad 6$$

(2) 兔子 狮子 猴子

(3) 喜欢狮子的和喜欢猴子的一共有多少人？

$$10 + 10 = 20(\text{人}) \quad (\text{答案不唯一})$$