

第一单元检测卷 2

一、我会填。

1.早晨面对太阳,前面是(),后面是(),左面是(),右面是()。东与()相对,南与()相对。

2.地图通常是按照上()下()、左()右()的方向绘制的。

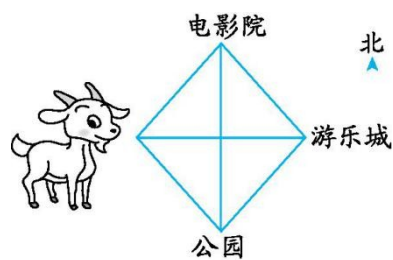
3.刮东南风时,彩旗向()方向飘;刮()风时,彩旗向南飘。

4.如右图,小山羊白白想去游乐城,向()

方向走,直接到达游乐城;从电影院向()

方向走,可以到达游乐城;从游乐城向()

方向走,可以到达公园。



二、我会选择。

1.丽丽站在操场上,面向东南方,她背面的方向是()方。

A.东北

B.西北

C.西南

2.明明上学时向西南方向走到学校,放学时向()方向走回家。

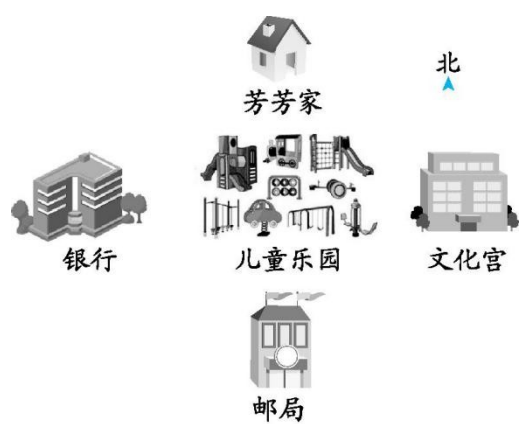
A.东北

B.西北

C.西南

三、看图解决问题。

1.



(1)如图,芳芳家在儿童乐园的()面,银行在儿童乐园的()面。

(2)银行在邮局的()面,邮局在银行的()面。

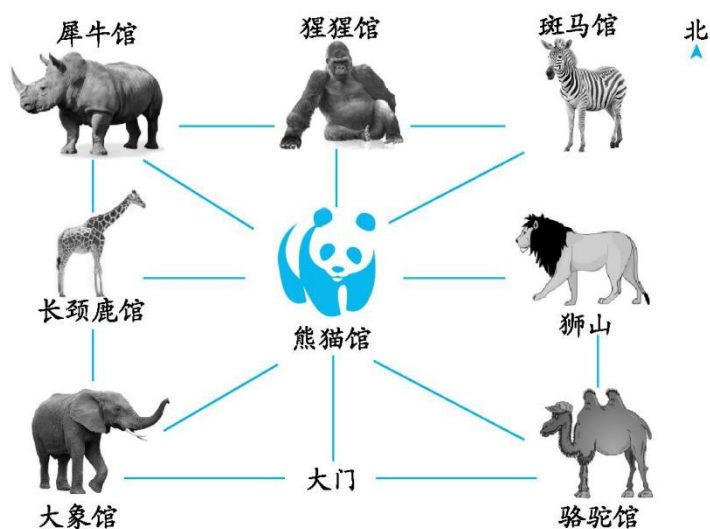
(3)邮局在文化宫的()面,在芳芳家的()面。

2.(1)如下图,大象馆在动物园的()角,犀牛馆在动物园的()角。

(2)动物园的东北角是(),动物园的东南角是()。

(3)狮山在熊猫馆的()方向,猩猩馆在熊猫馆的()方向。

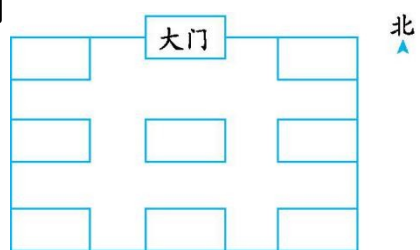
(4)犀牛馆在熊猫馆的()方向,熊猫馆在犀牛馆的()方向。



(5)丽丽从大门进去,先去熊猫馆,再去斑马馆,最后去猩猩馆,她应该怎样走?

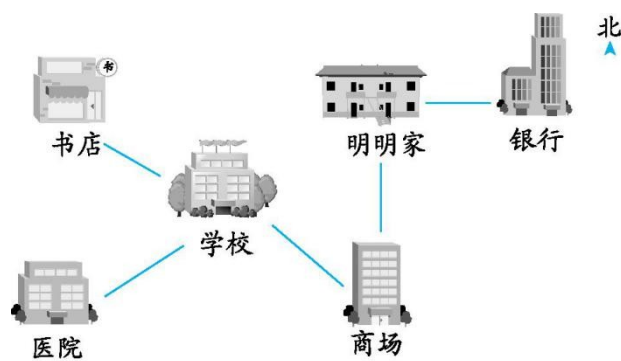
四、下面是张珂的一篇日记,请你根据他的日记内容完成下面的示意图,并回答问题。

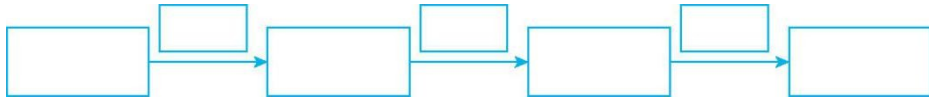
(1)从大门向南看,先看到的是花坛。花坛的南面是教学楼,东北角是食堂,西北角是实验楼,图书馆在花坛的东南角,科技楼在花坛的西面,艺术楼在食堂的南面。



(2)说一说从花坛去其他建筑物分别怎么走。

五、明明的妈妈在医院上班,她上班时该怎样走?





参考答案：

一、1.东 西 北 南 西 北

2.北 南 西 东

3.西北 北

4.正东 东南 西南

二、1.B

2.A

三、1.(1)北 西

(2)西北 东南

(3)西南 南

2.(1)西南 西北

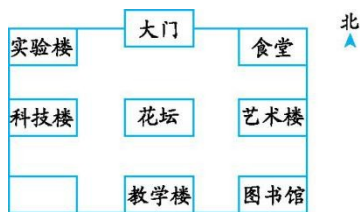
(2)斑马馆 骆驼馆

(3)正东 正北

(4)西北 东南

(5)大门 $\xrightarrow{\text{北}}$ 熊猫馆 $\xrightarrow{\text{东北}}$ 斑马馆 $\xrightarrow{\text{西}}$ 猩猩馆

四、(1)



(2)花坛 $\xrightarrow{\text{南}}$ 教学楼 花坛 $\xrightarrow{\text{东}}$ 艺术楼 花坛 $\xrightarrow{\text{西}}$ 科技楼 花坛 $\xrightarrow{\text{西北}}$ 实验楼 花坛 $\xrightarrow{\text{东北}}$ 食堂 花坛 $\xrightarrow{\text{东南}}$ 图书馆

五、明明家 $\xrightarrow{\text{南}}$ 商场 $\xrightarrow{\text{西北}}$ 学校 $\xrightarrow{\text{西南}}$ 医院