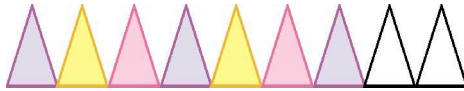


第七单元检测卷 (1)


一、按规律圈一圈。



二、按规律涂一涂。



三、你知道 后面藏的图形是什么吗?



四、按规律摆一摆,画一画。



五、在与其他行不一样的一组后面画“√”。

1.

| | | | | |
|---|---|---|---|-----|
| 2 | 4 | 6 | 8 | () |
| 5 | 6 | 7 | 8 | () |
| 1 | 3 | 5 | 7 | () |
| 3 | 5 | 7 | 9 | () |

2.

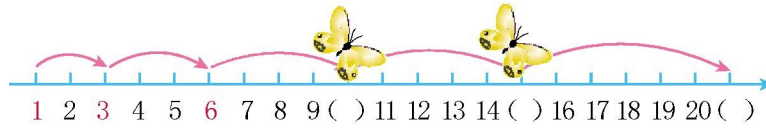
- ()
- ()
- ()
- ()

六、按规律填数。

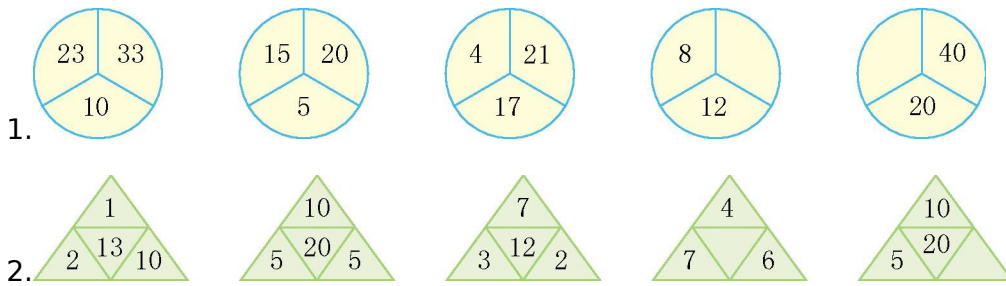
1. 2 4 6 8 10 _____ 2. 3 4 6 9 13 _____

3. _____ 80 60 _____ 20 0 4. 100 95 _____ 85 80 _____ 70

七、找一找蝴蝶飞行的规律。



八、按规律填一填。



参考答案



五、

1.

()

(√)

()

()

2.

()

()

(√)

()

六、1. 12 2. 18 3. 100 40 4. 90 75

七、蝴蝶的飞行的规律是从 2 格开始依次增加 1 格,即 2 格,3 格,4 格,5 格……所以括号里应填 10、15、21。

八、1. 20 20 2. 17 5