


一年级第二学期数学期中测试卷(二)

一、我会填。(8、10题每题2分，其余每空1分，共26分)

- 4个十和7个一组成()，52里面有()个一和()个十。
- 100是()位数，它是由()个十组成的。
- 长方形的()边相等，正方形的()边相等。
- 计数器上，从右边起，第一位是()位，第三位是()位。
- 魔方的左右面是()形，一元硬币的面是()形。
- 用  既可以拼成一个正方形，也可以拼成一个()形或()形。
- 8比15少()，比3多9的数是()，14比6多()。
- 比48大比52小的数有()。
- 按规律填数。

91			88	
----	--	--	----	--

	72		76	
--	----	--	----	--


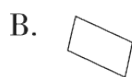
- 一个两位数的个位和十位上的数字和是5，这个两位数可能是()。

二、我会选。(每题1分，共5分)

- “65”这个数中的“6”表示()。

A. 6个一 B. 6个十 C. 6个百

- 下面的图形是平行四边形的是()。



3. 青蛙吃了 56 只害虫，啄木鸟吃的害虫比青蛙吃的多一些，啄木鸟可能吃了()只。

A. 48

B . 62

C . 83

4. 下面不是体育用品的是()。



5. 个位上的数字比十位上的数字大的是()。

A. 29

B . 83

C . 95

三、算一算，比一比。(1 题 12 分，2 题 6 分，3 题 5 分，共 23 分)

1. 算一算。

$18 - 9 =$

$7 + 9 =$

$56 - 6 =$

$18 - 4 + 3 =$

$14 - 8 =$

$8 + 60 =$

$76 - 6 =$

$12 - 5 + 4 =$

$30 + 7 =$

$5 + 3 + 7 =$

$16 - 2 - 5 =$

$18 - 3 + 3 =$

2. 在()里填上合适的数。

$12 - () = 5$

$() - 6 = 20$

$() + 60 = 65$

$90 + () = 99$

$() - 5 = 70$

$() + 8 = 14$

3. 把下列算式按得数的大小从大到小排列。

$12 - 5$

$30 + 9$

$9 + 8$

$48 - 40$

$73 - 3$

() > () > () > () > ()

四、把下面的百数表填完整。(11 分)


	75	
	85	

	27	

		70

五、看图列式。(1题4分,其余每题2分,共8分)

1.



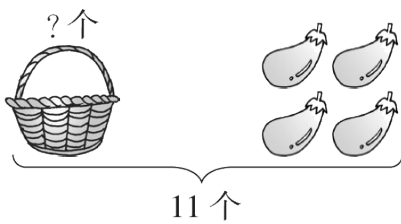
$$\square \bigcirc \square = \square \text{ (个)}$$

$$\square \bigcirc \square = \square \text{ (个)}$$

$$\square \bigcirc \square = \square \text{ (个)}$$

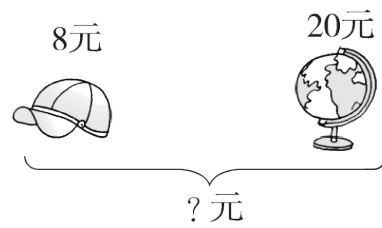
$$\square \bigcirc \square = \square \text{ (个)}$$

2.



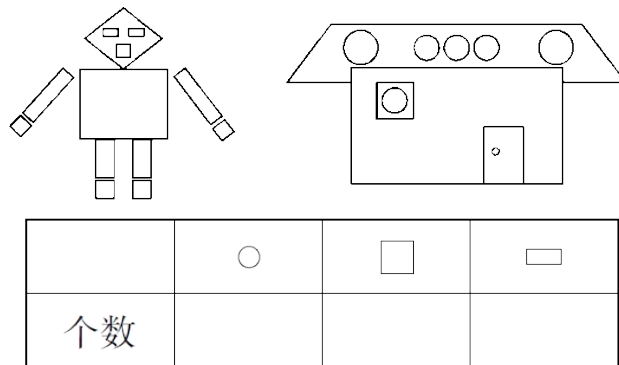
$$\square \bigcirc \square = \square \text{ (个)}$$

3.



$$\square \bigcirc \square = \square \text{ (元)}$$

六、看图数一数。(6分)



七、解决问题。(1题3分,2、3题每题4分,其余每题5分,共21分)

1. 小红跳了42下,猜一猜他们可能各跳了多少下。(在正确答案的下面画“√”)

我跳的比小红少一些。



小力

我跳的比小红多得多。



小云

我跳的比小红多一些。



小飞

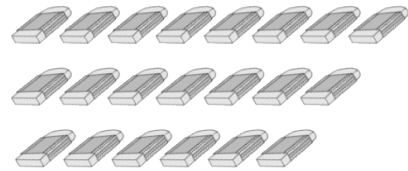
	35 下	18 下	50 下	81 下
小力				
小云				
小飞				

2. 希望小学捐书，一(1)班捐了 68 本，一(2)班再捐 8 本就和一(1)班同样多，一(2)班捐了多少本？

3. 花瓶里要插 13 枝花，还差几枝？



4. 每个学生分 4 块，可以分给多少个学生？



5. 小亮比小青少几本故事书？

我有8本故事书，4本连环画。



小亮

我有28本故事书。



小青

答案

一、1. 47 2 5 2. 三 10 3. 对 4条

4. 个 百 5. 正方 圆

6. 三角 平行四边

7. 7 12 8 8. 49, 50, 51

9. 90 89 87 70 74 78

10. 14, 23, 32, 41, 50

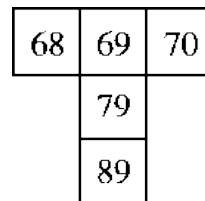
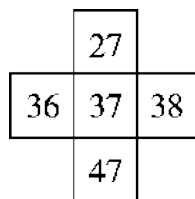
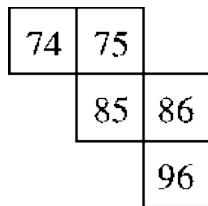
二、1. B 2. B 3. B 4. B 5. A

三、1. 9 16 50 17 6 68 70 11 37 15 9 18

2. 7 26 5 9 75 6

3. $73 - 3 > 30 + 9 > 9 + 8 > 48 - 40 > 12 - 5$

四、



五、1. $50 + 4 = 54$ $4 + 50 = 54$

$54 - 4 = 50$ $54 - 50 = 4$

2. $11 - 4 = 7$ $3.8 + 20 = 28$

六、

	○	□	▭
个数	7	6	9

七、1.

	35 下	18 下	50 下	81 下
小力	√			
小云				√
小飞			√	

2. $68 - 8 = 60$ (本)

3. $13 - 4 = 9$ (枝)

4. 可以分给 5 个学生。

5. $28 - 8 = 20$ (本)