





2023-2024 人教版一年级数学上学期期中测试卷

测试范围：1-5 单元 时间：90 分钟 总分：100 分

题号	一	二	三	四	五	六	七	八	总分
得分									

一、看图写数。(共 1 题；共 4 分)

1. (4 分) 看图写数。



二、填一填。(共 7 题；共 19 分)

2. (1 分) 从 0 数到 8，一共数了_____个数。

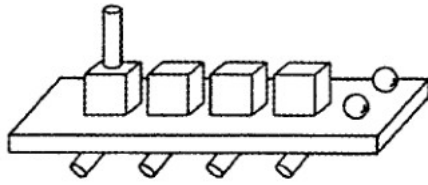
3. (5 分) 与 7 相邻的两个数是_____和_____；9 的后面的一个数是_____





，6 的前面的一个数是_____；最大的一位数是_____。

4. (2 分) 5 的前面一个数是_____，后面一个数是_____。

5. (1 分) 在 0，3，2，1，4，5 中，大于 4 的数是_____。

6. (4分)



_____ 个 , _____ 个 , _____ 个 , _____ 个 

7. (4分) 在横线上填上合适的数。

$6 + \underline{\quad} = 10$ $\underline{\quad} + 2 = 8$ $10 - \underline{\quad} = 3$ $\underline{\quad} - 3 = 4$

8. (2分) 教室里, 讲桌在我的_____面, 我用_____手写字。

三、算一算。(共 1 题; 共 12 分)

$3 + 2 =$

$5 + 2 =$

$9 - 3 =$

$7 - 5 =$

$9 - 6 =$

$7 - 4 =$

$4 + 2 =$

$1 + 5 =$

$1 + 3 + 2 =$

$9 - 3 + 2 =$

$5 + 5 - 2 =$

$3 + 5 - 3 =$

四、画一画。(共 3 题; 共 15 分)

1. (3分) 画○和△同样多。

△△△△ _____


2. (3分) 画□和☆同样多。

☆☆☆☆☆☆ _____

3. (9分) 按要求画○。



(1) (3分) ○比  多：_____

(2) (3分) ○和  同样多：_____

(3) (3分) ○比  少：_____

五、连一连。(共1题；共8分)



魔方

长方体



排球

正方体



字典



球



铅笔

圆柱

六、看一看，说一说。(共1题；共6分)

一共有_____只动物。从右数， 排第1， 排第_____， 后面有_____只动物。



七、看图列式计算。(共 1 题 ; 共 18 分)

(1) (3分)

$$\square \bigcirc \square = \square$$

(2) (3分)

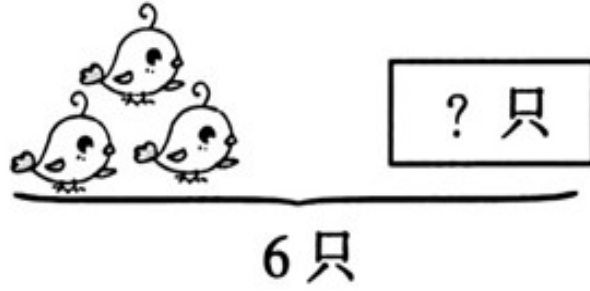
$$\square \bigcirc \square = \square$$

(3) (3分)

$$\square \bigcirc \square = \square$$

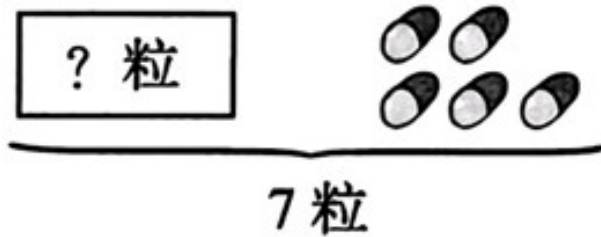
(4) (3分)

$$\square \bigcirc \square = \square$$



(5) (3分)

$$\square \bigcirc \square = \square \text{ (只)}$$



(6) (3分)

$$\square \bigcirc \square = \square \text{ (粒)}$$

八、解决问题。(共 3 题 ; 共 18 分)

1. (4分) 原有 6 只小猫，又跑来 3 只，现有几只？

$$(\quad) + (\quad) = (\quad)$$

2. (4分)



一筐苹果一共有 6 个，小胖吃了 () 个，筐里还剩几个苹果？

$$\square \bigcirc \square \quad \square = \text{(个)}$$

答：还剩 () 个。

3. (10分) 看图填空写算式。

(1) (4分) 原来有3只小猴，走了1只，还剩几只？



$$\square - \square = \square$$


(2) (6分) 还有几个气球？



有 () 个气球。



$$3 - \square = \square$$



$$2 - \square = \square$$

答案解析部分

一、【答案】5；6；8；7

二、1. 【答案】9

2. 【答案】6；8；10；5；9

3. 【答案】4；6

4. 【答案】5

5. 【答案】4；5；1；2

6. 【答案】4；6；7；7

7. 【答案】前；右

三、【答案】

$3+2=5$

$5+2=7$

$9-3=6$

$7-5=2$

$9-6=3$

$7-4=3$

$4+2=6$

$1+5=6$

$1+3+2=6$

$9-3+2=8$

$5+5-2=8$

$3+5-3=5$

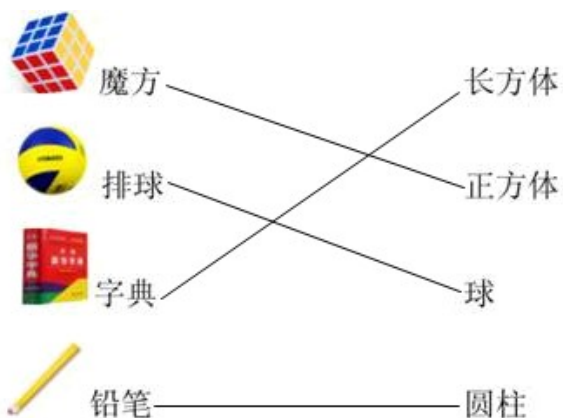
四、1. 【答案】○○○○

2. 【答案】☆☆☆☆☆☆□□□□□□

3. 【答案】(1) 解：○○○○

(2) 解：○○○

(3) 解：○○



五、【答案】

六、【答案】9 ; 6 ; 3

七、1. 【答案】(1) $4+1=5$

(2) $5-1=4$

(3) $3+1=4$

(4) $5-2=3$

(5) $6-3=3$ (只)

(6) $7-5=2$ (粒)

2. 【答案】 $6+3=9$

3. 【答案】解：如图所示：

口答：还剩4个。

八、【答案】(1) $3-1=2$

(2) 还剩0个气球。



有 (3) 个气球。



$$3 - \boxed{1} = \boxed{2}$$



$$2 - \boxed{2} = \boxed{0}$$