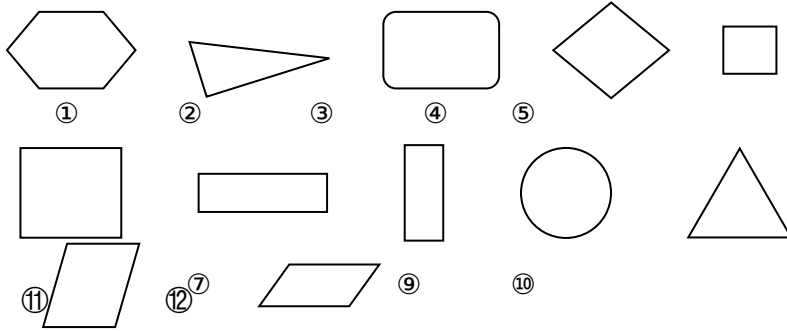


1.1 认识平面图形

一、填一填。

1. 我来选一选。



_____是长方形，_____是正方形，_____是圆，
_____是三角形，_____是平行四边形。

二、我会连。

把图形与对应的名称连起来！



正方形



平行四边形



三角形



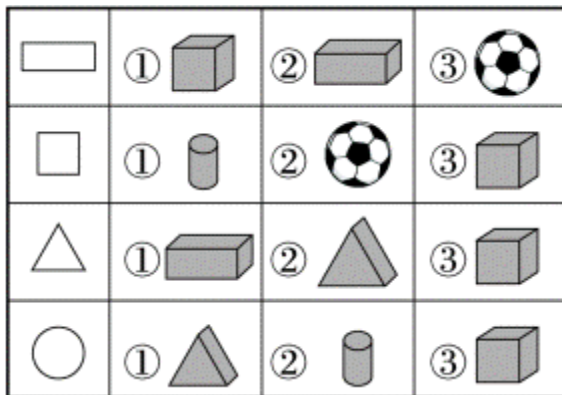
圆



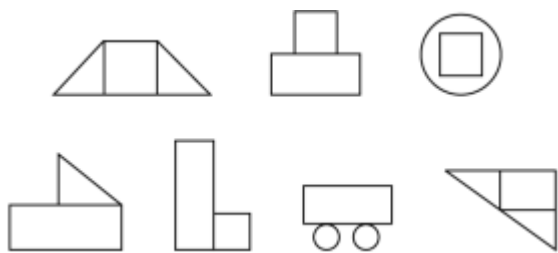
长方形

三、我

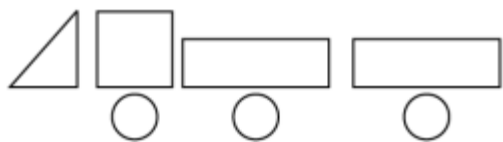
、画出左边的图形？)



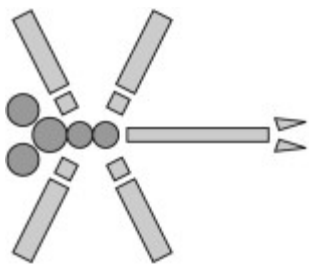
四、我会涂。(把下列图中的正方形涂上红色，长方形涂上绿色。)



五、我会数。



上图很像一辆(), 其中有()个 \triangle , ()个 \square , ()个 长方形 , ()个 \bigcirc 。



这图案像一只(), 它用了()个()形和()个()形, 以及()个()形和()个()形。

答案：

一、⑦⑧ ⑤⑥ ⑨ ②⑩ ④⑪⑫

二、略

三、② ③ ② ②

四、略

五、**1.**车 1 1 2 3 **2.**蜻蜓 5 长方 4 正方 2 三角

5 圆(顺序不唯一)