

2023-2024 年人教版一年级数学下册期中考试卷

考查范围 (第一单元到第四单元)

(时间 : 60 分钟 分数 : 100 分)

班级 : _____ 姓名 : _____ 分数 : _____

一、计算小能手 (20 分)

1、直接写得数。

$$\begin{array}{cccccc} 7+8= & 13-10= & 6+8= & 10-5= & 8+9= & \\ 0+11= & 9+7= & 3+7= & 15-10= & 7-7= & \\ 12-10= & 9+9= & 8-5= & 6+6= & 13+3= & \\ 9+0-9= & 16-6-4= & 8+6-4= & 10-3+2= & 5-5+5= & \end{array}$$

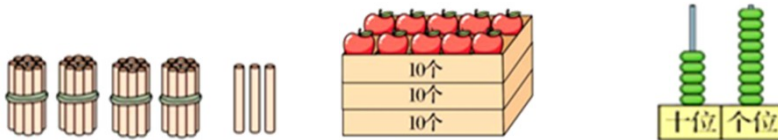
二、填空题。(共 20 分)

1、找规律填数。



2、50 里面有 () 个十, 10 个一是 () , 10 个十是 () 。

3、看图写数。



() () ()

4、一共有 () 个人在排队买票, 排在第 () , 排在第 () 。

5、下图，共有（ ）捆小棒，是（ ）个十。



6、用一张10元钱买下边一个足球，还找回（ ）元。

7、2元5角=（ ）角 48角=（ ）元（ ）角 1元=（ ）分


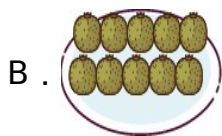

8、被减数和减数都是30，差是（ ），再加上15，和是（ ）。

9、58里面的“5”在（ ）位上，表示（ ）个（ ）。

10、小猴有15个香蕉，小象有9个香蕉，小猴给小象（ ）个香蕉，他俩的香蕉就一样多了。

三、我会选。（10分）

1、哪一盘的个数最少？（ ）。



2、停车场原来有15辆汽车，现在只有6辆，开走了（ ）辆。

A. 9

B. 10

C. 14

3、钟面上，如果时针转5圈，分钟要转（ ）圈。

A. 5

B. 12

C. 60

D. 300

4、下面最接近20的数是（ ）。

A . 23

B . 18

C . 12

5、小羊肖恩想看到冰箱的门，他应该在冰箱的哪个面看。（ ）



A . 后面

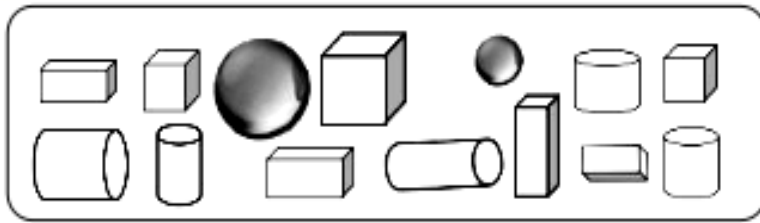
B . 左面

C . 前面

D . 右面

四、数一数，填一填。（10分）


1、



 () 个
  () 个
  () 个
  () 个

五、看图列式计算。（16分）

1、



$$\square \bigcirc \square = \square$$



$$\square \bigcirc \square \bigcirc \square = \square$$

2、



10 辆

$$\square \bigcirc \square = \square$$



? 个

$$\square \bigcirc \square = \square$$

六、解决问题。(24分)

1、兰兰和红红共扎了 42 朵花，其中有 30 朵是红色的。兰兰扎了 20 朵，红

红扎了多少朵？

2、



(1) 玩具飞机比玩具船贵多少元？

(2) 买一个蓝色的玩具汽车和一个绿色的玩具汽车一共要用多少钱？

(3) 小明付了 50 元，找回 2 元。他买了什么？

3、小刚和小红去超市买学习用品，小红买了 8 支铅笔，小刚买了 20 支铅笔，

他们两个一共买了多少只铅笔？

$$\square \bigcirc \square = \square$$


4、



(1) 红红和冬冬一共跳了多少下？

(2) 文文比冬冬多跳了多少下？

5、草地上，有 12 头老牛和 5 头小牛在吃草。



(1) 一共有多少头牛？

(2) 老牛比小牛多几头？

6、小明家有 19 只小羊，卖了 9 只，现在还有多少只？

$$\square \bigcirc \square = \square \quad (\text{只})$$

参考答案

一、计算小能手 (20分)

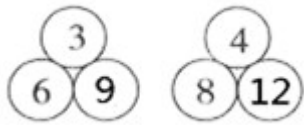
1、15 3 14 5 17

11 16 10 5 0

2 18 3 12 16

0 6 10 9 5

二、填空题。(共20分)



1、

2、5 10 100

3、43 30 59

4、5 3 5

5、6 6

6、4

7、25 48 100

8、0 15

9、+ 5 +

10、3

三、我会选。(10分)

1、C

2、A

3、C

4、B

5、C

四、数一数，填一填。（10分）

1、 2 5 3 4

五、看图列式计算。（16分）

1、 $7-3=4$ $6-3+4=7$

2、 $10-1=9$ $7+4=11$

六、解决问题。（24分）

1、22朵

2、

(1) $62-48=14$ (元)

(2) $35+26=61$ (元)

(3) $50-2=48$ (元)

小明买了玩具船。

3、 $8+20=28$ (只)

4、 (1) 29下 ; (2) 21下

5、 (1) $12+5=17$

(2) $12-5=7$

6、 $19-9=10$ (只)