

## 第七单元过关检测卷

一、细心填一填。(每空1分，共25分)

1. 先找出前几个数的规律，再接着填数。

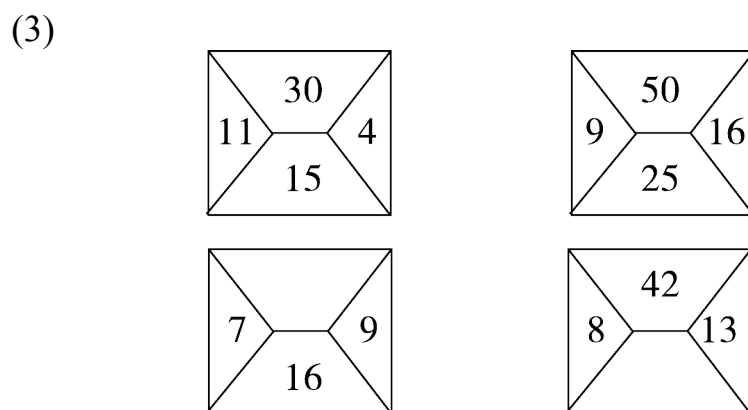
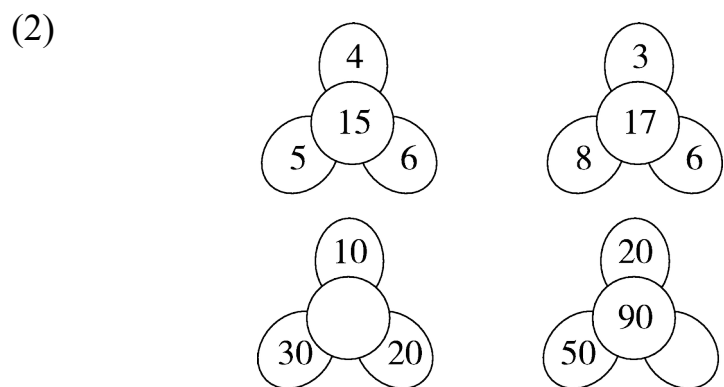
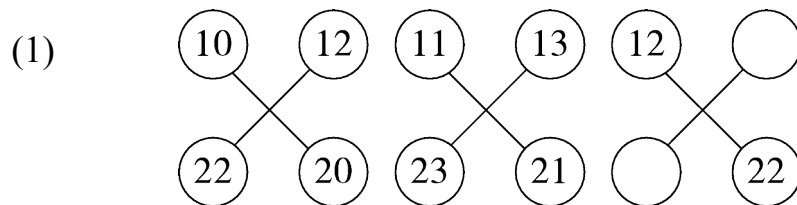
(1) 1、3、5、7、( )、( )；

(2) 5、10、15、20、( )、( )；

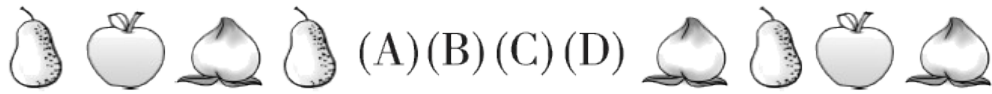
(3) 0、4、8、12、( )、( )；

(4) 10、11、12、13、( )、( )。

2. 找规律，填出空缺的数。



3. 找规律，(A)、(B)、(C)、(D)分别是什么水果？



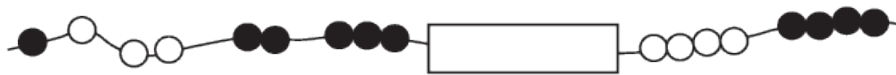
(A)表示( )

(B)表示( )

(C)表示( )

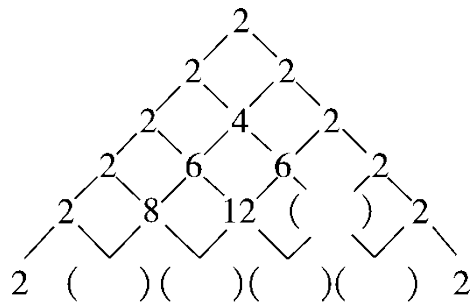
(D)表示( )

4.




找规律，被遮住的是( )色的珠子，有( )颗。

5. 有趣的数字金字塔。

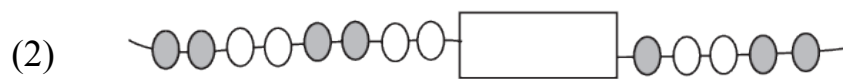
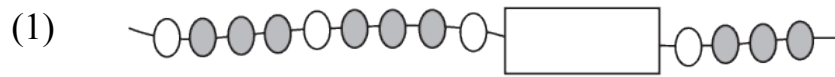


二、找规律，将方框里合适的图形圈起来。(8分)




三、动手画一画。(1题6分,2,3题每题3分,4题12分,共24分)

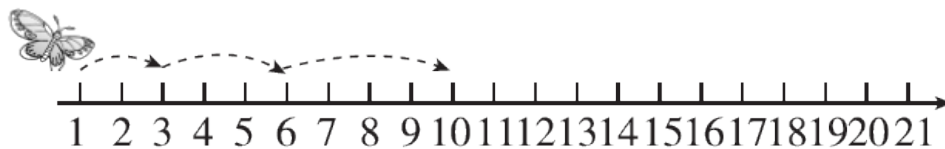
1. 画出缺少的珠子。



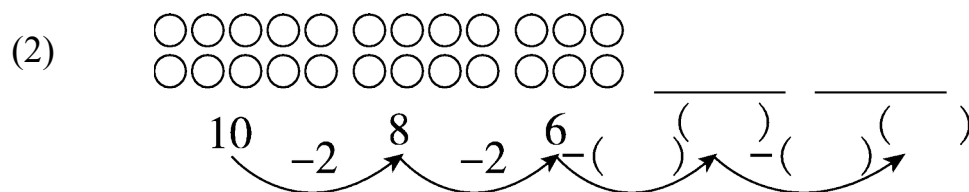
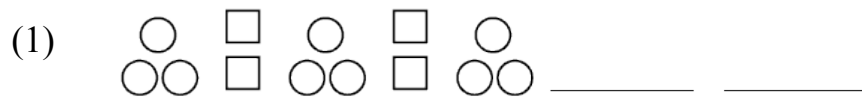
2. 按规律给最后一个钟面画上指针。

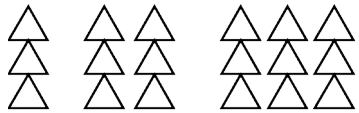


3. 蝴蝶会飞到哪些地方? 请你用线画出来。



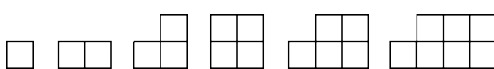
4. 找规律, 画一画, 填一填。




(3)  \_\_\_\_\_  
 ( ) ( )

四、火眼金睛。(划掉不符合规律的图形，换上正确的)(9分)

1.  \_\_\_\_\_


2.  \_\_\_\_\_

3.  \_\_\_\_\_

五、哪一行与其他三行不同？请找出来，在( )里画☺。(4分)

2	4	6	8	( )
5	6	7	8	( )
1	3	5	7	( )
3	5	7	9	( )

六、按要求解决问题。(2题4分，6题8分，1，3，4，5题每空2分，共30分)

1. 

盒子里至少有( )颗珠子，其中白珠子( )颗，黑珠子( )颗。



2. 根据百数表，填出空格里的数。

	35
	45

	47
	58

66	
76	


3 .



按此规律排下去，第20个球是（ ）球。



4 . 鸡妈妈们带小鸡们去参加晚会。



第13只鸡是（ ）鸡，这13只鸡中一共有（ ）只母鸡，有（ ）只小鸡。



5 . 小丽穿的花环不小心掉了 4 朵花。



她掉了（ ）朵，（ ）朵。

6 . 下图的方格中每行、每列都有“爱读书”这三个字，并且每行、每列的字都不一样，请把方格补充完整。

爱		
	爱	
		爱

---

## 答案

一、1. (1)9 11 (2)25 30 (3)16 20 (4)14 15


2. (1)14 24 (2)60 20 (3)32 21

3. 苹果 桃子 梨 苹果

4. 白 3

5. 8 10 20 20 10



二、圈第1朵花 圈云 圈鸭子 圈月亮

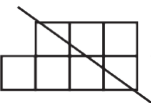

三、1. (1)  (2)  (3) 

2. 时针指9 分针指12

3. 略

4. 略

四、1.  换 

2.  换 

3.  换 

五、( ) (  ) ( ) ( )

六、1. 2 1 1

2. 44 54 36 87

3. 足

4. 母 4 9

5. 2 2

---

6. 

爱	读	书
书	爱	读
读	书	爱

 (答/么/个/时/主一)