
第四单元达标测试卷

一、我会填。(每空1分,共15分)

1.6个十和8个一合起来是(),100是由()个十组成

2.和70相邻的两个数分别是()和()。

3.一个两位数,十位上的数字是3,个位上的数字是9,这个数是()。
4.45后面第三个数是(),80前面的一个数是()。

5.比81大比85小的数有()、()、()。

6.36里面有()个十和()个一。

7.

46	47	48			51	52	
----	----	----	--	--	----	----	--

二、我会判断。(每题1分,共5分)

1.一个数的最高位是十位,这个数一定是两位数。 ()

2.44的十位上的4和个位上的4表示的意义相同。 ()

3.六十八写作:608 ()

4.写数和读数都从高位起。 ()

5.47和57十位上的数字都是7。 ()

三、选一选。(每题1分,共5分)

1.66中的两个“6”分别表示()。

A. 6个十和6个一 B. 6个十和6个百 C. 表示的意义相同

2. 在下面的数中个位是8的数是()。

A. 85 B. 58 C. 80

3. 和70最接近的数是()。

A. 75 B. 66 C. 71

4. 比45少得多的数是()。

A. 11 B. 96 C. 43

5. 个位和十位相同的数是()。

A. 23 B. 99 C. 90


四、我会算。(1题9分, 2题6分, 3题5分, 共20分)

1. 直接写出答案。

$74 - 4 =$ $5 + 40 =$ $98 - 8 =$

$30 + 8 =$ $83 - 3 =$ $49 - 40 =$

$56 - 50 =$ $60 + 7 =$ $4 + 30 =$

2. 在  里填上合适的数。

$\text{apple} + 5 = 75$

$30 + \text{apple} = 37$

$73 - \text{apple} = 70$

$$\text{苹果} - 40 = 3$$

$$81 - \text{苹果} = 1$$

$$\text{苹果} + 20 = 24$$

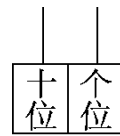
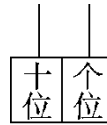
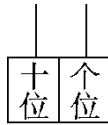
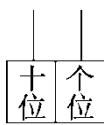
3. 排一排。

$$50 + 9 \quad 68 - 8 \quad 2 + 70 \quad 44 - 40 \quad 8 + 30$$

$$(\quad) > (\quad) > (\quad) > (\quad) > (\quad)$$

五、画一画，填一填。(8分)

你能用 5 个●摆出不同的数吗？



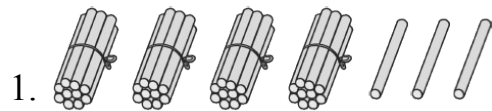
$$(\quad) \quad (\quad) \quad (\quad) \quad (\quad)$$

六、用 按要求组数。(1 题 2 分，2 题 4 分，共 6 分)

1. 组成最大的两位数是 ()，最小的两位数是 ()。

2. 把组成的所有的两位数按从小到大排列。

七、看图列式计算。(每题 4 分，共 8 分)

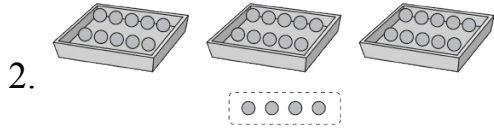


$$\square + \square = \square$$

$$\square + \square = \square$$

$$\square - \square = \square$$

$$\square - \square = \square$$




$$\square - \square = \square$$

八、猜一猜。(每题4分,共8分)



男生可能有多少名?(在合适的人数下面画“√”)

20	24	30	60



一个书包可能多少元?(在合适的钱数下面画“○”)


6	10	20	50

九、解决问题。(1题5分,4题7分,其余每题6分,共25分)

1. 先圈一圈,再回答问题。38块糖,每10块装一盒,能装满几盒?



2. 希望小学二年级 6 位老师带 40 个学生去博物馆参观。他们选择哪辆车合适？



限乘45人



限乘50人

3. 李阿姨要洗多少个碗？



我洗了40个碗，
还剩3个。

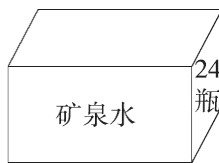


$$\square \bigcirc \square = \square \quad (\quad)$$

4.



有20名运动员
和5名教练。



每人一瓶矿泉水，
准备一箱矿泉水
够吗？



答案

一、1. 68 10 2. 69 71

3. 39 4. 48 79 5. 82 83 84

6. 3 6 7. 49 50 53

二、1. $\sqrt{\quad}$ 2. \times 3. \times 4. $\sqrt{\quad}$ 5. \times

三、1. A 2. B 3. C 4. A 5. B

四、1. 70 45 90 38

80 9 6 67 34

2. 70 7 3 43 80 4

3. $2 + 70$ $68 - 8$ $50 + 9$ $8 + 30$ $44 - 40$

五、图略 5 14 23 32

[点拨]个位不摆，十位5个就是50，个位1个，十位4个就是

41，个位2个，十位3个就是32，个位3个，十位2个就是

23，个位4个，十位1个就是14，个位5个，十位不摆就是5。

(答案不唯一)

六、1. 85 50 2. $50 < 58 < 80 < 85$

七、1. $40 + 3 = 43$ $3 + 40 = 43$

$$43 - 3 = 40 \quad 43 - 40 = 3$$

$$2. 34 - 4 = 30$$

八、1.

20	24	30	60
		√	

2.

6	10	20	50
			○

九、1. 圈一圈略 38 里面有 3 个十，能装满 3 盒。

$$2. 40 + 6 = 46(\text{人})$$

选择限乘 50 人的车合适。

$$3. 40 + 3 = 43(\text{个})$$

$$4. 20 + 5 = 25(\text{名}) \quad 24 < 25 \quad \text{不够}$$