

第六单元检测卷 (1)

一、计算题。

1.直接写出得数。

$29+30=$

$24+50=$

$88-4=$

$58+7=$

$5+67=$

$55-9=$

$24+60=$

$85-40=$

$42-7=$

$57-7=$

2.计算下面各题。

$23+5+7=$

$84-(10-8)=$

$93-(50-20)=$

$45-$

$8+40=$

$66-(20+10)=$

$58-(19-9)=$

$35-2-3=$

$49-$

$(9+3)=$

二、给得数最大的涂上红色,给得数最小的涂上蓝色。



$45+8$



$28+20$



$38+4$



$51+9$

三、在○里填上“>”“<”或“=”。

$38+20 \bigcirc 58$

$23-4 \bigcirc 20$

$74-20 \bigcirc 50+5$

$36-7 \bigcirc 28$

$85 \bigcirc 90-8$

$47+20 \bigcirc 79-9$

四、按要求做题。

1.看图列式计算。



$$(\quad) + (\quad) = (\quad) (\text{元}) \quad (\quad) + (\quad) = (\quad) (\text{元})$$





$$(\quad) - (\quad) = (\quad) (\text{元}) \quad (\quad) - (\quad) = (\quad) (\text{元})$$

2. 看图填一填。



足球比篮球少()个, 篮球比足球多()个。

五、填表。

				
原来有	21 个	36 件	78 副	
卖了	8 个	20 件		7 双
还剩			20 副	56 双

六、解决问题。

1. 买一件上衣和一条裤子一共要多少钱?



2. 客车和货车一共有多少辆?



3. 两本影集一共有 64 张照片。



30张



?张

4.妈妈带了 100 元,买一件上衣用了 30 元,买一条裙子用了 40 元。还剩多少钱?

5.三只猴子一共端来多少个桃子?



6.最多可以穿多少串?



参考答案

一、1. 59 74 84 65 72 46 84 45 35 50

2. 35 82 63 77 36 48 30 37

二、涂色略 提示:第四个涂红色,给第三个涂蓝色。

三、= < < > > <

四、1. 40 5 45 5 40 45

45 5 40 45 40 5

2. 2 2

五、13个 16件 58副 63双

六、1. $40+50=90$ (元)

2. $7+38=45$ (辆)

3. $64-30=34$ (张)

4. $100-30-40=30$ (元)或 $100-(30+40)=30$ (元)

5. $6+6+6=18$ (个)

6. 4串