

2017-2018 学年下学期重点小学二年级期末检测卷

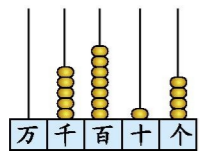
班级： 姓名： 满分：100分 考试时间：60分钟

题序	第一题	第二题	第三题	第四题	第五题	第六题	总分
得分							

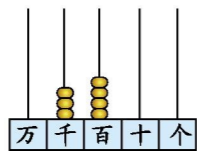
一、想一想,填一填。(31分)

1. 把 12 个○平均分,可以用算式表示不同的分法:()、()、()、()。

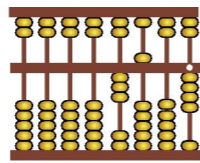
2. 看图写数、读数。



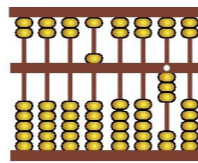
写作:()
读作:()



写作:()
读作:()



写作:()
读作:()




写作:()
读作:()

3. 一个数由 7 个千和 6 个一组成,这个数是(),它的近似数是()。
 4. 计算 $56 \div 7$ 和 $56 \div 8$ 都要用到乘法口诀()。
 5. 一个四位数,千位上是 5,十位上是 6,其他各位上的数字都是 0,这个数是()。
 6. 2 千克=()克 7000 克=()千克
 7. 用 0、2、3、6 组成最大的四位数是(),组成最小的四位数是()。
 8. 在括号里填上合适的质量单位。



300()



100()



62()



4()

9. 明明采了 28 朵花,每 6 朵插一个花瓶,至少要准备()个这样的花瓶。
 10. 甲、乙、丙三人比赛跑步,结束后,甲说:“我不是第一。”乙说:“我在甲的后面。”这次比赛他们三个的排名是:()第一,()第二,()第三。
 11. $\bigcirc \div \star = 8 \dots 6$, \star 最小是(),这时 \bigcirc 是()。

2		B
	4	
A		2
1		4

12. 在右面的方格中,每行、每列都有 1~4 这四个数,并且每个数在每行、每列都只出现一次。B 应该是()。

二、我来判一判。(对的画“○”,错的画“×”)(5分)

1. 计算 $(56-32) \div 8$ 时,要先算 $32 \div 8$ 。()
 2. 3 千克铁与 3 千克棉花一样重。()
 3. 读数时,数的中间有几个 0,就读几个 0。()
 4. 把 8 颗糖分给 4 份,每份一定是 2 颗。()
 5. $\square \div 6 = \bigcirc \dots \star$, \star 最大可能是 7。()

三、细心加油站。(23分)

1. 我能算得对又快。(8分)

$680-600=$	$340-80=$	$350+70=$	$54 \div 9=$
$48 \div 6=$	$72 \div 8=$	$5000+3000=$	$28 \div 7=$
$56 \div 8=$	$42 \div 7=$	$80 \div 9=$	$12 \div 4=$
$35 \div 7=$	$63 \div 7=$	$18 \div 9=$	$30 \div 6=$

2. 用竖式计算。(6分)


$40 \div 7=$ $57 \div 8=$ $32 \div 6=$

3. 按运算顺序计算。(9分)

$37+28 \div 4$	$54 \div 9 \times 7$	$(35+21) \div 8$
=	=	=
=	=	=

四、按要求做一做。(8分)

1. 哪些是平移现象?画“○”;哪些是旋转现象?画“×”(4分)



举杠铃
()



电梯的运动
()



风车的转动
()



拨算珠
()

2. 下面的汽车标志中,哪些是轴对称图形?在下面画“○”。(4分)



()



()




()




()

五、下面是二(3)班同学参加兴趣小组的统计情况。(9分)

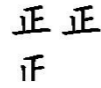
航模组



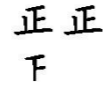
书法组



美术组



电脑组



科技组



1. 把上面统计出的数据整理到下面的表格中。

组名	航模组	书法组	美术组	电脑组	科技组
人数					

2. ()组的人数最多,()组的人数最少。

3. 电脑组比航模组多()人,比美术组少()人。

六、解决问题。(24分)

1. 小朋友们来就餐。(8分)



二(1)班有40人,每桌坐8人,能坐几桌?



二(2)班有45人,坐5桌,平均每桌坐几人?

2. 二年级有78人去春游。至少需要租几辆面包车?(4分)



限坐8人

3. 同学们想到动物园去玩,每张门票6元,50元最多能买几张票?(4分)

4. 把这些书平均分给二年级的6个班,每个班可分得多少本?(4分)



二年级买来科技书18本。



还有故事书24本。

5. 轮流报数游戏。“25”是谁报的?(4分)



期末检测卷参考答案

一、1. $12 \div 2 = 6$ $12 \div 3 = 4$ $12 \div 4 = 3$ $12 \div 6 = 2$
2. 5714 五千七百一十四 3400 三千四百 3504 三千五百零四 5003

五千零三

3. 7006 7000

4. 七八五十六

5. 5060

6. 2000 7

7. 6320 2036

8. 克 千克 千克 千克

9. 5

10. 丙 甲 乙

11. 7 62

12. 4

二、1. ×

2. □

3. ×

4. ×

5. ×

三、1. 80 260 420 6 8 9 8000 4 7 6 8.....8 3 5 9 2 5

2. $40 \div 7 = 5 \dots 5$

$$\begin{array}{r} 5 \\ 7 \overline{)40} \\ \underline{35} \\ 5 \end{array}$$

$32 \div 6 = 5 \dots 2$

$57 \div 8 = 7 \dots 1$

$$\begin{array}{r} 7 \\ 8 \overline{)57} \\ \underline{56} \\ 1 \end{array}$$

$$\begin{array}{r} 5 \\ 6 \overline{)32} \\ \underline{30} \\ 2 \end{array}$$

3. $37+28 \div 4$ $54 \div 9 \times 7$ $(35+21) \div 8$
 $=37+7$ $=6 \times 7$ $=56 \div 8$
 $=44$ $=42$ $=7$

四、1. ○ ○ × ○
 2. (○)() (○)(○)

五、1. 7 5 14 13 4
 2. 美术组 科技组
 3. 6 1

六、1. $40 \div 8 = 5$ (桌) $45 \div 5 = 9$ (人)
 2. $78 \div 8 = 9$ (辆)……6(人) $9+1=10$ (辆)
 3. $50 \div 6 = 8$ (张)……2(元)
 4. $(18+24) \div 6$
 $=42 \div 6$
 $=7$ (本)
 5. $25 \div 4 = 6$ (组)……1

“ 25”是小红报的。