

北京市名校期末测试卷

一、填一填。(每空1分,共34分)

1.  折出了()个相同的()形。

2. 60角=()元 89角=()元()角

76分=()角()分 1元=()分

3. 96里面有()个十和()个一,再加上()个一就是100。

4. 与29相邻的两个数是()和(),这两个数的和是()。




5. 一个两位数,个位上是5,十位上是6,这个两位数是()。

6. 按从小到大的顺序排列下面各数。

37 89 50 2 100 73 41

() < () < () < () < () < () < ()

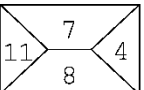
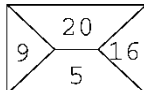
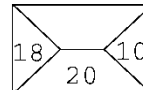
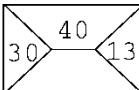
7. 98比90多(),9比16少()。

8. 一张  能换()张  或()张 .

9. 按规律填一填。

(1)       () () ()

(2) 83 81 79 77 () () ()

(3)    

二、辨一辨。(对的画“√”,错的画“×”)(每题2分,共10分)

1. 30和63两个数中的3表示的意义一样。 ()

2. 至少用 8 个相同的□可以拼成一个大正方形。 ()

3. 小明买了一本 18 元的书，他付了 2 张 9 元的钱。 ()

4. 圆是一条封闭的曲线。 ()

5. 89 添上 1 后是 90，100 减少 1 后是 99。 ()

三、选一选。(把正确答案的序号填在括号里)(每题 2 分，共 10 分)

1. 最大的一位数和最小的两位数相差()。

① 1

② 9

③ 90

2. 读数和写数都从()起。

① 个位

② 十位

③ 最高位

3. 一个一个地数，64 后面第 3 个数是()。

① 61

② 66

③ 67

4. 下面最接近 20 的数是()。

① 23

② 18

③ 12

5. 一瓶牛奶卖 4()。

① 角

② 元

③ 分

四、计算挑战。(共 21 分)

1. 看谁算得又对又快。(每题 1 分，共 12 分)

$25 + 4 =$

$72 - 2 =$

$14 - 5 - 6 =$

$68 - 20 =$

$26 + 7 =$

$81 - (47 - 7) =$

$63 - 5 =$

$51 - 8 =$

$40 + 60 - 8 =$

$24 + 8 =$

$20 + 43 =$

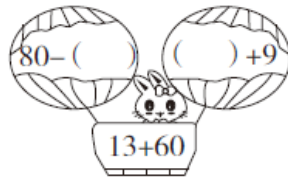

$66 - (34 + 6) =$

2. 把下面的算式按得数从小到大排列。(每空 0.5 分，共 3 分)

$56 - 30$ $9 + 56$ $88 - 6$ $30 + 26$ $47 - 7$ $45 - 9$

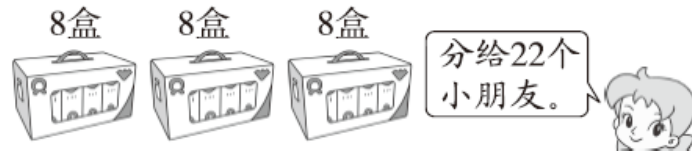
() < () < () < () < () < ()

3. 下面每组中各算式的得数相同，你能填出括号里面的数吗？(每题2分，共6分)



五、走进生活，解决问题。(每题5分，共25分)

1. 每个小朋友分一盒，这些牛奶够吗？



2. 兰兰和红红共扎了42朵花，其中有30朵是红色的。兰兰扎了20朵，红红扎了多少朵？

3.




(1) 一个熊猫玩具比一个文具盒贵多少钱？

(2) 买一个热水壶和一个文具盒共多少钱？

(3) 丽丽用 11 元刚好买了哪两样？


4. 一共有 15 人参加了堆雪人活动。



(1) 左边有 7 人，右边有几人？

(2) 男生有 9 人，女生有几人？

5. 下图是一(2)班学生最喜欢的小动物的情况。



(1) 根据上图填写下表。

					
	狮子	兔子	小熊	猴子	小象
人数					

(2) 喜欢()的人数最多, 喜欢()和()的人数同样多。




(3) 你能提出一个数学问题并解答吗?

答案

一、1.2 平行四边 2.6 8 9 7 6 100 3.9 6 4

4.30 28 58 5.65 6.2 37 41 50 73 89 100

7.8 7 8.2 5

9.(1)    (2) 75 73 71 (3) 8 3

二、1.× 2.× 3.× 4.√ 5.√

三、1.① 2.③ 3.③ 4.② 5.②

四、1.29 70 3 48 33 41 58 43 92 32 63 26

2.56-30 45-9 47-7 30+26 9+56 88-6

3.4 7 7 64 50 27

五、1. $8+8+8=24$ (盒) $24>22$ 口答：这些牛奶够。

2. $42-20=22$ (朵) 口答：红红扎了22朵。

3.(1) $17-9=8$ (元) 口答：一个熊猫玩具比一个文具盒贵8元钱。

(2) $34+9=43$ (元) 口答：买一个热水壶和一个文具盒共43元钱。

(3) $2+9=11$ (元) 口答：丽丽用11元刚好买了毽子和文具盒。

4.(1) $15-7=8$ (人) 口答：右边有8人。

(2) $15-9=6$ (人) 口答：女生有6人。

5.(1) 10 12 8 10 6 (2) 兔子 狮子 猴子

(3) 喜欢兔子的人数比喜欢猴子的多几人？

$12-10=2$ (人) 口答：喜欢兔子的人数比喜欢猴子的多2人。