

第一单元检测卷 (2)

一、连一连。

长方形

三角形

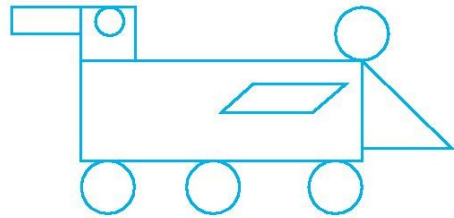
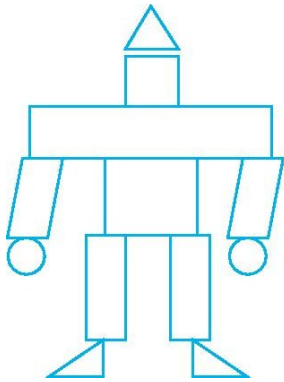
圆

正方形


平行四边形



二、涂一涂。(给长方形涂黄色,正方形涂红色,三角形涂绿色,圆涂橙色,平行四边形涂粉色)



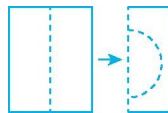
三、数一数。



() 个
 () 个
 () 个
 () 个

四、选一选。

1. 像下图一样先折后剪会得到一个 ()。

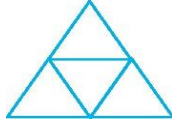


A. 圆

B. 正方形

C. 长方形

D. 平行四边形



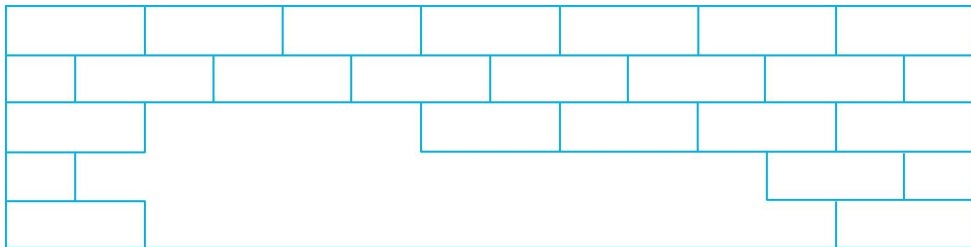
2.右图中有 () 个三角形。

- A.4 B.5 C.6 D.7

3.用 () 根相同的小棒能拼出一个正方形。

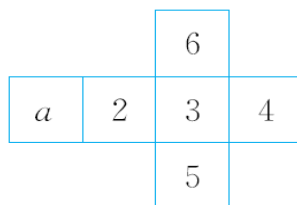
- A.2 B.3 C.4 D.5

五、填一填。



缺了 () 个

六、折一折,填一填。



1.折出来的是一个 体。

2.“a”的对面是 。

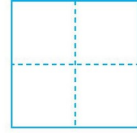

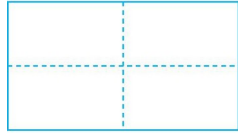
七、想一想,剪一剪。



把一张长方形纸剪成大小相等的两个图形，你能想出几种剪法？



八、折一折,连一连。

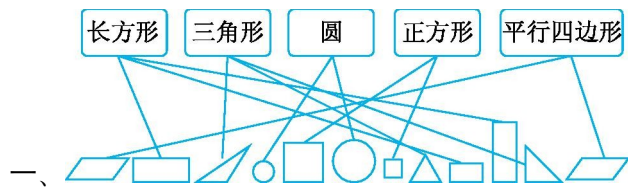


九、想一想,画一画。

用△、□、○、◇、□和○设计出一个自己喜欢的图案。

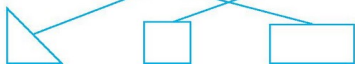
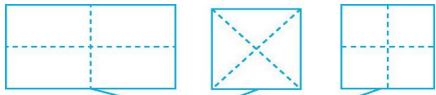


参考答案



- 一、
- 二、略
- 三、10 1 10 8
- 四、1.A 2.B 3.C
- 五、12
- 六、1.正方 2.3

七、有无数种剪法。如 。



八、

九、(答案不唯一)

