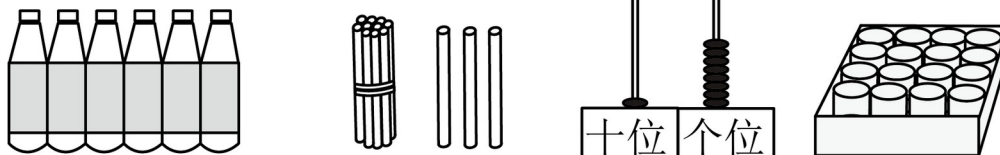


# 人教版 2024-2025 学年一年级数学上学期期末模拟试卷

## 一、填空题

1. 看图写数、读数。



写作：( )      写作：( )      写作：( )      写作：( )

读作：( )      读作：( )      读作：( )      读作：( )

2. 13 的个位上是( )，表示( )个( )；十位上是( )，表示( )个( )。

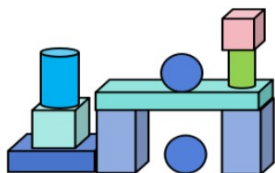
3. 17 后面连续的三个数是( )、( )、( )。

4. 小明看一本故事书，第一天从第 3 页看到了第 10 页。他第一天看了( )页，第二天从第( )页开始看。

5. 在括号里填“>”“<”或“=”。

9( )13    15( )8+6    7+4( )5+6    10-4( )9-4

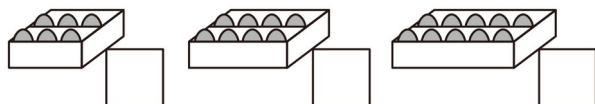
6. 图图搭了如下图形，请你数一数，填一填。



( )个 , ( )个 , ( )个 , ( )个 .


7. 两个数都是 7，它俩的和是( )，差是( )。

8. 课外兴趣小组有 8 个男生和 9 个女生，每人要分一个球，选哪两盒比较合适，在□里打“√”。



## 二、选择题

9. 小动物报数，每次减 3，小猫应报( )。

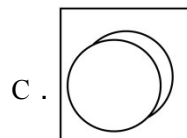
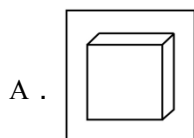


A . 2

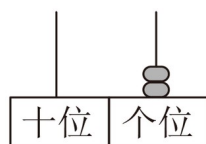
B . 1

C . 0

10 . 汽车没有安轮子，该选哪个图形做轮子？  
你来画辆小汽车吧。 ( ) 。



11 . 在下边的计数器上再拨入一颗珠子，不可能表示的数是哪个数？ ( )



A . 3

B . 13

C . 12

12 . 如果  $3 + \square > 8$  ,  $\square$  里最小填 ( ) 。

A . 5

B . 6

C . 7

13 . 妈妈买回一些苹果，小兰吃了 5 个，还剩 9 个，妈妈买回 ( ) 个。

A . 4

B . 14

C . 7

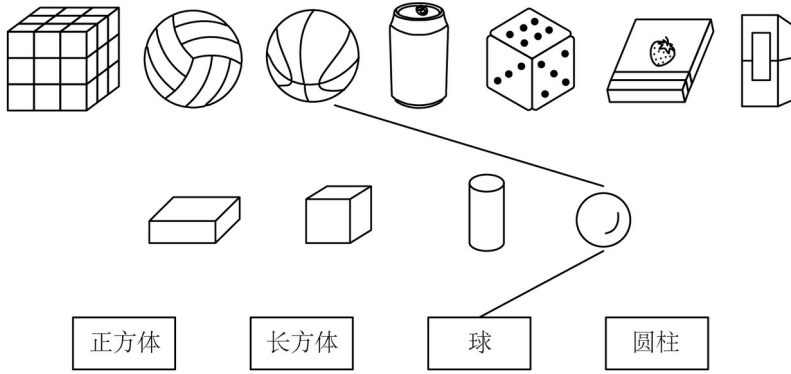
### 三、14 . 计算题

$2 + 4 =$        $8 - 6 =$        $3 + 9 =$        $5 - 3 =$        $10 - 7 =$

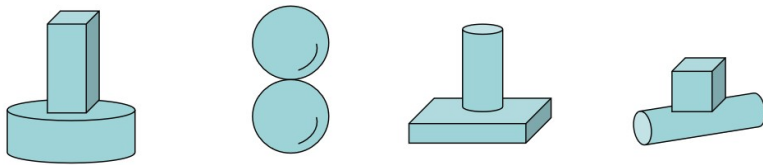
$9 - 4 =$        $5 + 7 =$        $6 - 6 =$        $6 + 9 =$        $8 + 5 =$

### 四、按要求做一做。

15 . 照样子，连一连。



16. 搭一搭,哪一组能站稳?(把能站稳的图形圈出来)



### 五、看图列式计算

17.



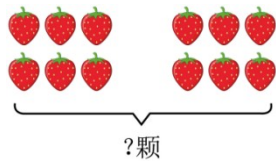
$$\square \bigcirc \square = \square \text{ (只)}$$

18. 看图写算式。



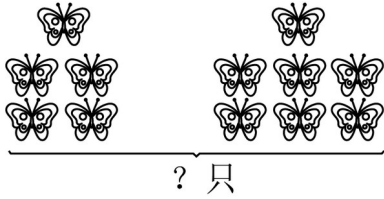
$$\square \bigcirc \square = \square \text{ (辆)}$$

19.



$$\square \bigcirc \square = \square \text{ (颗)}$$

20 .



$$\square \bigcirc \square = \square \text{ (只)}$$


### 六、解决问题。

21 . 地上有 7 个皮球，小华抱走 3 个，还剩多少个？

22 . 包书皮活动开始啦！一共有 9 本书，还剩几本没包？



23 . 电梯里原来有 6 人，出去 2 人，又进来 3 人。现在电梯里有几人？



24 . 停车场原来停着 9 辆小汽车，一小时后，又开进来 8 辆车，现在停车场里有多少辆车？

25 . 小明写了 8 个字，小红写的字和小明写的字同样多。两人一共写了多少个字？

参考答案：

1. 6 13 18 16 六 十三 十八 十六

2. 3 3 - 1 1 十

3. 18 19 20

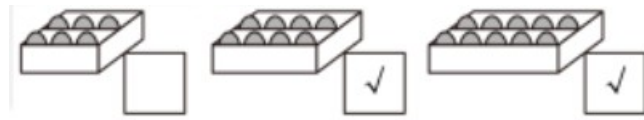
4. 8 11

5. < > = >

6. 4 2 2 2

7. 14 0

8.



9. C

10. C

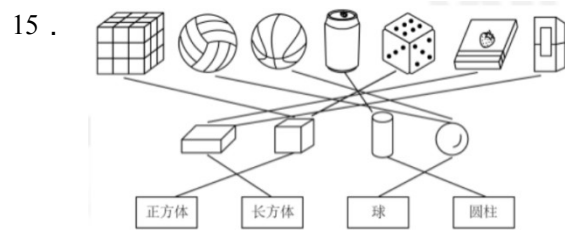
11. B

12. B

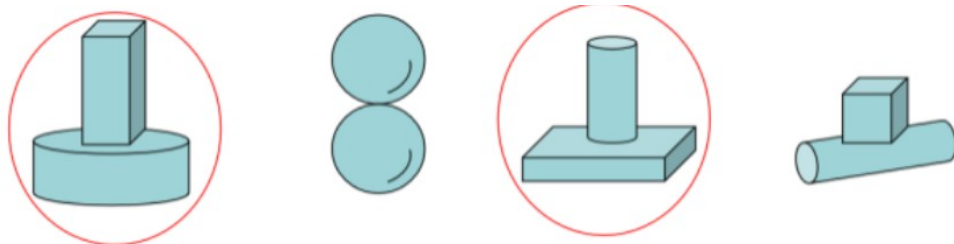
13. B

14. 6 ; 2 ; 12 ; 2 ; 3

5 ; 12 ; 0 ; 15 ; 13



16.



17.  $7 + 9 = 16$

18.  $3 + 8 = 11$  (辆)

19 .  $6+6=12$

20 .  $5+7=12$

21 .  $7-3=4$  ; 4个

22 .  $9-2=7$  ;

7 ; 7本

23 .  $6-2+3=7$  ; 7人

24 .  $9+8=17$  ; 17辆

25 .  $8+8=16$  ; 16